

التعلم الذاتي: علم نفسك بنفسك



مدرسة الحكمة الخاصة الجرف

قسم البنين الجرف

ملزمة للمراجعة على مهارات الورقة الامتحانية

الالكترونية في مادة الدراسات الاجتماعية

إعداد: الأستاذ

سامية إبراهيم

موجهة المادة

أ / وفاء حساتين



المديرة التنفيذية

أ / عائشة المطوع

مديرة المدرسة

أ / راية النقبى



- 1- يحد الولايات المتحدة الأمريكية من جهة الشمال:
 - أ - المكسيك ب - كندا ج - البرازيل د - أمريكا الجنوبية
- 2- تمتد قارة أمريكا الشمالية بين خطي طول (51 و 170 غرب خط جرينتش) احسب عدد خطوط الطول :
 - أ - 118 ب - 117 ج - 119 د - 221
- 3- يحد أمريكا الشمالية من جهة الغرب :
 - أ - البحر الكاريبي ب - المحيط الأطلسي
 - ج - المحيط الهادي د - المحيط القطبي الشمالي
- 4- أي من مما ليست من دول أمريكا الشمالية
 - أ - كندا ب - الولايات المتحدة الأمريكية ج - الأرجنتين د - المكسيك

اقرأ النص التالي ثم اجب عما يليه من أسئلة باختيار الإجابة المناسبة من بين البدائل

تلعب الأمطار دوراً مهماً في حياة جميع أنواع النبات الطبيعي وخصوصاً الحولية ، فالأمطار تعد الشريان الأول لنمو هذه النباتات ، التي تساعد في حفظ التوازن البيئي بالمنطقة المحيطة بها ، ويتجدد نمو النباتات الحولية في كل عام بعد سقوط الأمطار وذلك عن طريق نثر بذورها التي تعيش لسنوات قليلة ، ويستفاد منها كغذاء للإنسان والحيوان ومصدر للطاقة ودواء للعلاج بعض أنواع النبات الطبيعي لها خصائص تمكنها من الحصول على الماء فتد جذورها لتمتص الماء من التربة ، وتحمي نفسها من الإنسان والحيوان بتغطية أوراقها وسيقانها وأوراقها بالأشواك ، وبعضها تتطاير منها روائح تبعد عنها الحيوانات ، إلا أنها تتعرض لخطر الانقراض من قبل الإنسان بسبب تزايد استخدام السيارات والدرجات ذات الدفع الرباعي في المناطق الصحراوية ، وخطر الماشية التي تقضي على دورة حياتها .

1- النباتات التي يتجدد نموها في كل عام بعد سقوط الأمطار :

أ - النباتات المعمرة ب - النباتات المزروعة ج - النباتات الحولية د - نباتات الزينة

2- الشريان الأول لنمو النباتات البرية في دولة الإمارات العربية المتحدة :

أ - الأمطار ب - درجة الحرارة ج - الرطوبة د - التربة

3- سبب تجدد نمو النباتات الحولية كل عام

أ - قوة جذورها ب - استخدام الأساليب الحديثة في زراعتها
ج - لأنها تنثر جذورها د - وضع الأسمدة لها

4- من الأسباب التي تؤدي إلى انقراض النباتات الحولية :

أ - استخدام السيارات الدفع الرباعي في الصحراء ب - خطر الماشية التي تقضي على دورة حياتها

ج - استخدام الدرجات للترفيه في مناطق تواجد النباتات الحولية د - جميع ما ذكر

5- من الطرق التي تتخذها النباتات البرية للتحايل على المناخ القاسي والجفاف وقلة الماء :

أ - تمد جذورها لتمتص الماء من التربة ب - تطلق رائحة كريهة

ج - تغطي أوراقها بالأشواك د - تغطي نفسها بمظلة



1 - المسطح المائي الذي يحد اليابان من جهة الغرب
 - المحيط الاطلنطي - بحر اليابان - البحر الأحمر - المحيط الاطلنطي

2- تقع اليابان بين خطي طول (122 و 146 شرقا) احسب عدد خطوط الطول التي تقع عليها اليابان

24 - 34 - 44 - 54 -

مدرسة الحكمة الخاصة
 AL HIKMAH PRIVATE

3- اليابان عبارة عن أرخبيل من الجزر تحيط بها مياه
 - بحر الصين الشرقي - المحيط الهادي - المحيط الهندي - المحيط المتجمد الشمالي

4- يوجد على الخريطة احد العناصر الهامة لها ويستخدم في قياس المسافات :

- رموز الخريطة - مبين الجهات - مقياس الرسم - اطار الخريطة

5- يطلق على المنطقة التي تنشط فيها عدد من الزلازل والبراكين حول المحيط الهادي منطقة .

- حزام النار - الحزام الأخضر - الحزام الأصفر - حزام الأمان

مدرسة الحكمة الخاصة / قسم العليا بنين الجرف / الدراسات الاجتماعية / اعداد الاستاذة / سامية ابراهيم

(كان للفلج تأثير كبير في حياة الإنسان في منطقة الإمارات في حوالي عام 1000 ق.م وقد ساهمت الأفلاج في نشأت العديد من القرى والمدن وخصوصا في منطقة العين والفلج (هو قناه مائية لسحب المياه الجوفية ورفعها الى السطح وتستخدم مياهه لأغراض الشرب والزراعة وظهرت هذه الأفلاج في حقبة حضارة أم النار وقد ترتب على ذلك وجود العديد من المباني التي بنيت من لبنات الطين والملاط (عبارة عن عجينة تستخدم لسد الفراغات بين الأحجار (استخدمها سكان الامارات قديما)

1 -أدى وجود الافلاج في نشأت العديد من المدن والقرى قديما تصنف العبارة بانها :

أ- حقيقة ب- تعميم ج- توقع د - مفهوم

2 -نشأت الأفلاج في منطقة الإمارات قديما عام:

أ-3000ق.م ب-2000ق.م ج-1000ق.م د - 4000 ق.م

3 -عجينة كان يستخدمها سكان الإمارات قديمة لسد الفراغات بين الأحجار تعرف ب:

أ- الملاط ب- الأسمنت ج- الطوب د - السيراميك

4 -ظهرت الأفلاج في منطقة الإمارات قديما في حقبة حضارة :

أ-الرافدين ب-أم النار ج-الفنيقيين د - وادي النيل

5 -ظهرت المدن والقرى في منطقة الامارات قديما في مدينة:

أ-الذيد ب-خورفكان ج-العين د - شعم

تم تشييد برج خليفة كمعلم حضاري وناطقة سحب وسط مدينة دبي وافتتح بشكل رسمي في 4 يناير 2010 م ، وسمي بهذا الاسم تكريما للشيخ خليفة بن زايد آل نهيان (حفظه الله) رئيس دولة الامارات ، واطلق عليه اسم المدينة العامودية لأنه يتألف من 200 طابق منها 160 طابق سكني ، تم إكساء الهيكل الخارجي للبرج بطبقة عازلة ليكون مقاوم لحرارة الصيف ومصاعده هي الأسرع في العالم فبمقدورها إيصال الزوار إلى الطوابق العلوية بسرعة 10 متر في الثانية ، واستغرق بناءه 22 مليون ساعة عمل ، واستخدم 39 ألف طن من الحديد المسلح واشترك في بنائه 380 مهندس وفني وبلغت تكلفة بناء البرج 1.5 مليار دولار

1- سمي هذا البرج تكريما لصاحب السمو الشيخ (حفظه الله)

- زايد بن سلطان (رحمه الله) - محمد بن زايد - خليفة بن زايد - محمد بن راشد

2- أكمل برج خليفة منذ افتتاحه بشكل رسمي إلى نهاية 2020 عامه

- السابع - الثامن - التاسع - العاشر

3- أطلق على برج خليفة المدينة العامودية لأنه :

- لأنه يستوعب 53000 شخص - يتألف من 200 طابق منها 160 طابق سكني

- استغرق بنائه 22 مليون ساعة عمل - اشترك في بنائه 380 مهندس وفني

4- تم إكساء الهيكل الخارجي لبرج خليفة بطبقة عازلة ليكون مقاوم لـ :

- الحرارة - الزلازل - الضوضاء - الأعاصير

5- بلغت تكلفة بناء برج خليفة حوالي

- 1 مليار دولار - 1.5 مليار دولار - 2 مليار دولار - 2.5 مليار دولار



1- يبلغ عدد السكان اليابان مليون نسمة

120 - 126.8 - 26.7 - 125.6 -

2- عدد سكان مدينة طوكيو مليون نسمة

35 - 34 - 33 - 32 -

3- تقع اليابان في قارة

- اسيا - أوروبا - افريقيا - استراليا

4- اجمالي عدد السكان في اليابان الذين يتحدثون اللغة اليابانية%

96 - 97 - 98 - 99 -



5- سيوفر الاقتصاد الأخضر مليون وظيفة بحلول عالم 2030

24 - 23 - 22 - 21

بهدف تعزيز قيم المحبة والرحمة والتعاطف واحترام الجميع ،احتفلت دولة الامارات في السادس عشر من نوفمبر 2020 م باليوم العالمي للتسامح (نداء التعايش) وتزامنا مع عام التسامح الذي أعلنه صاحب السمو الشيخ خليفة بن زايد آل نهيان رئيس الدولة - حفظه الله - شهد العالم ولادة وثيقة الاخوة الإنسانية التي صدرت عن المؤتمر العالمي للأخوة الإنسانية الذي عقد في العاصمة أبوظبي ،ووضعت الوثيقة حجر الأساس لتنمية العلاقات الإنسانية والتحاور بين الشعوب والارتقاء بها في العالم ورفع التضدد والإرهاب والعنصرية والتطرف ومواجهة الفقر والحروب والألام التي تعاني منها العديد من مناطق العالم ، وأكد صاحب السمو الشيخ محمد بن راشد آل مكتوم (رعاه الله) أن دولة الإمارات تؤمن بالتسامح والانفتاح والتعايش مع الشعوب كافة وأن الحكمة التي ارستها الدولة منذ تأسيسها وحتى اليوم هي أن نستقوى ببعضنا وليس أن نستقوى على بعضنا وأن نتعاون ولا نتنازع مشيرا سموه إلى أن النموذج الذي تتبناه دولة الامارات لجهة التنوع البشري من خلال تعايش ثقافات تمثل أكثر من 200 جنسية على ارضها ، قال سموه (ندرك جميع الأمم والشعوب أن القوة الحقيقية والازدهار الحقيقي يأتي عبر التعاون وأن قوتنا تكمن في تنوعنا وتكاتفنا)

- 1- من المبادئ الأساسية التي تقوم عليها دولة الإمارات العربية المتحدة منذ تأسيسها
 - أ - التعايش والتعاون
 - ب - التضدد والتطرف
 - ج - العنصرية والكراهية
 - د - عدم قبول الآخر والتنوع
- 2- وقعت وثيقة الاخوة الإنسانية تزامنا مع عام :
 - أ - الخير
 - ب - القراءة
 - ج - زايد
 - د - التسامح
- 3- القوة الحقيقية للشعوب والأمم وفق رؤية صاحب السمو الشيخ محمد بن راشد (رعاه الله) يأتي من خلال :
 - أ - الصراعات والتطرف
 - ب - الاستقواء ببعضنا
 - ج - التنازع وعدم التعاون
 - د - الاستقواء على بعضنا
- 4- أن يكون الانسان متسامحا يعني أنه
 - أ - يحترم التنوع والاختلاف بين البشر
 - ب - يرفض التنوع والاختلاف بين البشر
 - ج - لا يتقبل أفكار الآخرين والتعايش معهم
 - د - غير مهتم بإخوانه في الإنسانية
- 5- من القضايا والمشكلات التي تعاني منها العديد من مناطق العالم
 - أ - السعادة
 - ب - العدالة
 - ج - الحروب
 - د - المحبة

التبادل التجاري بين دول الخليج

سنة 2017

الناتج المحلي
الإجمالي
1.5 تريليون
دولار


قيمة
التبادل التجاري
986
مليار دولار
مع العالم

صادرات دول الخليج
536 مليار دولار
واردات دول الخليج
450 مليار دولار



حجم التجارة السلعية
78.5 مليار دولار

حجم التجارة
133 مليار دولار



المصدر: المركز الاتحادي للتجارة الخارجية

1- بلغت قيمة التبادل التجاري لدول الخليج مع العالم عام 2017 مليار دولار:

أ- 133 ب- 986 ج- 536 د- 450

2 بلغ إجمالي الناتج المحلي الإجمالي لدول الخليج العربية عام 2017 تريليون دولار

أ- 1.5 ب- 5.1 ج- 1.6 د- 78.5

3 -الفرق في الزيادة بين صادرات وواردات دول الخليج العربية عام 2017 مليار دولار

أ- 68 ب- 86 ج- 84 د- 85

4- بلغ حجم التجارة السلعية لدول الخليج العربية عام 2017 78.5 مليار دولار تصنف العبارة بأنها :

أرأي ب- مفهوم ج- حقيقة د- تعميم

5 - من صنع بلادي (ليت لي في كل حله صديق) مثل إماراتي يؤكد على

أ- أهمية التعاون ب- أهمية الكرم ج- أهمية الصديق د - أهمية التسامح

مدرسة الحكمة الخاصة / قسم العليا بنين الجرف / الدراسات الاجتماعية / اعداد الاستاذة / سامية ابراهيم



1 - المسطح المائي الذي يحده أمريكا اللاتينية من جهة الغرب

- المحيط الهادي - بحر اليابان - البحر الأحمر - المحيط الاطلنطي

2- أي مما يلي ليست من دوائر العرض التي تمر في البرازيل

- مدار الجدي - خط الاستواء - مدار السرطان

3- من الدول التي تجاور البرازيل من الغرب

- بوليفيا وبيرو - جيانا - سورينام - الأرجنتين

4- من الجزر التي توجد في الجنوب :

- طناب الكبرى - جزر فوكلاند - السعديات - دلتا

5- عاصمة البرازيل

- برازيليا - بوينس آيرس - لاباز - ليما

مدرسة الحكمة الخاصة / قسم العليا بنين الجرف / الدراسات الاجتماعية / اعداد الأستاذة / سامية ابراهيم

تعدد إنجازات الشيخ زايد بن سلطان آل نهيان -رحمه الله- المؤسس لدولة الإمارات العربية المتحدة، حيث ترك إرثاً كبيراً للإماراتيين من إنجازات كبيرة على أرض الواقع. ومن ضمن جهود الشيخ زايد في مجال حماية البيئة وحماية الحيوان، الآتي:

- تم عمل مناقشة عام 1967م هي الأولى من نوعها نتج عنها اتفاقية منع صيد الصقور، وكذلك تم تجريم صيد الحيوانات بالمفرقات.
- حماية حيوان المها العربي، إذ تعد دولة الإمارات العربية من أكثر دول العالم التي حافظت على حيوان المها العربي وذلك عن طريق تجميع كل حيوانات المها الموجودة بالدول الأخرى، ثم وضعها في محمية خاصة في دولة الإمارات العربية المتحدة لحمايتها من الانقراض، وهذا ما جعل الإمارات تمتلك الآن ثلاثة آلاف حيوان من حيوانات المها العربي.
- أما عن إنجازات الشيخ زايد في حماية البيئة فقد قام بالعمل على تجميل دولة الإمارات العربية المتحدة بالأشجار دائمة الخضرة، حيث زاد عدد الأشجار آنذاك عن مائة وأربعين مليون شجرة.

1- الفكرة الرئيسية للنص :

- إنجازات الشيخ زايد رحمه الله في مجال الرعاية الاجتماعية
- إنجازات الشيخ زايد رحمه الله في مجال البيئة والحيوان
- إنجازات الشيخ زايد رحمه الله في مجال الاقتصاد
- إنجازات الشيخ زايد رحمه الله في مجال الصحة

2- من القيم السلوكية الإيجابية في النص :

- العمل المشترك
 - الانجاز
 - الانقراض
 - التعاون
- 3- إنجازات الشيخ زايد بن سلطان رحمه الله

- كبيرة
 - محدودة
 - خاصة
 - قليلة
- 4- نتج عن مناقشة عام 1967 تجريم صيد الحيوانات بـ
- اليد
 - السهم
 - الشباك
 - المفرقات

- 5- من فوائد زراعة الأشجار دائمة الخضرة
- وفرة الأخشاب
 - المنظر الجمالي
 - زيادة الحرارة
 - زيادة الري

131 مليار
دولار

حجم التبادل التجاري غير النفطي بين الإمارات واليابان

خلال 10 سنوات

أكبر الشركاء التجاريين للإمارات في العالم



الزيارات المتبادلة

أسهمت في توقيع 24 اتفاقية ومذكرة تفاهم
ترقية العلاقات بين البلدين لمستوى الاستراتيجية



الصين وبنو العظمى اليابانية

استثمارات يابانية في الإمارات:

14.3 مليار
دولار

10 آلاف شركة ووكالة وعلامة تجارية

تتركز في التكنولوجيا والطاقة المتجددة والنقل والرعاية الصحية

مدرسة الحكمة الخاصة

1- تعد أكبر الشركاء التجاريين لدولة الامارات في العالم :
- اليابان - برونائي - صربيا - البيرو

2- بلغت الاستثمارات اليابانية في دولة الامارات اكثر من
- 104 مليار دولار - 43 مليار دولار - 14 مليار دولار - 41 مليار دولار
3- تتركز اشهر العلامات التجارية اليابانية في دولة الامارات في مجال

- البنية التحتية - التكنولوجيا - الملابس - الرياضة
4- وصلت العلاقة بين دولة الامارات العربية المتحدة واليابان الى مستوى
- منخفض - متوسط - المحلية - الاستراتيجية

5- بلغ حجم التبادل التجاري غير النفطي بين الامارات واليابان خلال عشر سنوات نحو
- 133 مليار دولار - 313 مليار دولار - 131 مليار دولار - 113 مليار دولار

مدرسة الحكمة الخاصة / قسم العليا بنين الجرف / الدراسات الاجتماعية / اعداد الأستاذة / سامية ابراهيم



1- يطلق على قارة افريقيا لقب القارة :

أ - السمراء ب - البيضاء ج - الحمراء د - الصفراء

2- تقع جمهورية مصر العربية في اقصى لقارة افريقيا

أ - الشمال الشرقي ب - الشمال الغربي ج - الجنوب الشرقي د - الجنوب الغربي

3- المسطح المائي الذي يحد قارة افريقيا من جهة الغرب

أ - المحيط الهادي ب - المحيط الاطلنطي ج - المحيط الهندي د - البحر الاحمر

4 - يحد قارة افريقيا من جهة الشمال

أ - البحر المتوسط ب البحر الاحمر ج - البحر الكاريبي د - بحر عمان

3- اطول انهار قارة افريقيا والعالم

أ - نهر الفرات ب - نهر النيل ج - نهر الامازون د - نهر دجلة

مدرسة الحكمة الخاصة / قسم العليا بنين الجرف / الدراسات الاجتماعية / اعداد الامتازة / سامية ابراهيم

لاحظ الجدول الذي امامك لتطور السكان في دولة الامارات العربية المتحدة ثم اختر الإجابة الصحيحة

عام التعداد السكاني	عدد السكان
1968	180000
1975	560000
1985	1380000
1995	4200000
2005	4100000
2016	9121000

6- الفرق بين عدد السكان في دولة الامارات العربية المتحدة بين عامي (2005 و 2016)

5021000 نسمة

50210000 نسمة

- 502100 نسمة

- 50210 نسمة

7- احد اهم الأسباب التي أدت الى تضاعف سكان دولة الامارات العربية المتحدة خلال الأعوام السابقة كما يظهرها الجدول

- الترفيه

- وجود المطارات

- التنمية المستمرة

- السياحة



8- مدة الرحلة التي استغرقتها مسبار الأمل

4 أشهر - 5 أشهر - 6 أشهر - 7 أشهر

9 - المسافة التي سيقطعها مسبار الأمل

493 مليون كم - 943 مليون كم - 400 مليون كم - 450 مليون كم

10 - الكوكب الذي سيصل إليه مسبار الأمل

المشتري - عطارد - المريخ - زحل

عاشت منطقة الخليج العربي في ظل الإسلام فتره من الاستقرار وأصبحت في عهد الخلافة الأموية مركزا عالميا للملاحة والتجارة البحرية ،كما ازدهرت فيها صناعة السفن ،وفي نفس الاطار تم العثور على موقع أثري في حي جميرا بمدينة دبي يمثل بقايا مدينة إسلامية من العصر الأموي كانت تتحكم بطرق التجارة آنذاك . ومن اهم مرافق هذه المدينة الأثرية المطلة على الخليج العربي بيت الحاكم وسوق تجارية صغيرة ومرافق سكنية . ومن المدن الإسلامية المعروفة في ذلك العصر مدينة جلفار الواقعة على شاطئ الخليج العربي مدينة رأس الخيمة الحالية التي تم العثور فيها على بيوت سكنية وأربعة مساجد بنيت فوق بعضها البعض عبر الزمن وتعود الى القرن الرابع الهجري ،الموافق العاشر الميلادي .

1- أصبحت منطقة الخليج العربي مركزا عالميا للملاحة والتجارة البحرية في عهد :

أ - الخلافة العباسية ب - الخلافة الفاطمية ج - الخلافة الأموية

2- اسم قديم أطلق على إمارة رأس الخيمة حاليا :

أ - هيلي ب - جلفار ج - خورفكان

3- تم العثور على بقايا مدينة إسلامية من العصر الأموي كانت تتحكم بطرق التجارة وهي تابعة لمدينة دبي :

أ - جميرا ب - مردف ج - الممزر

4- تم العثور على أربعة مساجد بنيت فوق بعضها البعض في مدينة جلفار تعود للقرن الرابع الهجري الموافق العاشر الميلادي . تصنف هذه العبارة على انها

أ - تعميم ب - حقيقة ج - مفهوم

5- من الصناعات التي ازدهرت في منطقة الخليج العربي في العصر الأموي :

أ - صناعة السفن ب - صناعة النسيج ج - صناعة الأغذية

اقرأ النص الآتي ثم اجب عما يليه من أسئلة باختيار الإجابة المناسبة من بين البدائل الواردة

النباتات الحولية في دولة الإمارات العربية المتحدة هي تلك النباتات التي تعيش لمدة حول واحد أي سنة واحدة أو كما يشاع لموسم زراعي واحد فقط وهذا هو السبب في تسميتها بالحوليات ، حيث أنها تنمو وتنتج البذور سنويا وهي تشكل نسبة (60%) من النباتات التي تنمو شمال دولة الإمارات العربية المتحدة ، وتتسم بذور النباتات الحولية بكونها صالحة للنمو بعد مرور (5 أو 6) سنوات من عدم سقوط الأمطار . وتكمن أهمية النباتات الحولية في دولة الإمارات كونها مصدرا لغذاء الانسان والحيوان إلى جانب استخدامها كعنصر أساسي في أدوية الطب الشعبي لعلاج بعض الأمراض التي قد تصيب الانسان فضلا عن كونها مصدرا رئيسا للوقود ومواد البناء .

1- تستخدم النباتات الحولية في دولة الإمارات كعنصر أساسي في أدوية :

أ - الطب النووي ب - الطب الشعبي ج - الطب الجراحي

2- يطلق على النباتات التي تعيش لفترة زمنية قصيرة لمدة حول واحد اسم :

أ - النباتات المعمرة ب - نباتات الزينة ج - النباتات الحولية

3- تنمو كمية كبيرة من النباتات الحولية في دولة الإمارات جهة :

أ - الشمال ب - الجنوب ج - الغرب

4- يؤدي تنوع المناخ إلى تنوع النباتات الطبيعية : تصنف العبارة بأنها :

أ - تعميم ب - حقيقة ج - مفهوم

5- تشكل النباتات الحولية نسبة % من النباتات الطبيعية التي تنمو شمال دولة الإمارات :

أ - 40 ب - 70 ج - 60

اهتمت دولة الإمارات العربية المتحدة منذ نشأتها بالقطاع الصناعي وتطويره وكان هذا واضحاً من خلال المنشآت الصناعية الكبرى والضخمة التي أقامتها وأنشأتها في مجال الصناعة البترولية والبتروكيماوية ، والكيماوية وهذا كله ساعد في بناء بنية تحتية صناعية واضحة المعالم حرصاً من حكومة الإمارات على مواكبة كافة التطورات العالمية في مجال المنافسة الصناعية ، اهتمت أكثر بمجال المنافسة الصناعية المحلية بين كافة الصناعات الوطنية وكان هذا من خلال التقيد بمعايير الجودة العالمية . وكان نتيجة ذلك أن حازت العديد من المنتجات الصناعية الإماراتية على جوائز عالمية خولتها للدخول في مجال التصدير للخارج .

1- العنوان المناسب لهذه الفقرة :

أ - القطاع التعليمي في الامارات ب - القطاع الصناعي في الامارات ج - القطاع الصحي في الامارات

2- أدى اهتمام دولة الامارات بالصناعات الوطنية الإماراتية الى حصول العديد من المنتجات الوطنية على جوائز :

أ - عالمية ب - محلية ج - عربية

3- يشمل القطاع الصناعي منشآت صناعية كبرى مثل :

أ - الصناعة البترولية ب - الصناعات الكيماوية ج - جميع ما سبق

4- يؤدي الاهتمام بالأنشطة الاقتصادية المختلفة الى تطور وازدهار الدول : تصنف العبارة بأنها :

أ - تعميم ب - حقيقة ج - مفهوم

5- القيمة الأخلاقية في هذه العبارة (حرصت حكومة دولة الإمارات على مواكبة التطورات العالمية في مجال المنافسة الصناعية) :

أ - التطوير ب - التسامح ج - الاحترام

لقد ادرك المؤسسون لدولة الإمارات العربية الممتدة منذ البدايات أن مسيرة التنمية والبناء وجب ألا
تعلوا على حساب هويتنا الوطنية التي يحفظها تراثنا الشعبي الغني ، الأمر الذي رسخه المغفور له
بإذن الله ، الشيخ زايد بن سلطان آل نهيان بقوله (من ليس له ماض ، ليس له حاضر أو مستقبل)
واليوم نعيش تحديات متنامية في سبيل الحفاظ على هويتنا الوطنية في ظل تركيبة سكانية معقدة
وواقع يفرض علينا مجاراة التطور الحضري والتغيرات الاجتماعية المتلاحقة . ولا سبيل نحو
الحفاظ على هذه الهوية الوطنية سوى العمل بجد للحفاظ على تراثنا الشعبي وترسيخه في نفوس
أبنائنا ليصبح جزءا من واقع حياتهم اليومية .

- 1- (من ليس له ماض ليس له حاضر أو مستقبل) قائل هذه المقولة الشيخ ...
- زايد بن سلطان (رحمه الله) - خليفة بن زايد (حفظه الله) - محمد بن راشد (حفظه الله)
- 2- من القيم الوطنية التي ركز عليها النص السابق
- الأمانة - الهوية الوطنية - الصدق
- 3- السبيل الوحيد لكي نحافظ على هويتنا الوطنية :
- العمل بجد للحفاظ على تراثنا الشعبي - ترسيخ التراث في نفوس أبناء الإمارات
- جميع ماسبق
- 4 - الفكرة الرئيسية التي يدور حولها النص :
- الحفاظ على الهوية الوطنية مع الاهتمام بمسيرة التنمية والبناء
- خطوات قيام الاتحاد في دولة الامارات العربية المتحدة
- التركيز على التنمية والبناء دون الحفاظ على الهوية الوطني
- 5 - الشيخ زايد بن سلطان آل نهيان (رحمه الله) هو باني ومؤسس دولة الإمارات العربية
المتحدة : تصنف العبارة بأنها :
- تعميم - حقيقة - رأي - مفهوم

تقع جمهورية مصر العربية في الجزء الشمالي الشرقي من قارة أفريقيا يحدها البحر الأحمر شرقاً وليبيا غرباً والبحر المتوسط شمالاً والسودان جنوباً ولها امتداد اسويحي حيث تقع شبه جزيرة سيناء في قارة آسيا، والحضارة تعني جميع إنجازات الإنسان في مجالات الاكتشاف والاختراع والتفكير والعمل على استغلال مواردها الطبيعية للوصول إلى مستوى حياة أفضل، وتعد مصر موطننا لأقدم الحضارات القديمة على الأرض حيث تعود إلى الألفية الرابعة قبل الميلاد وكان لموقعها الجغرافي أهمية كبيرة على مر التاريخ فقد ساعدها على التواصل مع شعوب العالم وخاصة قارات العالم القديم، كما أن نهر النيل الذي يخترق الأراضي المصرية من جنوبها إلى شمالها له الفضل في بناء الحضارة المصرية القديمة التي استقرت على ضفافه واستفادت من تربته الفيضية الخصبة ونهر النيل يعد شريان الحياة للمصريين فلولاها لما قامت الزراعة ولغنى الأرض المصرية بالثروات المعدنية التي كان لها أثر كبير في بناء الأهرامات

1- تقع جمهورية مصر العربية بالنسبة لقارة أفريقيا في الجزء

- الجنوب الغربي - الشمال الشرقي - الشمال الغربي - الجنوب الشرقي

2- جميع إنجازات الإنسان في مجالات الاكتشاف والاختراع والتفكير والعمل على استغلال مواردها الطبيعية للوصول إلى مستوى حياة أفضل تعني .

- التاريخ - الآلة البخارية - الزاخرة - الحضارة

3- تعد مصر موطننا لأقدم الحضارات القديمة على الأرض، حيث تعود إلى الألفية :

- الثالثة بعد الميلاد - الرابعة قبل الميلاد - الثانية قبل الميلاد - الرابعة بعد الميلاد

4- نهر النيل يعد شريان الحياة بالنسبة للشعب المصري فلولاها قديماً لما قامت عليه :

- الزراعة - الصناعة - السياحة - الدباغة

5- لغنى الأراضي المصرية بالثروات المعدنية كان لها الأثر الكبير في بناء

- القرى - السدود - الأهرامات - المتاحف

المملكة المغربية دولة عربية تقع في أقصى الشمال الغربي لأفريقيا على أبواب أوروبا تحدها الجزائر شرقا وموريتانيا جنوبا ، وتطل بواجهتها الشمالية البحرية على كل من اسبانيا والبرتغال ، وتشرف المغرب على البحر المتوسط والمحيط الاطلنطي من جهتي الشمال والغرب ويربط بينهما مضيق جبل طارق . تعد أرض المغرب منطقة جبلية حيث تمتد جبال الأطلس من الشمال الأوسط الى الجنوب الغربي بطول 1350 كم ويعد جبل طوبقال أعلى قمة في المغرب حيث يبلغ ارتفاعه 4165 مترا وإلى الشمال توجد جبال الريف والتي بدورها تمتد 250 كم من طنجة غربا الى الناظور شرقا وفي الغرب يوجد السهل المغربي الذي يمتد عبر ساحل المحيط الأطلسي من طنجة إلى أكادير بطول 800 كم ، ثم إلى داخل البلاد عبر هضاب سايس قرب فاس وساحل الحوز قرب مراكش ، هذه التلال والسهول تعد أرضا خصبة تسهم في الناتج المحلي الوطني بنحو 15%

1- يمتد السهل المغربي في غرب المملكة المغربية بطول :

- 450 كم - 800 كم - 650 كم - 700 كم

2- ترتبط المملكة المغربية بحدود برية مع كل من .

- الجزائر وتونس - اسبانيا والبرتغال - الجزائر وموريتانيا - مصر وتونس

3- أطول سلسلة جبلية في المملكة المغربية :

AL HIKMAH PRIVATE SCHOOL

- جبال الحجر - جبال الريف - جبال الأطلس - جبال عمان

4- تسهم التلال والسهول الخصبة في المغرب بنحو 15% من

- الناتج المحلي - الدخل القومي الإجمالي - التجارة الخارجية - تجارة إعادة التصدير

5- يعد جبل طوبقال أعلى قمة جبلية في المغرب حيث يبلغ ارتفاعه 4165 مترا تصنف العبارة بأنها

- قيمة سلوكية - حقيقة - تعميم - توقع

تعتبر قبيلة (شيا) أول أسرة ظهرت في الصين قديما والتي عاشت في عام 2100 قبل الميلاد وتبعها أسرة (شانغ) التي استقرت في منطقة النهر الأصفر خلال القرن الحادي عشر قبل الميلاد ، وبدأ بعد ذلك ظهور العديد من الاسر التي حكمت الصين .أنشئت بعد ذلك أول دولة موحدة صينية بقيادة الإمبراطور (تشين) ولقب نفسه بالإمبراطور الأول ، وانتهى عهد الإمبراطورية بعد وفاته ،حكمت أسرة (هان) الصين بين عام 206 قبل الميلاد إلى 220 م وتم توسيع أراضي الإمبراطورية في حد كبير من خلال حملات عسكرية واسعة في مناطق (كوريا ، وفيتنام ، ومنغوليا ، واسيا الوسطى) وفي فترة حكمها شيد سور الصين العظيم ، وذلك لحماية المناطق الزراعية من غارات الرعاة الرحل في السهول الشمالية

1- لقب الامبراطور (تشين) نفسه بـ :

- الامبراطور العظيم - الامبراطور الأول - الامبراطور القوي - الامبراطور العبقري

2- أول اسرة حكمت بلاد الصين قديما .

- هوانغ هو - شانغ - شيا - تشو

3- ابرز إنجاز حضاري تحقق في عهد أسرة هان بناء :

- سور الصين العظيم - القصور الجميلة - الاهرامات - برج خليفة

4- استقرت أسرة شانغ التي حكمت الصين بالقرب من :

- بكين - خليج البنغال - النهر الأزرق - النهر الأصفر

5- توسعت الإمبراطورية الصينية في فترة حكم أسرة هان وشملت مناطق

- كوريا وفيتنام ومنغوليا واسيا الوسطى

- الصين واليابان وماليزيا واسيا الوسطى

- الهند وباكستان ومنغوليا واسيا الوسطى

- أفغانستان وفرنسا ومنغوليا واسيا الوسطى

أكد صاحب السمو الشيخ خليفة بن زايد رئيس الدولة - حفظه الله - أن مسيرة دولة الإمارات وتوجهاتها المستقبلية نحو ضمان الحفاظ على البيئة واستدامة مواردها الطبيعية تأتي امتداداً لإرث أجدادنا وآبائنا الذين تعاملوا مع هذه الموارد بحكمة بالغة وفي مقدمتهم القائد المؤسس ، رجل البيئة والائتماء الشيخ زايد بن سلطان (رحمه الله) الذي وجهنا بأن نأخذ من بينتنا قدر حاجتنا ، وأن نحافظ على توازنها ونترك فيها ما تجد فيه الأجيال القادمة مصدراً للخير ونبعا للعطاء . وقال سموه في كلمته بمناسبة (يوم البيئة الوطني الواحد والعشرون) الذي يصادف عام 2018 م

(نحتفي للعام الواحد والعشرين على التوالي بيوم البيئة الوطني الذي يعد مناسبة مهمة نجدد من خلالها حكومة وشعباً التزامنا الوطني والأخلاقي بالمحافظة على مواردها الطبيعية وتنميتها من أجل تحقيق أهداف التنمية المستدامة وفق رؤية الإمارات 2021م وقال سموه 0 لا يزال أماننا مستقبل حافل بالعمل وكلنا أمل في أن تتوج جهودنا بتغيرات كبيرة وجوهرية) .

1- لقب برجل البيئة والإتماء الشيخ :

أ- خليفة بن زايد ب- محمد بن زايد ج- زايد بن سلطان د - عبدالله بن زايد

2- أوصى الشيخ زايد بن سلطان آل نهيان رحمه الله في مجال البيئة :

أ- أن نأخذ منها ما نشاء ب- المحافظة على توازنها
ج- نترك ما فيها د - الاهتمام بها للأجيال القادمة فقط

3- تحتفل دولة الإمارات العربية المتحدة بيوم البيئة الوطني منذ عام :

أ- 1977 ب- 2007 ج- 1997 د - 2017

4- تأتي توجهات دولة الإمارات للمحافظة على البيئة - كما أوردتها النص - امتداداً :

أ- لإرث زايد وأجدادنا ب- لقوانين البيئة ج- للمصالح الشخصية
د - لقوانين الاحتفال بيوم البيئة

5- القيمة الأخلاقية التي عبر عنها صاحب السمو الشيخ خليفة بن زايد آل نهيان في كلمته

(كلنا أمل في أن تتوج جهودنا بتغيرات كبيرة وجوهرية) :

أ- الريح ب- التسامح ج- السعادة د - التطوير

مجلس التعاون لدول الخليج العربية منظمة إقليمية سياسية اقتصادية عسكرية أمنية ويضم الدول التالية : المملكة العربية السعودية ، دولة الإمارات العربية المتحدة ، دولة الكويت ، ومملكة البحرين ، سلطنة عمان ، دولة قطر .
وقد تأسس مجلس التعاون الخليجي في (25 مايو عام 1981 م) ولقد عقدت أول قمة خليجية في مدينة أبو ظبي برئاسة الشيخ زايد بن سلطان رحمه الله - ويتولى الأمانة العامة للمجلس حاليا (نايف الحجرف) ويتخذ المجلس من العاصمة السعودية الرياض مقرا رئيسا له

- 1- منظمة إقليمية سياسية عسكرية أمنية تضم ست دول خليجية :
أ - مجلس التعاون
ب - جامعة الدول العربية
ج - منظمة الأمم المتحدة
- 2- عقدت أول قمة خليجية برئاسة الشيخ زايد رحمه الله في مدينة :
أ - مسقط
ب - الكويت
ج - أبو ظبي
- 3- تم تأسيس مجلس التعاون الخليجي في 25 مايو عام :
أ - 1971
ب - 1981
ج - 1985
- 4- المقر الدائم لمجلس التعاون الخليجي مدينة :
أ - الرياض
ب - جدة
ج - المنامة
- 5- يترأس الأمانة العامة لمجلس التعاون الخليجي حاليا :
أ - نايف الحجرف
ب - عبد اللطيف الزياتي
ج - عبدالله يعقوب بشاره

كانت بلاد الشام خاضعة للإمبراطورية البيزنطية ، وكان السكان قبل الفتح الإسلامي يشعرون بالظلم بسبب الضرائب الباهظة التي فرضت عليهم مما سبب انتشار الفساد وتفشى السرقة والفقر والخراب ، وفقدان الأمن ومن الأمثلة التي يسوقها المؤرخون المتعلقة بالظلم الاجتماعي ، أن المسلمين عندما اضطروا للجلاء عن حمص قبل معركة اليرموك طلب أبو عبيدة من عامله على الخراج أن يعيد ما كان قد أخذه من أهل حمص إليهم واجتمع حبيب بن مسلمة بأهل حمص ورد عليهم مالهم فقالوا له : (ردكم الله إلينا ، والله لولايتكم وعدلكم أحب إلينا مما كنا فيه من الظلم) أما من الناحية الدينية فقد سادت الديانة النصرانية بلاد الشام وحصل لها ما حصل من الانقسام إلى طوائف عدة مما أدى فيما بعد إلى الاضطهاد الديني عند غالبية السكان وأما من الناحية العسكرية كانت الإمبراطورية البيزنطية تعتمد على تجنيد المرتزقة - الذين ليس لهم ولاء للدولة - للقتال في صفوف جيوشها عند قيام أي حرب مما أدى إلى توالي الخسائر في حروبهم مع الفرس .

1- كانت بلاد الشام قبيل الفتح الإسلامي تعاني من :

أ - الظلم الاجتماعي ب - الاستقرار الاجتماعي ج - الرخاء الاجتماعي

2- خضعت بلاد الشام قبل الفتح الإسلامي لحكم الإمبراطورية :

أ - الفارسية ب - البيزنطية ج - اليونانية

3- كان الإمبراطور في بلاد الشام أثناء الحرب يستعين على القتال بـ :

أ - الفلاحين ب - الأمراء ج - المرتزقة

4- انقسام الطوائف النصرانية في بلاد الشام أدى إلى وجود :

أ - الاضطهاد الديني ب - التسامح الديني ج - الرضا التام

5- رد أبو عبيد بن الجراح الأموال التي أخذها من أهل مدينة :

أ - حلب ب - دمشق ج - حمص

اهتم الباتي المؤسس بالزراعة وذلك لإيمانه أن الزراعة هي مصدر تطور وضمن استمرارية الحضارات وقد حرص على عدم قطع الأشجار عند إنشاء الطرق تحت شعار (اقطع طريقاً ولا تقطع شجرة) فلقبه الإماراتيون بـ (قاهر الصحراء) وتمكنت دولة الإمارات من حصد العديد من الجوائز بسبب انجازات الشيخ زايد في مجال الزراعة من أبرزها . تقلد وشاح رجل الإنماء والتنمية عام 1993 من جامعة الدول العربية – حمل لقب زايد رجل البيئة لعام 2000 من لبنان .

1- اهتم الشيخ زايد رحمه الله بالزراعة لاعتقاده أن الزراعة مصدر :

أ - الدواء للإنسان والحيوان
ب - الطاقة المتجددة وحماية البيئة
ج - تطور وضمن استمرارية الحضارات

2- لقب أطلقه الإماراتيون على الشيخ زايد رحمه الله في حمايته للبيئة :

أ - قاهر الصحراء
ب - خبير الصحراء
ج - صديق الصحراء

3- حصل الشيخ زايد رحمه الله علم 2000 على لقب :

أ - زايد الخير
ب - زايد رجل البيئة
ج - زايد رجل الكرم

4- حرص الشيخ زايد رحمه الله على عدم قطع الأشجار عند إنشاء الطرق إيماناً منه بشعار :

أ - اقطع طريقاً ولا تقطع شجرة
ب - ازرع شجرة تحيي أمة
ج - من زرع حصد ومن سار على الدرب وصل

5- منح الشيخ زايد رحمه الله وشاح رجل الإنماء والتنمية عام 1993 من قبل

أ - منظمة الفاو
ب - جامعة الدول العربية
ج - منظمة اليونسكو

تولي دولة الإمارات العربية المتحدة اهتماما كبيرا لتمكين المرأة اقتصاديا واجتماعيا وسياسيا باعتبارها الشريك الأول للرجل وتحتفل دولة الإمارات كل عام في (28 أغسطس) بيوم المرأة الإماراتية وقد اصدر صاحب السمو الشيخ خليفة بن زايد آل نهيان رئيس الدولة - حفظه الله - في سنة 2019م قرارا تم فيه رفع نسبة تمثيل المرأة الاماراتية في المجلس الوطني الاتحادي إلى 50% ، وأشارت سمو الشيخة فاطمة بنت مبارك - حفظها الله - رئيسة الاتحاد النسائي أن هذا القرار سينقل المرأة للمشاركة سياسيا في العديد من المجالات أهمها القضاء والسلك الدبلوماسي والتمثيل الخارجي والاقتصادي وقد سجلت دولة الإمارات سبقا تاريخية لتمكين المرأة على مستوى المنطقة أبرزها انتخاب أول امرأة كرئيسة للمجلس الوطني الاتحادي ووجود تسع وزيرات في الحكومة من بينهن أصغر وزيرة في العالم تسلمت حقيبة الشباب

1 - أصغر وزيرة في العالم تم تعيينها في دولة الامارات العربية المتحدة وتسلمت حقيبة :

أ - المجتمع ب - الشباب ج - الأسرة والطفولة د - الاعلام

2 - تحتفل دولة الامارات كل عام بيوم المرأة الإماراتية والذي يصادف يوم

أ - 26 اغسطس ب - 27 أغسطس ج - 28 أغسطس د - 29 أغسطس

3 - تم رفع نسبة مشاركة المرأة الإماراتية في المجلس الوطني الاتحادي إلى 50% في عام

أ - 2008م ب - 2012م ج - 2016م د - 2019م

4 - بلغ عدد الوزارات في الحكومة الاتحادية لدولة الإمارات العربية المتحدة في آخر تشكيل وزاري

أ - 7 ب - 8 ج - 9 د - 10

5 - سجلت دولة الإمارات سبقا تاريخية لتمكين المرأة على مستوى المنطقة أبرزها رئيسة :

أ - المجلس الوطني الاتحادي ب - القضاء ج - مجلس الوزراء

د - المجلس الأعلى للأسرة

يعد نبات القرم أحد النباتات الذي يتم زراعة بذوره في التربة الساحلية وهو نبات مقاوم للملوحة والحرارة العالية وتتميز أشجار القرم بأنه دائمة الخضرة على مدار السنة وتتبع الأشجار الموجودة في الدولة نوعا واحدا (القرم الرمادي) وتمتلك أبو ظبي (85 %) من أشجار القرم ولها فوائد كثيرة منها أنها حاضنة للأسماك والربيان وحامية للشواطئ من الانجراف والتآكل

1- يتم زراعة بذور نبات القرم في التربة :

أ - الرملية ب - الحصوية ج - الساحلية

2- تتميز أشجار القرم في دولة الإمارات بـ :

أ - خضرتها الدائمة ب - ثمارها اللذيذة ج - كثرة اشواكها

3- أشجار القرم من الأشجار المقاومة للملوحة الشديدة ودرجة الحرارة العالية تصنف العبارة على انها

أ - تعميم ب - حقيقة ج - رأي

4- تمتلك إمارة أبو ظبي نسبة % من أشجار القرم :

أ - 50 ب - 20 ج - 85

5- تتبع أشجار القرم نوعا واحدا في دولة الإمارات هو :

أ - القرم الرمادي ب - القرم الأحمر ج - القرم الأصفر

"لعبت دولة الإمارات العربية المتحدة دورا كبيرا في مجال حفظ التوازن البيئي وذلك من خلال إنشاء المحميات الطبيعية البرية والبحرية ومن الأسباب التي دفعت دولة الإمارات إلى إقامة المحميات هو إعادة التوازن البيئي وقد بلغ عدد المحميات المعلنة (15) محمية منها ست محميات برية مثل (الوثبة وحتا وند الشبا) في حين يبلغ عدد المحميات البحرية سبع محميات منها (صير بو نعير-البديّة) وإلى جانب هذه المحميات توجد محميات معلنتان رسميا هي محمية جبل علي في دبي ومحمية خور عجمان (الزوراء)"

1-بلغ عدد المحميات المعلن عنها في دولة الإمارات العربية المتحدة.....محمية

أ- 15

ب-12

ج-10

2-من المحميات المعلن عنها في إمارة عجمان محمية.....

أ- جبل علي

ب-الزوراء

ج-حتا

3-انشاء دولة الإمارات العربية المتحدة للمحميات الطبيعية أدى الى المحافظة على التوازن البيئي هذه العبارة تعد:

أ- توقع

ب-حقيقة

ج-تعميم

4-من المحميات البرية المعلن عنها في دولة الإمارات العربية المتحدة محمية.....

أ- نند الشبا

ب-صير بو نعير

ج-البديّة

5-يبلغ عدد المحميات البحرية في دولة الإمارات العربية المتحدة.....محمية

أ- 6

ب-7

ج-8

تؤكد الوثائق التاريخية كلها عروبة الجزر الإماراتية الثلاث (طنب الكبرى - طنب الصغرى - أبو موسى) وأنها جزأ لا يتجزأ من أرض دولة الإمارات العربية المتحدة وتعود ملكية الجزيرتين طنب الكبرى وطنب الصغرى لإمارة رأس الخيمة ، أما جزيرة أبو موسى فتعود ملكيتها لإمارة الشارقة ، وقد أقدمت إيران في (30 نوفمبر 1971م) لأسباب إستراتيجية واقتصادية على احتلالها ، وحملت الجامعة العربية بريطانيا مسؤولية احتلال إيران للجزر الإماراتية الثلاث لتخليها عن التزاماتها الدولية ويشهد التاريخ على أن الاحتلال الإيراني لجزيرة طنب الكبرى قد وقع بعد معركة ضارية بين بواسل الشرطة القلائل الذين كانوا يتولون الحراسة في الجزر الثلاث وسقط سالم سهيل خميس كأول الشهداء الذين رووا بدمائهم الزكية تراب الوطن ومنذ قيام الاتحاد 2 ديسمبر 1971م وتعمل دولة الإمارات على استرجاع الجزر بالطرق السلمية والقبول بإحالة القضية إلى محكمة العدل الدولية .

1- حملت جامعة الدول العربية مسؤولية احتلال الجزر الاماراتية لدولة :

أ - فرنسا ب - بريطانيا ج - ألمانيا

2- تعود ملكية جزيرة طنب الكبرى إلى إمارة :

أ - رأس الخيمة ب - عجمان ج - الشارقة

3- احتلت إيران الجزر الاماراتية الثلاث قبل الاتحاد بـ :

أ - خمسة أيام ب - شهر ج - يومين

4- دعت دولة الإمارات إيران لحل قضية الجزر بالطرق السلمية بما في ذلك القبول بإحالة قضية الجزر إلى :

أ - الأمم المتحدة ب - محكمة العدل الدولية ج - المحكمة الجنائية الدولية

اقرأ الفقرة الواردة قراءة تحليلية ، ثم اجب على الاسئلة التالية

بدأ مفهوم التنمية البشرية يتضح عقب انتهاء الحرب العالمية الثانية وخروج البلدان التي شاركت في الحرب مصدومة من الدمار البشري والاقتصادي الهائل وخاصة الدول الخاسرة . فبدأ بعدها تطور مفهوم التنمية الاقتصادية وواكبتها ظهور التنمية البشرية لسرعة إنجاز التنمية لتحقيق سرعة الخروج من النفق المظلم والدمار الشامل الذي لحق بالبلاد بسبب الحروب . ومن هذا التاريخ بدأت هيئة الأمم المتحدة تنتهج سياسة التنمية البشرية مع الدول الفقيرة لمساعدتها في الخروج من حالة الفقر التي تعاني منها واستخدمت الأمم المتحدة دليل التنمية البشرية التي تصدره سنويا ويركز على ثلاث مؤشرات أساسية لقياس التنمية البشرية وهي المستوى الصحي والتعليمي ومستوى الدخل وقد حلت دولة الامارات العربية المتحدة ضمن المجموعة المرتفعة جدا

1- عملية توسيع القدرات التعليمية والخبرات للشعوب بهدف أن يصل الانسان الى مستوى مرتفع من الإنتاج والدخل تسمى :

أ - التنمية المستدامة ب - التنمية البشرية ج - التنمية الاجتماعية د - التنمية السياحية

2- بدأ مفهوم التنمية البشرية يتضح عقب انتهاء الحرب العالمية :

أ - الأولى ب - الثالثة ج - الرابعة د - الثانية

3- هيئة عالمية انتهجت سياسة التنمية البشرية مع الدول الفقيرة لمساعدتها في الخروج من حالة الفقر :

أ - الأمم المتحدة ب - اليونسكو ج - الفاو د - اليونسيف

4- حلت دولة الامارات العربية المتحدة في مجال التنمية البشرية ضمن المجموعة :

أ - المتوسطة ب - المرتفعة جدا ج - الجيدة د - المرتفعة

5- أي من مما يلي ليست من المؤشرات الأساسية للتنمية البشرية :

أ - المستوى الصحي ب - المستوى السياسي ج - المستوى التعليمي د - مستوى الدخل

6- أصدرت هيئة الأمم المتحدة عام 2015م مؤشرها السنوي للتنمية البشرية تحت عنوان (التنمية في كل عمل) هذه العبارة تصنف :

أ - حقيقة ب - تعميم ج - رأي د - مفهوم

مدرسة الحكمة الخاصة / قسم العليا بنين الجرف / الدراسات الاجتماعية / اعداد الأستاذة / سامية ابراهيم

دبي الذكية.. دور مؤثر في التحول الرقمي

90%

نسبة انتشار الإنترنت في دولة الإمارات العربية المتحدة

إعداد : وحيد حلاوة - غرافيك : أحمد عباس
تلعب مبادرة تحول دبي لحديثة ذكية دوراً مؤثراً في التحول الرقمي، حيث توفر أعلى مستوى سعادة للعيش والعمل فيها وتؤثر تجربة "دبي الذكية" على عمليات التحول المعاصرة الجارية في 122 مدينة في العالم العربي والتي تستهدف 223 مليون فرد.



32

تحتل الدولة المرتبة 32 في مؤشر تطوير تكنولوجيا المعلومات والاتصالات

البيانات

3.5

ملايين مستخدم وسائل التواصل الاجتماعي في دبي

70%

من السكان في الدولة نشطون على وسائل الإعلام الاجتماعية في جميع مناحي الحياة

117%

انتشار مشغلي الهاتف النقال في الدولة يقرب من 117% نسبة لعدد السكان

1-تبلغ نسبة انتشار الانترنت في دولة الامارات العربية المتحدة:

ج-100%

ب-90%

أ-80%

2-تؤثر تجربة دبي الذكية علي عمليات التحول المعائلة الجارية في العالم العربي والتي تستهدف

ج-23 مليون فرد

ب-22 مليون فرد

أ-21 مليون فرد

3-تبلغ نسبة مشاركة سكان دولة الامارات النشطة علي وسائل الاعلام في جميع مناحي الحياة

ج-70%

ب-60%

أ-50%

4-تحتل دولة الامارات في مؤشر تطوير تكنولوجيا المعلومات والاتصالات المرتبة

ج-34

ب-33

أ-32

5-يبلغ عدد مستخدمي وسائل التواصل الاجتماعي في دبي الي.....مليون

ج-4.5

ب-3.5

أ-2.5

مدرسة الحكمة الخاصة / قسم العليا بنين الجرف / الدراسات الاجتماعية / اعداد الاستاذة / سامية ابراهيم

أضاف مشروع (كلمة) التابع لهيئة أبوظبي للثقافة والتراث انجازا جديدا لفوزه بجائزة خادم الحرمين الشريفين الملك عبدالله بن عبدالعزيز للترجمة في دورتها الخامسة وذلك في مجال جهود المؤسسات والهيئات ولما تميز به من غزارة الانتاج المترجم ، حيث صدر عنه اكثر من (500) عنوان من عدة لغات مثل : الفرنسية والانجليزية والالمانية والصينية وغيرها واتسمت الاعمال المترجمة في مجملها بجودة النص ووضوح المعاني مشروع (كلمة) يحترم حقوق الملكية الفكرية ويهتم ببناء الشراكة الاستراتيجية مع المؤسسات والهيئات المعنية بالترجمة، بل اطلق مشروع (كلمة) في عام 2010م مبادرة (جسور) لدعم الناشرين العرب ويأتي هذا التتويج لمشروع (كلمة) ليؤكد المبررات التي وقفت خلف اطلاقه أواخر عام 2007 م من اجل التصدي لمشكلة مزمنة عمرها الف سنة ... إنها النقص الذي تعاني منه حركة الترجمة في العالم العربي والذي يتمثل في ندرة الكتب المتميزة المترجمة من اللغات الأخرى الى اللغة العربية وقد أدى هذا النقص الى حرمان القراء العرب من الاستمتاع بأعظم اعمال المفكرين والمؤلفين على مر التاريخ وحرمانهم من الاستمتاع بها ، يسير مشروع (كلمة) على خطى الحركة العلمية في العصر الذهبي للحضارة العربية الإسلامية إبان العصر العباسي الأول فقد كان لترجمة مؤلفات الحضارة الاغريقية والحضارات الأخرى الى العربية دور في نجاح الحركة وازدهارها .

يبين الجدول أعداد المؤلفين العرب في ذلك العصر :

القرن	السابع	الثامن	التاسع	العاشر	الحادي عشر	الثاني عشر
عدد المؤلفين	18	217	731	1013	948	974
النسبة %	8.0	4.3	14.7	20.3	19.0	19.5

1- أي من الهيئات التالية يتبعها مشروع كلمة
 أ- أبوظبي للتبريد ب- أبوظبي للثقافة ج- أبوظبي للصحة د- أبوظبي للثقافة والتراث

2- أي من الأعداد التالية يشير إلى كم الأعمال المترجمة عن مشروع كلمة :

أ- 500 ب- 450 ج- 365 د- 499

3- أي من المبادرات التي أطلقها مشروع كلمة لدعم الناشرين العرب:

أ- كسور ب- نسور ج- سور د- جسور

4- أي من الدول التالية كان فيها الذهبي للحضارة الإسلامية :

أ- الدولة الاموية ب- الدولة السلجوقية ج- الدولة العباسية د- الدولة العثمانية

5- أي من القرون التالية عدد المؤلفين فيها اقل من عدد المؤلفين في القرن العاشر :

أ- التاسع والثامن والسابع ب- الثاني عشر والتاسع ج- الثاني عشر والحادي عشر د- الحادي عشر

والثامن

6- نسبة المؤلفين في القرن الحادي عشر تتساوى مع نسبة المؤلفين في القرن :

أ- التاسع والثامن ب- الثاني عشر ج- السابع والتاسع د- السابع والثامن

7- أي من مما يلي تصف هذه العبارة (تم اطلاق مبادرة جسور عام 2010 م) :

أ- مفهوم ب- قيمة سلوكية ج- حقيقة د- تعميم

مدرسة الحكمة الخاصة / قسم العليا بنين الجرف / الدراسات الاجتماعية / اعداد الاستاذة / سامية ابراهيم

8- أي من الكلمات التالية تصف اعداد المؤلفين العرب في القرون المختلفة :

أ- زيادة ب- نقص ج- مستقرة د - متذبذبة

9- فاز مشروع كلمة للترجمة بجائزة خادم الحرمين الشريفين الملك :

أ- فهد بن عبدالعزيز ب- عبدالله بن عبدالعزيز ج- سلمان بن عبدالعزيز

متحف اللوفر أبو ظبي تحفة معمارية ومفخرة ثقافية ومحطة فنية تجمع الشرق بالغرب باريس وهي عاصمة النور الغربية وهي عاصمة فرنسا وأكبر مدنها من حيث عدد السكان تقع على ضفاف نهر السين في الجزء الشمالي من البلاد فقد شهدت اهم الاحداث السياسية على مر التاريخ واشهرها الثورة الفرنسية وتمتلك باريس مجموعة من المتاحف والمعالم الاثرية التي بنين على مر التاريخ مثل برج أيفل وقوس النصر ومتحف اللوفر وقصر فرساي أما عاصمة النور الشرقية أبو ظبي عاصمة دولة الإمارات العربية المتحدة وهي أكبر الإمارات من حيث المساحة وعدد السكان حاكمها صاحب السمو الشيخ خليفة بن زايد آل نهيان - حفظه الله - فقد تم توقيع اتفاقية بين حكومتي كل من دولة الإمارات العربية المتحدة والجمهورية الفرنسية في عام 2007 م على إنشاء أول متحف عالمي في العالم العربي وهو متحف اللوفر أبو ظبي بالتعاون مع متحف اللوفر باريس في جزيرة السعديات تبلغ مساحة متحف اللوفر أبو ظبي (97 الف كم2) وقد تم افتتاحه في (11 نوفمبر 2017 م) إن متحف اللوفر أبو ظبي يوجه رسالة للعام وهي :القدرة على صنع الأمل لشعوب المنطقة ، ومحاربة الظلام بالنور والجهل بالفنون ، ومحاربة الانغلاق بالإبداع والتطرف الفكري بالجمال الفني الذي أبدعته البشرية منذ آلاف السنين (المصدر كتاب الصف التاسع الدراسات الاجتماعية)

1- تحفة معمارية ومفخرة ثقافية ومحطة فنية تجمع الشرق بالغرب :

أ - متحف التاريخ الطبيعي ب - متحف اللوفر أبو ظبي ج - متحف عجمان

2- تبلغ مساحة اللوفر أبو ظبي (97 الف كم2) تعتبر هذه العبارة :

أ - رأي ب - تعميم ج - حقيقة

3- تم انشاء متحف اللوفر أبو ظبي في جزيرة

أ - السعديات ب - أبو موسى ج - داس

4- شهدت عاصمة النور الغربية باريس اشهر الاحداث السياسية وهي :

أ - ثورة 23 يوليو 1952 ب - الثورة الفرنسية ج - ثورة البرامكة

5- ما الرسائل التي يوجها متحف اللوفر أبو ظبي للعالم :

أ / محاربة الظلام بالنور ب - محاربة الانغلاق بالأبداع والتطرف الفكري بالجمال

- ج (أ و ب معا)

تطورت العلاقات الثنائية بين دولة الإمارات وجمهورية كوريا الجنوبية في عدة مجالات حيوية انطلاقاً من حرص قيادتي البلدين على توسيع الشراكة الاستراتيجية فقد قام صاحب السمو الشيخ محمد بن زايد آل نهيان حفظه الله بزيارة إلى جمهورية كوريا الجنوبية عام 2010 م في أعقاب توقيع عقد معها لبناء أربعة مفاعلات للطاقة النووية السلمية وتوفير طاقة مستدامة وصديقة للبيئة في دولة الإمارات بمنطقة (براكه) والتي تبعد حوالي (53) كيلو متراً إلى الجنوب الغربي من مدينة الرويس في الظفرة بأبوظبي التي تم اختيارها من قبل مؤسسة الإمارات للطاقة النووية ومن العوامل التي أسهمت في اختيار الموقع : البعد عن المناطق السكنية ، تاريخ الزلازل في المنطقة ، توافر موارد المياه .

براكه طاقة نووية آمنة وصديقة للبيئة وخالية من الانبعاثات الكربونية ستوفر (5600) ميغاوات من الكهرباء قدرتها الإنتاجية الكاملة وتقوم دولة الإمارات بتحضير قيادات إماراتية لتشغيل محطة براكه النووية سيتم اخضاع (500) من الإماراتيين للتدريب على إنتاج الطاقة النووية وقد تم افتتاح المرحلة الأولى في شهر

1- مشروع براكه للطاقة النووية السلمية ثمرة تعاون بين دولة الامارات العربية المتحدة و دولة

ج - اليابان

ب - الصين

أ - كوريا الجنوبية

2- تم عقد توقيع عقد بناء أربعة مفاعلات للطاقة النووية السلمية عام 2010م عقب زيارة.....لكوريا الجنوبية

ج - الشيخ عبدالله بن زايد

ب - الشيخ محمد بن زايد

أ - الشيخ محمد بن راشد

3- القدرة الإنتاجية لمشروع براكه من إنتاج الطاقة الكهربائية ميغاوات :
أ - 5000 ب - 4600 ج - 5600

4- تم افتتاح المرحلة الأولى لمشروع براكه في شهر فبراير عام م :
أ - 2019 ب - 2020 ج - 2018

5- من أسباب اختيار موقع براكه لإقامة المفاعل النووي السلمي فيه :

ج - (أ و ب معا)

ب - توافر موارد المياه

أ - البعد عن المناطق السكنية

التنمية المستدامة : هي عملية تطوير الأرض والمدن والمجتمعات وكذلك الأعمال التجارية بشرط ان تلبي احتياجات الحاضر دون المساس بقدرة الأجيال القادمة على تلبية حاجاتها . ويواجه العالم خطورة التدهور البيئي الذي يجب التغلب عليه مع عدم التخلي عن حاجات التنمية الاقتصادية والمساواة والعدل الاجتماعي ومن ابرز مجالاتها : تحسين ظروف المعيشة لجميع الافراد دون زيادة استخدام الموارد الطبيعية إلى ما يتجاوز قدرة كوكب الأرض على التحمل وتجرى التنمية المستدامة في ثلاثة مجالات رئيسة هي النمو الاقتصادي ، وحفظ الموارد الطبيعية والبيئية ، والتنمية الاجتماعية ، واهم التحديات التي تواجه هذه التنمية هي القضاء على الفقر من خلال التشجيع على اتباع أنماط إنتاج واستهلاك متوازنة دون الافراط في الاعتماد على الموارد الطبيعية واستنزافها وتتلخص اهداف التنمية المستدامة في التركيز على إنهاء الفقر والجوع بمختلف أشكاله وتحقيق الامن الغذائي ، والرفاه للجميع ، وتوفير المياه ، وضمان الحصول على الطاقة النظيفة بأسعار مناسبة للجميع ، والسعي لتحقيق النمو الاقتصادي النامي والشامل والمستدام والاستخدام المسنول للموارد هذا الى جانب التدخل العاجل لمكافحة التغير

1- ما المقصود بالتنمية المستدامة:

- أ - اجتثاث الغابات والمساحات الخضراء
- ب - استخدام الموارد لتلبية احتياجات السكان دون تدهورها
- ج - استخدام مصادر الطاقة النظيفة والمتجددة
- د - الاعتماد على الموارد الطبيعية لتلبية الاحتياجات كافة

2- ما المشكلة الرئيسية الواردة في الفقرة:

- أ - التهور البيئي واستنزاف الموارد
- ب - الاستخدام المسؤول للموارد
- ج - استخدام الطاقة النظيفة والمتجددة
- د - حماية في التغير المناخي

3- يمثل أحد المجالات الهامة التي تستهدفها الاستدامة:

- أ - اجتثاث الغابات الكثيفة
- ب - مقاومة التغير
- ج - تحقيق النمو الاقتصادي والاجتماعي
- د - منع استخدام الطاقة النظيفة

4- من التحديات الهامة التي تواجه التنمية المستدامة:

- أ - وفرة الموارد
- ب - التقدم التقني
- ج - وفرة فرص العمل
- د - تحقيق الامن الغذائي

5- يعد من المرتكزات الهامة لتحقيق التنمية المستدامة:

- أ - الافراط في استخدام الموارد
- ب - التأخر الاقتصادي
- ج - تحقيق المساواة والعدل الاجتماعي
- د - عدم الاهتمام بالتنمية الاقتصادية



- يحد الصين من الجنوب خليج

- خليج السويس - الخليج العربي - خليج البنغال

- دولة تحد الصين من الجنوب الغربي

- منغوليا - اليابان - الهند

- دولة تحد الصين من جهة الشمال

- منغوليا - اليابان - الهند

- عاصمة الصين

أ - وهان ب - بكين ج - تيان تسين



– المحيط الذي يفصل قارتي أوروبا وإفريقيا عن القارتين الأمريكيتين المحيط

أ – الهندي ب – المتجمد الشمالي ج – الأطلسي د – الهادي

– أقرب المحيطات لدولة الامارات العربية المتحدة

أ – الهندي ب – المتجمد الشمالي ج – الأطلسي د – الهادي

– اكبر قارات العالم مساحة قارة

أ – اسيا ب – افريقيا ج – أمريكا الجنوبية د – استراليا

– قارة تقع في الجنوب الشرقي من الكرة الأرضية

– أمريكا الشمالية – أوروبا – استراليا – اسيا



1- يحد الوطن العربي من جهة الغرب المحيط

أ - الهادي ب - المتجمد الشمالي ج - الأطلسي د - الهندي

2- المسطح المائي الذي يربط بين جناحي الوطن العربي الأفريقي والآسيوي :

أ - البحر الأحمر ب - البحر المتوسط ج - البحر الأسود د - بحر العرب

3- تقع دولة الكويت في الجناح العربية الآسيوي تصنف هذه العبارة على انها

أ - رأي ب - حقيقة ج - تعميم د - مفهوم

4- يحد الوطن العربي من الشمال :

أ - نهر النيل ب - البحر الأحمر ج - البحر المتوسط د - نهر الفرات

5- ممر مائي يصل بين الخليج العربي وبحر عمان :

أ - مضيق جبل طارق ب - مضيق هرمز ج - مضيق باب المندب د - قناة السويس

6- دائرة العرض التي تقطع وسط الوطن العربي هي :

- خط جرننش - خط الاستواء - مدار الجدي - مدار السرطان



1- من الحضارات التي ظهرت في جنوب شبه الجزيرة العربية :

- الأنباط - سبأ - الغساسنة - الفرعونية

2- يوجد في الخريطة أطول أنهار الوطن العربي والعالم هو :

- نهر دجلة - نهر العاص - نهر النيل - نهر جوبا

3- أي مما يلي ليست من الحضارات التي قامت في شمال شبه الجزيرة العربية

- معين - تدمر - الأنباط - الحيرة

4- اسم قديم اطلق على البحر المتوسط :

- بحر القلزم - البحر الأسود - بحر الروم - البحر الميت

5- تعد شبه الجزيرة العربية مهد الديانات السماوية وبها اقدس الأماكن الدينية وهما الحرمين الشريفان
تصنف العبارة بأنها :

- رأي - تعميم - مفهوم - حقيقة



1- دولة الإمارات العربية المتحدة تقع ضمن الإقليم

- شبه الصحراوي - الصحراوي الحار - الإقليم المعتدل - إقليم البحر المتوسط

2- يؤدي تنوع المناخ في الدول الى تنوع المحاصيل الزراعية تصنف العبارة بأنها :

- حقيقة - مفهوم - تعميم - رأي

3- يسود إقليم البحر المتوسط في أجزاء متفرقة من :

– شمال الوطن العربية – جنوب الوطن العربي – شرق الوطن العربي – غرب الوطن العربي

4- دائرة العرض الرئيسية (خط الاستواء) تمر في دولة عربية واحدة هي :

المغرب - الصومال - ليبيا - السعودية

5- يسود مناطق المرتفعات اليمنية الإقليم :

الموسمى - شبه الصحراوي - الاستوائي - الإقليم المداري

6- دائرة العرض التي تقطع جنوب الوطن العربي هي :

خط جرننش - خط الاستواء - مدار الجدي - مدار السرطان



1- أكبر دول شبه الجزيرة العربية مساحة :

أ - السعودية ب - البحرين ج - الكويت

2- يحد دول شبه الجزيرة العربية من الشمال دولتان هما :

أ - اليمن والسودان ب - العراق والأردن ج - ليبيا والجزائر

3- يؤدي إشراف الدول على مسطحات مائية ومضايق هامة إلى سهولة الاتصال والتبادل التجاري تصنف العبارة بأنها

أ - تعميم ب مفهوم ج - قيمة سلوكية

4- يحد دول شبه الجزيرة العربية من جهة الغرب :

أ - بحر العرب ب - البحر الأحمر ج - بحر عمان

5- ممر مائي يصل بين البحر الأحمر بخليج عدن وبحر العرب :

أ - مضيق باب المندب ب - مضيق هرمز ج - مضيق جبل طارق



1-تطل دولة الإمارات العربية المتحدة من جهة الشمال على.....

- أ - أ - البحر المتوسط ب-بحر عمان ج-الخليج العربي

2-تطل دولة الإمارات من جهة الشرق على.....

- أ - أ - البحر المتوسط ب-بحر عمان ج-البحر الأحمر

3-دائرة العرض الرئيسية التي تمر في أراضي دولة الإمارات العربية المتحدة.....

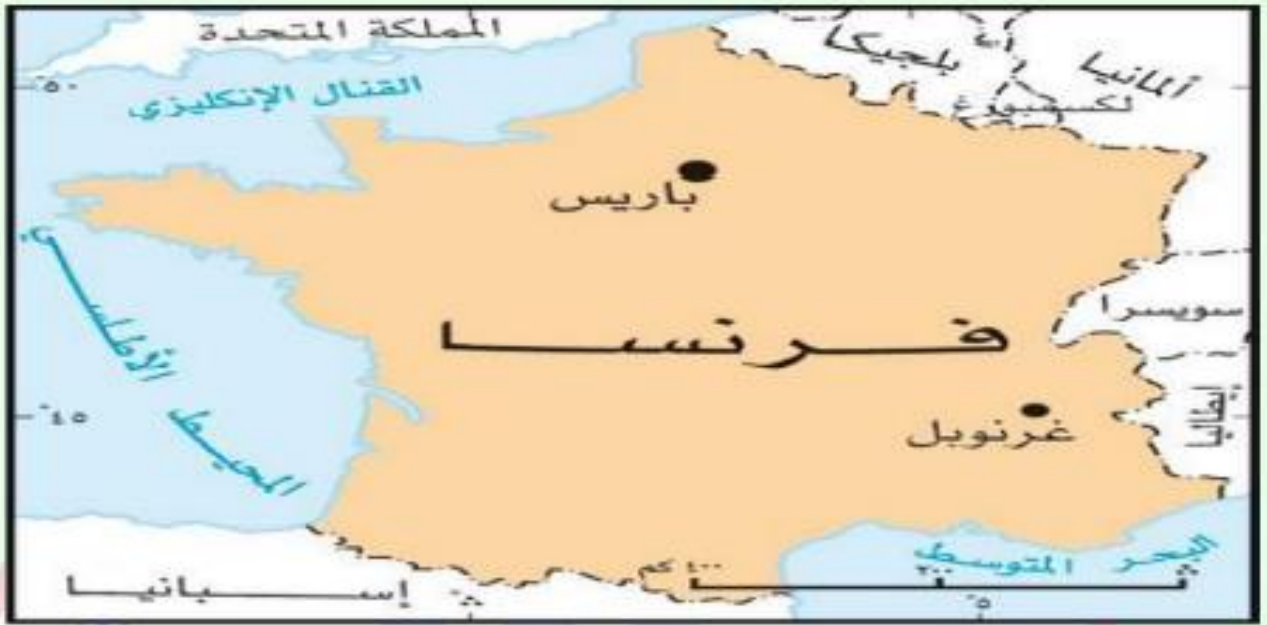
- أ - أ - مدار الجدي ب-مدار السرطان ج-خط الإستواء

4-الدولة التي تجاور الإمارات من جهة الجنوب هي.....

- أ - أ - المملكة العربية السعودية ب-سلطنة عمان ج-قطر

5-ادت جهود الشيخ زايد رحمه الله الى تطوير دولة الامارات العربية المتحدة : تصنف العبارة بأنها

- أ - أ - توقع ب-مفهوم ج-تعميم د - حقيقة



1- المسطح المائي الذي يفصل فرنسا عن المملكة المتحدة :

- أ - القناة الإنجليزية ب - قناة السويس ج - قناة بنما

2- يحد فرنسا من جهة الغرب :

- أ - المحيط الهندي ب - البحر الأحمر ج - المحيط الأطلسي

3- يجاور فرنسا من الجنوب الغربي :

- أ - إيطاليا ب - إسبانيا ج - المملكة المتحدة

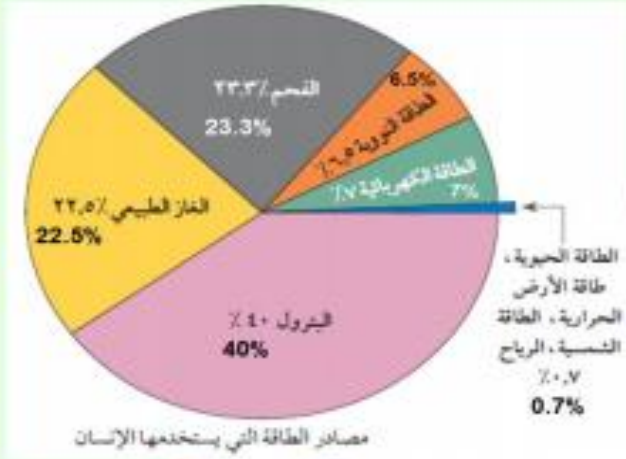
4- عاصمة الجمهورية الفرنسية :

- أ - غرنوبل ب - بكين ج - باريس

5- من أشهر المعالم السياحية الثقافية في فرنسا متحف اللوفر باريس تصنف هذه العبارة على أنها :

- أ - حقيقة ب - تعميم ج - مفهوم

ثانيا مهارة الأشكال البيانية والجداول



6- من أقل مصادر الطاقة التي يستخدمها الإنسان الطاقة:

أ - الحيوية

ب - البترول

ج - النووية

د - الفحم

7- تصل نسبة استخدام الإنسان للطاقة النووية:

أ - 6.5%

ب - 22.5%

ج - 40%

د - 35%

8- تعد من مصادر الطاقة المتجددة:

أ - الفحم

ب - البترول

ج - الطاقة النووية

د - الرياح

9- مصدرا الطاقة اللذان يمثلان نسبة استخدام تصل الى 47% هما:

أ - الطاقة النووية والكهرباء

ب - البترول والكهرباء

ج - الفحم والبترول

د - البترول والغاز الطبيعي

10- الاستخدام المتوازن وترشيد الاستهلاك لمصادر الطاقة يسهم في:

أ - زيادة التلوث البيئي

ب - قلة فرص العمل

ج - تحقيق الاستدامة

د - استنزاف وهدر الموارد



6 - يطلق على نسبة الذكور إلى الإناث التركيب

أ - العمري للسكان ب - النوعي للسكان ج - الجغرافي للسكان

7 - تبلغ نسبة الإناث إلى الذكور في دول مجلس التعاون الخليجي

أ - 37% ب - 40% ج - 63%

العام	عدد سكان آسيا (مليار نسمة)
2018	4.5
2005	3.9
1995	3.4
1985	2.8
1975	2.4

- لاحظ الجدول التالي ثم اختر الإجابة الصحيحة :

- سكان قارة آسيا في حالة :

- زيادة - تناقص - ثبات

- كم يبلغ الفرق في الزيادة السكانية بين عامي (1975 و 2018)

- 2.1 مليار نسمة - 3:2 مليار نسمة - 4 مليار نسمة

المحصول	الإنتاج مليون طن
الحبوب الغذائية	44.5
البقوليات	1.4
الخضروات	58.1
الفاكهة	37.0
قصب السكر	22.1

– لاحظ جدول المحاصيل الزراعية ثم اجب

– أعلى المحاصيل إنتاجاً في الوطن العربي

– قصب السكر – الخضروات – البقوليات

– تبلغ نسبة إنتاج الفاكهة%

– 22.1 – 1.4 – 37.0



– لاحظ الصورة التي أمامك ثم حل المعادلة واستنتج اسم المشكلة

دخان المصانع + زيادة نسبة ثاني أكسيد الكربون =

أ – زيادة نسبة الأكسجين

ب – تلوث البيئة

ج – مشكلة البطالة



– أول مسبار عربي إماراتي يصل إلى كوكب المريخ

– مسبار الاتحاد

– مسبار الشارقة

– مسبار الأمل

– من الإجراءات الاحترازية الوقائية التي تتخذها دولة الإمارات للحد من انتشار فيروس كورونا برنامج :



– منشد الشارقة – تحدي القراءة – التعقيم الوطني



- صاحب كتاب ومضات من فكر الشيخ /

- محمد بن زايد

- محمد بن راشد

- عبد الله بن زايد



- لاحظ الصورة التي أمامك ثم حل المعادلة واستنتج اسم المشكلة

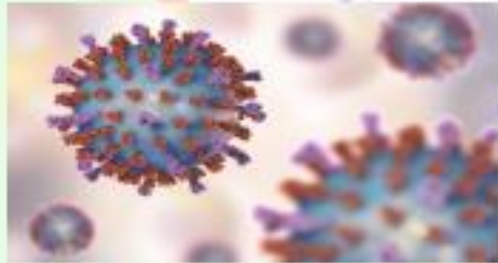
حرارة مرتفعة + أمطار قليلة =

أ - مساحات خضراء

ب - صحراء

ج - مناطق انهار

7 - من الإجراءات الاحترازية الوقائية التي تتخذها دولة الإمارات للحد من انتشار فيروس كورونا :



- لبس الكمامة

- التباعد الجسدي وعدم المصافحة

- جميع ما سبق



- لاحظ الشكل الذي أمامك ثم اختر الإجابة الصحيحة :

- للاقتصاد الأخضر مكاسب اقتصادية بحلول عام 2030

سيوفر مليون وظيفة جديدة

- 20 مليون

- 24 مليون

- 15 مليون

بلغ حجم التبادل التجاري بين الامارات وامريكا عام 2015 مليار درهم

94.4

93.4

92.4

91.4



انتهت الاسئلة بالتوفيق للجميع

معلمتكم أ / سامية ابراهيم

مدرسة الحكمة الخاصة
AL HIKMAH PRIVATE SCHOOL