


تم تحميل الملف من
موقع **سراج التعليمي**



للمزيد اكتب
في جوجل



حمل تطبيق **سراج التعليمي**



مراجعة وحل كتاب
الإجتماعيات
للمصف السابع
الفصل الأول

قاموس المصطلحات

| المصطلح / المفهوم | التعريف |
|-------------------------------------|--|
| 1 الموقع الفلكي | موقع المكان بالنسبة لخطوط الطول ودوائر العرض. |
| 2 الموقع النسبي | المكان منسوباً إلى البحار أو الدول المجاورة له، ويتم وصفه باستخدام الجهات الأصلية والفرعية. |
| 3 الموقع المكاني | المكان من حيث المساحة التي يشغلها. |
| 4 الجبال الالتوائية | نشأت نتيجة لحركات باطنية بطيئة، أدت لضغوط جانبية. كسلسلة جبال عُمان. |
| 5 الجبال الانكسارية | الجبال التي نتجت عن حركات باطنية بطيئة، أصابت الصخور الصلبة فأدّت لارتفاع بعضها وانخفاض البعض الآخر. |
| 6 السهول | أراضٍ منخفضة مستوية السطح، وتنقسم إلى سهول ساحلية وسهول فيضية. |
| 7 المناخ | حالة الجو لفترة زمنية طويلة في منطقة معينة. |
| 8 الضغط الجوي | وزن عمود الهواء على السنتيمتر المربع من سطح الأرض. |
| 9 الإقليم المناخي | جزء من سطح الأرض له خصائص مناخية أو صفات وسمات معينة تميزه عما يحيط به من أقاليم أخرى. |
| 10 الزيادة الطبيعية (النمو الطبيعي) | تتجمل الزيادة الطبيعية للسكان من معدلات المواليد المرتفعة مقابل الانخفاض الكبير في معدلات الوفيات، ويلعب العامل الديني دوراً كبيراً في ارتفاع معدلات المواليد. |
| 11 الزيادة غير الطبيعية | الزيادة الناجمة عن هجرة السكان؛ إما داخلياً من منطقة إلى أخرى، أو من دولة إلى أخرى. |
| 12 تركيب السكان | الخصائص السكانية التي يمكن قياسها، مثل العمر والنوع والحالة الاجتماعية وحجم الأسرة والتعليم. |
| 13 التركيب العمري للسكان | توزيع السكان على فئات الأعمار المختلفة. |
| 14 التركيب النوعي للسكان | توزيع السكان بين الذكور والإناث. |
| 15 التعدين | استخراج المعادن من باطن الأرض، وتنقيتها وإعدادها للتصنيع. |
| 16 الصناعات الاستخراجية | استخراج المعادن والنفط والغاز الطبيعي من باطن الأرض. |

| المصطلح / المفهوم | التعريف |
|---|---|
| 17 الصناعات التحويلية | تحويل المواد الخام إلى منتجات مفيدة للاستهلاك. |
| 18 التقود | كل شيء يتمتع بالقبول العام من قبل جميع المتعاملين؛ لتسهيل عملية التبادل وتصريف المنتجات وتحقيق الاستقرار الاقتصادي. |
| 19 التقود المصرفية (تقود الودائع) | أموال يودعها الأفراد والمؤسسات في المصارف التجارية، وتكون قابلة للسحب، بحيث يحصل المودع على cheque (دفتر للصكوك المصرفية). |
| 20 التقود الإلكترونية (بطاقات الائتمان أو التقود البلاستيكية) | مبالغ نقدية مودعة في المصارف، يقوم أصحابها بتحريكها من خلال بطاقة إلكترونية في الصرافات الآلية المنتشرة. |
| 21 الملأ | الأداة الحكومية، الذي يعد مجمعا يضم رؤساء جميع بطون قبيلة قريش ورجال الوجهة فيها، ولا تكون أوامر الملأ نافذة إلا إذا كانت بالإجماع. |
| 22 الشورى | طلب الرأي ممن هو أهل له، أو هي استطلاع رأي الأمة أو من ينوب عنها في الأمور العامة المتعلقة بها. |
| 23 الديوان | السجل الذي تدون فيه الأعمال والأموال والقائمون بها أو عليها. |
| 24 الدباغة | الطريقة التي تعالج بها الجلود، وتحفظها وتهيئها للاستعمال. |
| 25 الوطن | الأرض التي ولد فيها الشخص أو اختار أن يعيش فيها. |
| 26 المواطن | من نشأ في وطن واحد وترعرع فيه فهو ينتمي إليه؛ ولذلك فله حقوق وعليه واجبات تجاه دولته التي يعيش فيها. |
| 27 الوطنية | حب الفرد وإخلاصه لوطنه الذي يشمل الانتماء إلى الأرض والناس والعادات والتقاليد والفخر بالتاريخ، والتفاني في خدمة الوطن. |
| 28 المواطنة الصالحة | موروث مشترك من المبادئ والقيم والعادات والسلوكيات بين الأفراد في الدولة الواحدة، والتي تسهم في تشكيل شخصية المواطن، وتمنحه خصائصاً تميزه عن غيره من المواطنين في الدول الأخرى. |
| 29 الخدمة الوطنية | خدمة تجب على كل من تقرّر تجنيده لأدائها في سبيل الوطن، لمدة زمنية محددة وفقاً لأحكام القانون. |
| 30 اليوم الوطني | مناسبة وطنية خالدة، تعبّر عن اتحاد دولة الإمارات العربية المتحدة. |
| 31 علم الدولة | هويتها التي تتفاخر بها، ورمز سيادتها وتماسكها، والتفاف أبنائها حول قيادتهم. |
| 32 يوم الشهيد | مناسبة وطنية تخلّد فيها أسماء الشهداء التي ستبقى ذاكرة الوطن منذ يوم 30 نوفمبر 1971م محفورة في الذاكرة، وهو موعد سنوي نستذكر فيه تضحيات الشهداء الجسام التي قدّموها فداءً للوطن والأمة العربية. |

ثانياً: أهمية موقع شبه الجزيرة العربية

الأهمية الحضارية:

أسهمت طبيعة شبه الجزيرة العربية في التشكيل الحضاري لها، حيث يسودها الجفاف بوجه عام، باستثناء بعض المناطق في الجنوب، التي ساعدت على قيام دول ونشوء الحضارات، حيث اجتمع عاملان هما: الماء والتربة، مما شجّع على الزراعة والاستقرار، فقامت هناك ثلاث دول متعاقبة، الواحدة تلو الأخرى، وهي: **معين، سبأ، حمير**.

أما شمال شبه الجزيرة العربية، فقد تركّز النشاط البشري على التجارة والرعي في مواطن الكلاً والعشب لقرّبها من بعض الأنهار في بلاد العراق والشام، مما جعلها مستقراً للقبائل العربية التي هاجرت من داخل شبه الجزيرة العربية، فقامت فيها أربع دول هي: **تدمر، الحيرة (المناذرة)، الغساسنة، الأنباط**.



ممالك شبه الجزيرة العربية

الأهمية الدينية:

تعدّ شبه الجزيرة العربية مركز إشعاعٍ روحيٍّ، ومهبط الديانات السماوية، ومنها انطلق الإسلام إلى بقية دول العالم، كما يوجد فيها أقدس الأماكن الدينية، وهما **الحرمين الشريفان**.



المسجد الحرام - مكة المكرمة

الجفاف هو فترة
انخفاض هطول
الأمطار لأقلّ
من المستوى
في المنطقة.



الربط

بالعلوم

الأهمية الاقتصادية:

- ✚ تنوع الإنتاج الزراعي والحيواني نتيجة امتداد شبه الجزيرة العربية بين إقليمين جغرافيين مختلفين اقتصاديًا ومناخيًا.
- ✚ تمتع شبه الجزيرة العربية بأهمية اقتصادية تتمثل في وجود المواد الخام، وأهمية تجارية كبيرة تتمثل في وجود الموانئ.
- ✚ أصبحت منطقة اتصال بين مختلف جهات العالم.
- ✚ تنافس الدول الأجنبية منذ القدم للسيطرة على شبه الجزيرة العربية واستغلال ثرواتها، وبخاصة بعد اكتشاف النفط والغاز الطبيعي.



مضيق هرمز



مضيق باب المندب

الأنشطة:

- أحدد على الخريطة التي أمامي دائرة العرض الرئيسة التي تقطع أراضي بعض دول شبه الجزيرة العربية.

- أحسب عدد خطوط الطول ودوائر العرض التي تمتد عليها شبه الجزيرة العربية:

• عدد خطوط الطول: $34^{\circ}E - 50^{\circ}E = 16$

• عدد دوائر العرض: $12^{\circ}N - 32^{\circ}N = 20$



خريطة شبه الجزيرة العربية السياسية

- أبين موقع شبه الجزيرة العربية بالنسبة للمساحات المائية التي تشرف عليها.

• غرب البحر الأحمر • شرق الخليج العربي
• شمال بحر العرب والمحيط الهندي

○ أقرأ الجدول، ثم أرتب دول شبه الجزيرة العربية ترتيباً تنازلياً حسب مساحاتها.

| المساحة/كم ² | الوحدات السياسية / الدولة |
|-------------------------|-------------------------------|
| 83,600 | دولة الإمارات العربية المتحدة |
| 2,240,000 | المملكة العربية السعودية |
| 300,000 | سلطنة عمان |
| 17,818 | دولة الكويت |
| 11,437 | دولة قطر |
| 684 | مملكة البحرين |
| 527,968 | الجمهورية اليمنية |

4

1

3

5

6

7

2

○ أتوقع النتائج التي قد تحدث في حال إغلاق مضيق هرمز أمام حركة الملاحة الدولية.

• انخفاض صادرات النفط 1/40

• ارتفاع أسعار النفط

• عدم استقرار المنطقة

• انخفاض دخل دول المنطقة



أهمية موقع دول شبه الجزيرة العربية

المفاهيم والمصطلحات الجديدة

◊ الجبال الانكساريّة ◊ الجبال الالتوائية ◊ السهول

نواتج التعلّم

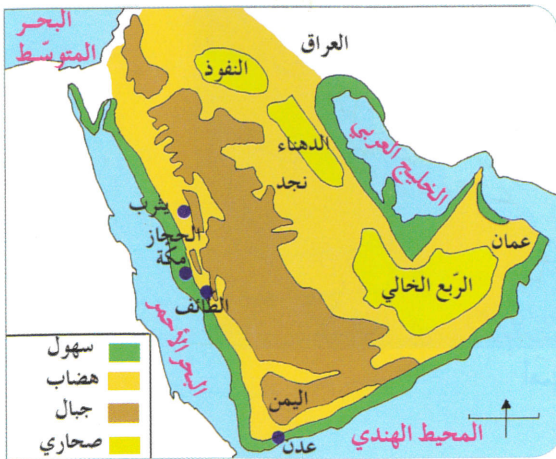
- يُفسّر المفاهيم والمصطلحات الواردة في الدرس.
- يبيّن الخصائص الطبيعيّة لشبه الجزيرة العربيّة (التضاريس).
- يحدّد أشكال التضاريس على خريطة شبه الجزيرة العربيّة.
- يصنّف الظاهرات التضاريسيّة في شبه الجزيرة العربيّة.

قيم ومواطنة

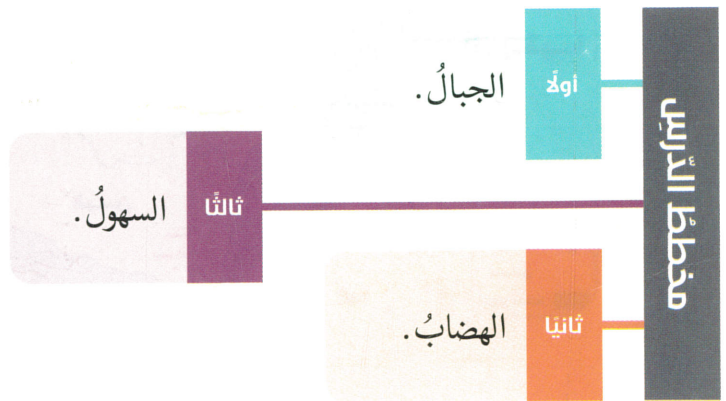
* التواصل الحضاريّ. * الوحدة الوطنيّة.

الفكرة الرئيسيّة

للتضاريس الأثرُ الفعّالُ في تاريخ الحروب التي خاضتها القبائل العربيّة في شبه الجزيرة العربيّة، وكذلك في اختيار الرّسول ﷺ وأصحابه لمواقع الغزوات وسير المعارك، فتنوّع أشكال التضاريس - سواءً من حيث مظهرها على سطح الأرض (جبال - هضاب - سهول...) أو من حيث بنيتها - له أثر كبير في حياة سُكّان شبه الجزيرة العربيّة وتوزيعهم وحياتهم الاجتماعيّة والاقتصاديّة ونموهم الحضاريّ.



تضاريس شبه الجزيرة العربيّة



الأنشطة:



خريطة تضاريس شبه الجزيرة العربية

ألاحظ الخريطة التي أمامي، ثم أحدد في المستطيل نوع الجبال المشار إليها بالسهم، من حيث النشأة.

أفسر قلة السكان في جبال مدين رغم سقوط الأمطار عليها.

بسبب ارتفاعها الشاهق
• صعوبة الواصلات
• صعوبة ممارسة الأنشطة البشرية

أستخرج أبرز الخصائص التي تميز سلسلة جبال عُمان عن بقية جبال شبه الجزيرة العربية.

جبال عُمان
• التوائية
• كثيرة السكان
• متوسط الارتفاع
• حرقة
• طويلة وضيقة
• قليلة السكان
• قليلة السكان
• طويلة وضيقة

أفسر ما يأتي:

• ضيق السهل الساحلي الممتد بمحاذاة ساحل البحر الأحمر.

• قرب الجبال من البحر

• قلة الموانئ على ساحل البحر الأحمر.

• قلة السكان

• سواحل مستقيمة صعبة الموانئ



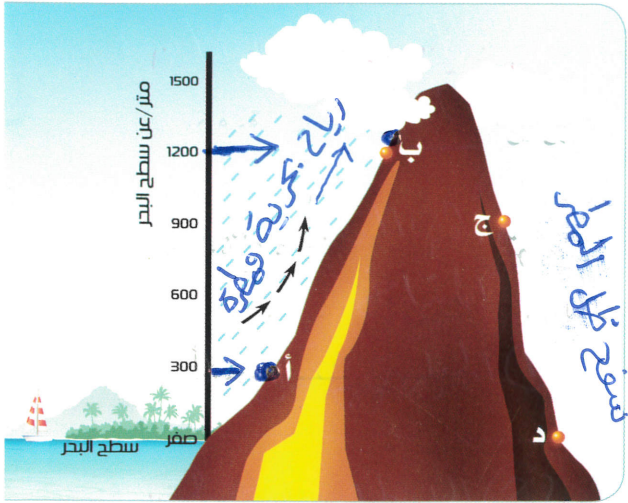
ألاحظ الخريطة التي أمامي، ثم أستخدم مهاراتي الفنيّة في تحديد وتلوين:

- جبال مدين.
- جبال الحجاز.
- جبال عسير.
- مرتفعات اليمن.

خريطة صماء لشبه الجزيرة العربية



- ألاحظ الشكل الذي أمامي، ثم أجيب عن الأسئلة الآتية:
 • أبتنُّ أيُّهما أكثرُ أمطارًا، المنطقة (أ) أم المنطقة (ب)، ذاكراً السبب.



(ب) لأنها أكثر ارتفاعاً
 (كلما زاد الارتفاع تزداد الأمطار)

- أبتنُّ أيُّهما أكثرُ أمطارًا، السفح (ب) أو السفح (ج)، ذاكراً السبب.

(ب) لأنه مواجه للرياح
 البحرية الممطرة

- أوجد درجة الحرارة عند النقطة (ب) إذا كانت درجة الحرارة عند النقطة (أ) (20) درجة مئوية.

① اوجد فرق الارتفاع بين (أ، ب) وهو :-

$$1200\text{m} - 300\text{m} = 900\text{m}$$

② اوجد فرق الحرارة

$$900 \div 150 = 6^\circ\text{C}$$

- أصنّف مناطق شبه الجزيرة العربية الآتية حسب موسم سقوط الأمطار فيها: $20 - 6 = 14$
 (جبال عمان - مرتفعات اليمن - منطقة الإحساء - جنوب عسير - تبوك)

| أمطار شتوية | أمطار صيفية |
|-------------|---------------|
| جبال عمان | جنوب عسير |
| الإحساء | مرتفعات اليمن |
| تبوك | |

• الأقليم المناخي = منطقة تتشابه خصائصها المناخية

$$\text{الكثافة العامّة للسكّان} = \frac{\text{عدد سكان الدولة}}{\text{مساحة الدولة}} = \frac{\text{الإمارات}}{83.600} = \frac{8.700.000}{104}$$



الكثافة السكّانيّة

يُقصدُ بالكثافة العامّة للسكّان نصيبُ الكيلومتر الواحد من الأفراد، وتُحسبُ بتقسيم عدد السكّان في دولة ما على إجماليّ المساحة الكليّة للدولة. وهذه الكثافة لا تعطي الصورة الحقيقيّة للتوزيع الواقعيّ للسكّان في شبه الجزيرة العربيّة؛ حيثُ تبلغُ الكثافة العامّة للسكّان في شبه الجزيرة العربيّة حوالي (25) نسمةً في الكيلومتر المربع الواحد، وهذه الكثافة العامّة تتفاوت من دولة لأخرى.

من السّنع:

تحرصُ دولة الإمارات العربيّة المتّحدة على مبدأ التعايش القائم على حُسن التعامل مع جميع فئات المجتمع.

الأنشطة:

أقرأ بيانات الجدول الذي يبيّن عدد السكّان في شبه الجزيرة العربيّة وأجيب عن الأسئلة الآتية:

| الدولة | عدد السكّان عام 2008م (مليون نسمة) | عدد السكّان عام 2015م (مليون نسمة) |
|---------------------------------|------------------------------------|------------------------------------|
| دولة الإمارات العربيّة المتّحدة | 4.7 | 8.7 |
| المملكة العربيّة السّعوديّة | 24.8 | 31.5 |
| سلطنة عمان | 2.8 | 4.1 |
| دولة الكويت | 3.4 | 4.2 |
| دولة قطر | 1.4 | 2.4 |
| مملكة البحرين | 1.1 | 1.3 |
| الجمهوريّة اليمنيّة | 24.3 | 26.6 |
| المجموع / المعدّل | 62.5 | 78.8 |

- أحسب:

• الزيادة في مجموع عدد سكّان شبه الجزيرة العربيّة بين عامي 2008 و 2015م.

$$78.8 - 62.5 = 16.3 \text{ مليون}$$

• نسبة سكّان دولة الإمارات من جملة سكّان دول شبه الجزيرة العربيّة عام 2015م.

$$\frac{1}{9}$$

واحد من تسعة

○ أقرأ بيانات الجدول الآتي، وأجب عما يأتي:

| الدولة | معدّل المواليد عام 2014 م (بالألف) | معدّل الوفيات عام 2014 م (بالألف) |
|--|------------------------------------|-----------------------------------|
| دولة الإمارات العربيّة المتّحدة | 11 | 2 |
| المملكة العربيّة السّعوديّة | 21.5 | 2.8 |
| سلطنة عمان | 20 | 2.2 |
| دولة الكويت | 20 | 3 |
| دولة قطر | 12 | 2 |
| مملكة البحرين | 15 | 2 |
| الجمهورية اليمنية | 35.9 | 8.1 |
| المعدّل العامّ لدول شبه الجزيرة العربيّة | 19.3 | 3.1 |

• أستنتج أبرز الحقائق عن

معدّلات المواليد والوفيات

في شبه الجزيرة العربيّة.

• ارتفاع المواليد وقلة الوفيات

• قلة المواليد في الامارات مقارنة باليمن

• أفسّر ارتفاع معدّل المواليد

في دول شبه الجزيرة العربيّة.

النزوح المبكر، تعدد الزوجان

القادات، الدين الإسلامي

○ أبين رأيي في أسباب ارتفاع نسبة الذكور مقارنةً بعدد الإناث في دول شبه الجزيرة العربيّة.

غالبية سكان شبه الجزيرة العربيّة هم عمالة وافدة وأغلب العمالة من الشباب الذكور

○ أقدم أدلّة تبرّر الجهود التي تبذلها حكومة دولة الإمارات لخفض معدّلات الوفيات وزيادة عدد سكّانها المواطنين.

- ① التوعية الصحية لخفض حوادث السير
- ② التوعية الصحية ومكافحة آفة التدخين
- ③ التأمين الصحي الشامل
- ④ تشجيع ممارسة الرياضة ومكافحة السمنة

صناعة التُّقود المعدنية التي سمّاها العرب بالمسكوكات، فقد عرفوها منذ العصور القديمة. ونتيجة لتوافر مقومات الصناعة في دول شبه الجزيرة العربية، فقد تطوّرت منذ مطلع السبعينيات من القرن الماضي؛ لأهميّتها في تنويع الإنتاج، ومن أبرز هذه المقومات:



وتنقسم الصناعة إلى:

- الصناعات الاستخراجية: هي استخراج المعادن والتفط والغاز الطبيعي من باطن الأرض.
- الصناعات التحويلية: هي تحويل المواد الخام إلى منتجات مفيدة للاستهلاك.

التجارة:

اشتهرت شبه الجزيرة العربية منذ عصور ما قبل الإسلام بأنها من مناطق التجارة الهامة في العالم، مما هيأ لها أسباب التطور والتقدم التجاري والحضاري، ولعبت التجارة دوراً رئيساً في حياة سكانها، فقد كانوا إما تجاراً، أو وسطاء تجاريين، أو ناقلين للتجارة، أو حُماءً لطرق سيرها، ومن ثمّ قامت عدّة مراكز تجارية عربية في أماكن شتى من شبه الجزيرة العربية، وكان لمملكة سبأ ومعين نشاط تجاري واسع ومرموق في تجارة العطور والتوابل، وكانت السواحل الشرقية لشبه الجزيرة العربية تربط تجارة الصين والهند بالعراق وسوريا، وقد ساعدت أسواق العرب في الجاهلية مثل سوق عُكاظ على نشاط التبادل التجاري والثقافي. وبعد اكتشاف التفط والغاز الطبيعي واستغلاله، تطوّرت وازدهرت التجارة، وتنوّعت أشكالها، كتجارة إعادة التصدير، والتجارة الإلكترونية.

التهدية :- استخراج المعادن وتنقيتها وإعدادها للتصدير
 الأنشطة الاقتصادية لسكان شبه الجزيرة العربية
 الصناعة التحويلية :- تحويل المواد الخام الى سلع مفيدة
 الصناعة الاستخراجية :- استخراج المعادن من باطن الأرض
من السَّع:
 الصَّدق في المعاملات التجارية، وعدم الغش لتسويق البضاعة.

أهم الصادرات والواردات:

نشطت حركة الصادرات والواردات؛ نتيجة لتطور الإنتاج وتطور وسائل وطرق نقل السلع والبضائع،
 ومن أهم الواردات الآلات والمعدات الكهربائية ومعدات النقل والمواد الغذائية، أما أهم صادرات
 شبه الجزيرة العربية في الوقت الحالي: النفط والغاز الطبيعي والتمور والبن والإسمنت والمنتجات
 البتروكيمياوية.

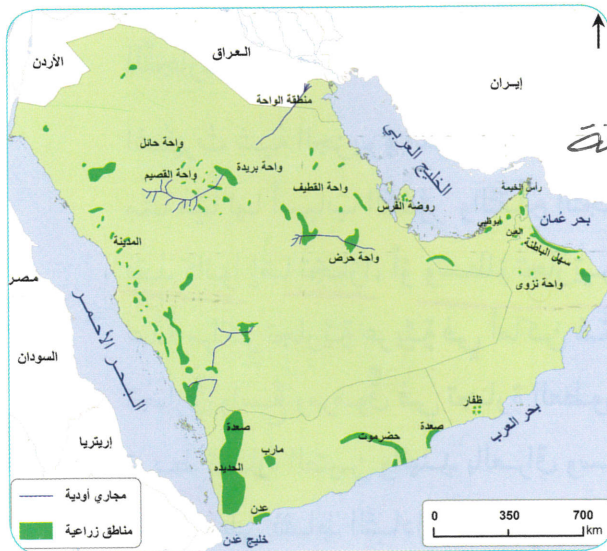
مكونات الصناعة (رؤوس الأموال + المواد الخام + اليد العاملة + الأسواق)
الأنشطة:

أسمي أنواع الثروة الحيوانية التي تُربى في دول شبه الجزيرة العربية.

الجمال، الأغنام، الماعز، الإبل

واجب أداني H.W

ألاحظ خريطة أهم المناطق الزراعية في دول شبه الجزيرة العربية، وأستكمل الجدول الآتي:



أهم المناطق الزراعية في شبه الجزيرة العربية

| الدولة | أبرز المناطق الزراعية |
|-------------------------------|---------------------------------|
| دولة الإمارات العربية المتحدة | ليوا، سويحان والصين، الرقافة |
| المملكة العربية السعودية | المدينة واحة حرض |
| سلطنة عمان | ظفار ونزوك |
| الجمهورية اليمنية | مارب وعدن |

○ أفسر اهتمام دول شبه الجزيرة العربية بالإنتاج الزراعي وزيادته.

1- الإفق القذائي

2- زيادة الدخل وتقليل الاستيراد

3- توفير فرص عمل

○ أتوقع أبرز النتائج المترتبة في حال تراجع الإنتاج الزراعي في دول المنطقة.

① التبعية السياسية للدول الموردة للغذاء

② الهجرة من الأرياف والواحات للمدن

③ زيادة الاستيراد

○ أستنتج أبرز العوامل التي ساعدت على ازدهار التجارة في شبه الجزيرة العربية.

① الموقع المتوسط بين الشرق والغرب

② توافر الموانئ والطرق والمطارات ، ظهور النفط

واجب ادائي للامانة

○ أقرأ خريطة توزيع حقول النفط والغاز الطبيعي في دول شبه الجزيرة العربية، وأستكمل الجدول الآتي:



النفط في دول الخليج العربية



النفط في جمهورية اليمن

| الدولة | أهم الحقول | أهم موانئ تصدير النفط |
|-------------------------------|------------|-----------------------|
| دولة الإمارات العربية المتحدة | باب | جبل الظنة |
| المملكة العربية السعودية | الغوار | |
| سلطنة عمان | ناطح | |
| دولة الكويت | | الأحمدي |
| دولة قطر | دخان | |
| مملكة البحرين | | سترة |
| الجمهورية اليمنية | المهرة | رأس عيسى |

○ أَسْتَكْمَلُ تَصْنِيفَ الصَّنَاعَاتِ الْآتِيَةِ إِلَى صُنَاعَاتٍ اسْتِخْرَاجِيَّةٍ وَصُنَاعَاتٍ تَحْوِيلِيَّةٍ، وَفَقَّ الْجَدْوَلَ الْآتِي:

| الصَّنَاعَةُ فِي دَوْلِ شِبْهِ الْجَزِيرَةِ الْعَرَبِيَّةِ | اسْتِخْرَاجِيَّةٌ | تَحْوِيلِيَّةٌ |
|--|-------------------|----------------|
| تَكَرِيرُ النَّفْطِ | | / |
| النَّفْطُ الْخَامُ | / | |
| الأدوية | | / |
| المنسوجات | | ✓ |
| الإسمنت | | / |
| المواد الغذائية | | / |
| الألمنيوم | | / |

عُرِفَتْ باسم الدرهم، ويعادل الدرهم الإماراتي ما قيمته (0.1866) جراماً من الذهب الخالص، وتحمل الأوراق النقدية في دولة الإمارات العربية المتحدة صوراً ورسوماً ذات دلالات خاصة. وانطلاقاً من مبادرات القمة الحكومية الثالثة لعام الابتكار 2015م، اهتمت دولة الإمارات العربية المتحدة بفئة (أصحاب الهمم) بإصدار أول عملة ورقية تُقرأ بـ (برايل).



وسع معرفتك

ما هو البيتكوين؟

بيتكوين (بالإنجليزية: Bitcoin) هي عملة رقمية يمكن مقارنتها بالعملة الأخرى مثل الدولار أو اليورو، لكن مع عدة فوارق أساسية، من أبرزها أن هذه العملة هي عملة إلكترونية بشكل كامل تتداول عبر الإنترنت فقط من دون وجود فيزيائي لها. كما أنها تختلف عن العملات التقليدية بعدم وجود هيئة تنظيمية مركزية تقف خلفها، لكن يمكن استخدامها كأي عملة أخرى للشراء عبر الإنترنت أو حتى تحويلها إلى العملات التقليدية.



التحويلات (إجراء الصفقات)

1 يقوم المستخدم بتقديم طلب لتحويل "بيتكوين" وفتح محفظة مالية افتراضية من حسابهم الشخصي باستخدام الهاتف المتحرك أو الحاسب الآلي.

2 يمر الطلب على شبكة "بيتكوين" ويقوم المستخدم، والذي يدعى (عامل المنجم أو الباحث)، باستلامه واستخدامه.

التنقيبات (البحث)


3 أثناء عملية التنقيب، يتم تخزين التحويلات على شكل أزواج بيانات من قبل المسؤولين أو المطورين للبرنامج.

4 يتنافس المستخدمون على توافق منحوي أو محفظة العملات مع العملات الافتراضية التي تستخدم لمرة واحدة فقط، وهذه العملات شفرات تدعى بـ (شريحة) والتي يجب أن تتضمن قيمة معينة.

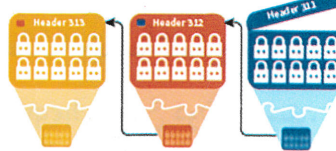
5 كل شريحة تستقبل من قبل شبكة "بيتكوين" بقيمة 25، لكن تلك القيمة تنخفض كلما انضم مستخدم للخدمة.

6 هذه الشرائح تضاف للمحافظ المالية التي تضم جميع المستخدمين.

التنقيبات



هذه العملية تستغرق حوالي 10 دقائق، وعندما تنجز، لا يمكن عكسها، أو إلغاؤها.



الكتلة

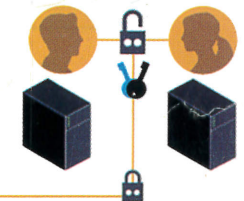
سلسلة

الكتل

شبكة بيتكوين



تحويل



To: 1G6a2c7Gw9N7AB5ZPPq6eEL5Nwly
Amount: 2.0 BTC SEND

يجب استخدام تطبيق البيتكوين لإنشاء المحفظة الافتراضية، والمفتاح الشخصي، والمفتاح العام، من أجل الحصول على التصريحات وتأمين التحويلات

الأنشطة:

○ أَسْتَكْمَلُ المَخْطَّطَ الذَّهْنِيَّ الآتِي:

الصعوبات التي ساهمت في عجز نظام المقايضة

بعض السلع
لا تجرأ

بعض السلع
لا تخرن

عدم توافق الرعيان
أحياناً

○ أَذْكَرُ سَبَبَ قِلَّةِ فُتَاتِ العَمَلَاتِ المَعْدِنِيَّةِ المَتَدَاوِلَةِ مَقَارَنَةً بِفُتَاتِ العَمَلَاتِ الِوَرَقِيَّةِ.

سهولة ظهور زورها

○ أَنَسِبُ العَمَلَاتِ الِوَرَقِيَّةِ إِلَى الدَّوَلِ الَّتِي تَنْتَمِي إِلَيْهَا بِكُتَابَةِ اسْمِ الدَّوَلِ أَسْفَلَ كُلِّ مَنَهَا.



السعودية



البحرين



الكويت



دولة الإمارات العربية المتحدة



للمتة عُمان



اليمن

○ أَحَدَدُ العُقُوبَةِ المَفْرُوضَةِ فِي قَانُونِ دَوْلَةِ الإِمَارَاتِ العَرَبِيَّةِ المَتَّحِدَةِ لِمَنْ يَحْزِرُ صَكًّا مَصْرَفِيًّا


(cheque) مِنْ دُونِ رَصِيدٍ.

العقوبة أو السجن حسب ما تقدره المحكمة

- أَسْمَى الجَهَةِ المَسْؤُولَةِ عَنْ إِصْدَارِ التَّقُودِ فِي دَوْلَةِ الْإِمَارَاتِ الْعَرَبِيَّةِ الْمُتَّحِدَةِ.

البنك المركزي

- أَتَبَّعُ مِنْ خِلَالِ المَخْطَاطِ الزَّمَنِيِّ أَهَمَّ العَمَلَاتِ النَقْدِيَّةِ الَّتِي تَمَّ تَدَاوُلُهَا فِي دَوْلَةِ الْإِمَارَاتِ الْعَرَبِيَّةِ الْمُتَّحِدَةِ.



- أَذْكَرُ سَبَبٍ مُرَاقِبَةٍ إِصْدَارِ التَّقُودِ مِنْ قِبَلِ حُكُومَةِ دَوْلَةِ الْإِمَارَاتِ الْعَرَبِيَّةِ الْمُتَّحِدَةِ.

الحفاظ على سعر صرف العملة

مكافحة تزوير العملة

مراقبة غسيل الأموال

- مِنْ خِلَالِ صُورِ المَزَايَا الْأَمْنِيَّةِ لِنَقْدِ دَوْلَةِ الْإِمَارَاتِ الْعَرَبِيَّةِ الْمُتَّحِدَةِ؛ أَكْمَلُ الجَدْوَلَ الْآتِي:



1 2 3 4 5

| رقم جزء الصورة التي تدل عليها | المواصفات الأمنية لنقد دولة الإمارات العربية المتحدة |
|-------------------------------|--|
| 3 | طباعة غائرة |
| 5 | رقم تسلسلي |
| 1 | رقم تسلسلي فلورسنتي |
| 4 | علامة التطابق |
| 2 | طباعة لامعة |

المتميّز من حيث الإشراف على مسطّحات مائيّة هائلة، أدّت إلى قيام وتسهيل حركة التجارة العالميّة آنذاك فنجد أنّ مكّة المكرّمة احتلّت مركزاً اقتصادياً مرموقاً، رغم افتقارها إلى الزراعة ووجود صناعات بسيطة، إلّا أنّ التجارة هي الحرفة الرّئيسة فيها، حيث سهّل الموقع الجغرافي لمكّة بالإضافة إلى دورها الدّيني، ووجود أسواق العرب فيها أن تلعب دور الوسيط التجاريّ بين فارس وبيزنطة واليمن والحبشة. ولم يقتصر النشاط التجاريّ على الرّجال فحسب، بل اشتهرت بعض النّساء باحتراف التجارة.



طرق التجارة قديماً

أطلق اليونانيون اسم (بلاد العرب السعيدة) Arabic Filexa على جنوب شبه الجزيرة العربيّة، ولم تكن هذه السعادة إلا نتيجة لسقوط الأمطار الموسميّة على أراضيها، والتي مكّنت حياة اقتصادية مزدهرة؛ حيث لعب سكّان جنوب شبه الجزيرة العربيّة دور الوسيط التجاريّ، وعرفت المدينة والطائف نشاطاً زراعياً كبيراً، كما اشتهرت منطقة نجد ومنطقة الإحساء بزراعة النّخيل وتصديره إلى الدّول المجاورة، وتميّزت منطقة الإمارات وعمان بالتجارة البحريّة.

الأنشطة:

○ أقرن بين العرب في جنوب شبه الجزيرة العربية والعرب في شمالها وفق الجدول الآتي:

| أوجه المقارنة | العرب في الجنوب | العرب في الشمال |
|-----------------------|-------------------------------------|--|
| الممالك التي نشأت | سبأ مَعِين قَتِيان حِمْيَر | الحيرة (المناذرة) الفساسية الأنباط تدمر |
| الصفة التي اتصفوا بها | قبائل استعرت | قبائل استعرت |
| ديانتهم قبل الإسلام | عبادة الكواكب | عبادة الأصنام |

○ أحدد على الخريطة التالية ما يأتي: (دولة سبأ - دولة حِمْيَر - دولة معين)



تبيّلة

○ أستنتج العوامل التي ساعدت على ازدهار التجارة في مكة قبل ظهور الإسلام.

وجود الكعبة و الأصنام حولها
موقعها على تقاطع طرق التجارة

○ أوضح مبادئ تنظيم الحياة الاقتصادية في الإسلام.

• وضع قواعد للكسب الحلال
• اهتم بمصادر الإنتاج من زراعة وصيد
○ أصنّف المناطق في شبه الجزيرة العربية وفقاً للنشاط الاقتصادي الآتي:

(اليمن - نجد - الطائف - الحجاز - يثرب)

| الزراعة | الرعي |
|---------------|--------|
| اليمن | نجد |
| الطائف + يثرب | الحجاز |

○ أفسر قيام الزراعة في المناطق المتحضرة في شبه الجزيرة العربية.

• وفرة المياه من الأمطار والمياه الجوفية
• تربة صالحة للزراعة

• القبيلة : جماعة تربطها رابطة القرابة يرأسها
شيخ القبيلة

• اللا : وجلس من زعماء قبائل مكة يسرون
أموالها

• الصرحاء : أبناء القبيلة الأهل

• الموالي : أفراد هجروا قبيلتهم وانضموا لـ

الدّرس الثاني: التّاريخ الحديث والمعاصر لدول شبه الجزيرة العربيّة

المفاهيم والمصطلحات الجديدة

الباب العالي فرمان أرخبيل

ناتج التّعلّم

- يُفسّر المفاهيم والمصطلحات الواردة في الدّرس.
- يتعرّف التّاريخ الحديث والمعاصر لمنطقة الخليج العربيّة وشبه الجزيرة العربيّة.
- يبيّن دور دولة الإمارات العربيّة المتّحدة في إعادة الشّرعية لليمن.

قيم ومواطنة

- التاريخ المشترك.
- الوحدة العربيّة.
- الإنجاز والتّجّاح.

الفكرة الرئيسيّة

ترتبط دول شبه الجزيرة العربيّة وفق التّكوين الجغرافيّ بروابط وجذور عميقة، ولكلّ منها أحداث ومواقف وشخصيات تاريخيّة شكّلت التّكوين السّياسيّ فيها، ناضلت من أجل الوحدة والتّحرّر من التّفوذ الأجنبيّ لاستعادة عزّها وماضيها المجيد.



أولاً
المملكة العربيّة السّعوديّة
ودولة الكويت.

ثالثاً
سلطنة عمان
والجمهوريةّة اليمنيّة.

ثانياً
مملكة البحرين
ودولة قطر.

مخطط الدّرس

الأنشطة:

- أفسّر مشاركة دولة الإمارات العربية المتحدة في تحرير دولة الكويت من الغزو العراقي.
- تتقدّمًا للاتفاقية الدفاع المشترك لدول مجلس التعاون
- نهضة الشعوب المظلومة

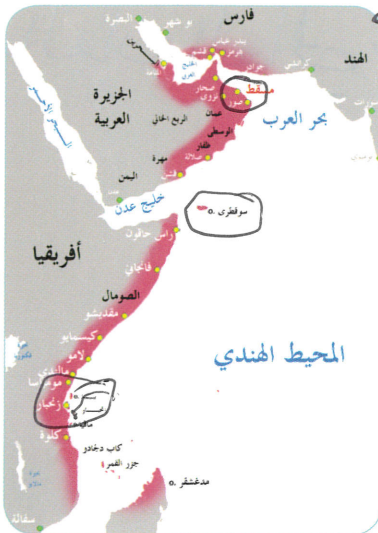
- أقرأ خريطة استقرار آل خليفة في البحرين، وأستكمل بيانات الجدول الآتي:



| | |
|---------|--|
| المعركة | الزيارة |
| السنة | 1783م |
| الأطراف | آل خليفة x الفرس |
| النتائج | - انتصار آل خليفة - تحرير البحرين من الفرس. |

- أقرأ الخريطة، ثم أجب عما يأتي:

- أسمى اثنتين من المناطق والمدن الأفريقيّة التي خضعت لحكم سعيد بن سلطان.
- سوقطرة، زنجبار، سومطرة، جزر القمر
- لوشستان، الكويت، قطر، البحرين، مقدشو
- أفسّر ضعف الدولة العمانية بعد وفاة سعيد بن سلطان.



- تراسي أطراف الدولة عن الماحمة
- ضعف أولادهم وخلافاتهم
- موقف بريطانيا المعادي

- أحدّد على الخريطة موقع كل من: مسقط، سوقطري، زنجبار.

○ أحرّد على الخريطة الدول العربية المشاركة في عاصفة الحزم.



○ أبتن الدور الإيجابي الذي تقوم به دولة الإمارات العربية المتحدة لمساعدة الشعب اليمني.

- تخليص اليمن من سيطرة الحوثيين (عاصفة الحزم)
- تقديم مساعدات طبية وغذائية
- إصلاح الرقعة التحتية للمطلة

• قومات : قانون

• الباب العالي : مركز الحكم في الدولة العثمانية

ثالث: تطوعي خدمة لوطني

إنَّ المواطنَ الصَّالحَ يتحمَّلُ مسؤوليَّةَ واجباته تجاهَ وطنه، ويتواصلُ مع الآخرينَ لقضاءِ حاجاتهم؛ فالتطوُّعُ خدمةٌ إنسانيةٌ اجتماعيَّةٌ دينيَّةٌ تسودها المحبَّةُ والإخاءُ. «التطوُّعُ يتضمَّنُ جهودًا إنسانيةً تُبذلُ من أفرادِ المجتمعِ بصورةٍ فرديَّةٍ أو جماعيَّةٍ، ويقومُ بصفةٍ أساسيَّةٍ على الرغبةِ والدافعِ الذاتيِّ»، ولا يهدفُ التطوُّعُ إلى تحقيقِ ربحٍ ماديٍّ؛ بل إكسابِ شعورِ الانتماءِ للمجتمعِ وتحمُّلِ المسؤوليَّاتِ التي تُسهمُ في تلبيةِ احتياجاتِ المجتمعِ.

أهميَّةُ العملِ التطوُّعيِّ:

- ✦ الحفاظُ على القيمِ الإسلاميَّةِ.
- ✦ تعزيزُ الشعورِ بالانتماءِ والولاءِ للوطنِ.
- ✦ اكتسابُ مهاراتٍ وخبراتٍ جديدةٍ.
- ✦ استثمارُ أوقاتِ الفراغِ بشكلٍ مفيدٍ.
- ✦ تقديمُ المساعدةِ للآخرينَ.

مِن السَّعْيِ:

(ينفعك لي في الضيق يفرعك)
التطوُّعُ: هو تقديمُ العونِ لمن
يحتاجه في مختلفِ المجالاتِ،
دونَ مقابلٍ ماديٍّ.



متطوعين. إمارات:

تهدفُ منصَّةُ «متطوعين. إمارات» إلى توسيع نطاقِ العملِ التطوُّعيِّ في دولة الإماراتِ من خلالِ تسهيلِ عمليَّةِ التطوُّعِ، حيثُ تعملُ منصَّةُ «متطوعين. إمارات» بدورِ الوسيطِ بينَ الراغبينَ بالتطوُّعِ والفرصِ التطوُّعيَّةِ المتاحةِ من قبلِ مؤسَّساتِ القطاعِ العامِّ والخاصِّ. من خلالِ المنصَّةِ، يتمُّ تسهيلُ عمليَّةِ البحثِ عن فرصِ تطوُّعيَّةٍ للراغبينَ بالتطوُّعِ حسبَ اهتماماتهم ومهاراتهم وخبراتهم، وحيثُ يقومونَ بإدراجِ أسمائهم، وتسجيلِ حساباتهم على الموقعِ، في حينَ تقومُ المؤسَّساتُ بالإعلانِ عن الفرصِ التطوُّعيَّةِ حسبَ احتياجاتهم. تعملُ منصَّةُ «متطوعين. إمارات» كمحطةٍ واحدةٍ سهلةِ الاستخدامِ وتفاعليَّةٍ لخدمةِ الطَّرفينَ، بهدفِ تعزيزِ ثقافةِ التطوُّعِ ومساعدةِ الغيرِ، وجعلِ الإماراتِ مصدرَ إلهامٍ للدولِ الأخرى.

You Retweeted



HH Sheikh Mohammed
@HSHkMohd

أطلقنا المنصة الوطنية للتطوع وسجلت فيها متطوعا
في مجال صناعة الأمل بالإضافة للمجال البيئي ..
وسجل أخي محمد بن زايد متطوعا في المجال
الإنساني

Translate from Arabic

شكراً لالتصاممكم كمطوع
في صناعة الأمل والقطاع البيئي
THANK YOU FOR JOINING AS A VOLUNTEER IN
THE HOPE MAKING & ENVIRONMENTAL SECTOR



محمد بن راشد آل مكتوم
volunteers.ae



أهمية العمل التطوعي
 الحفاظ على القيم الإسلامية
 اكتساب مهارات

الأنشطة:


○ أَسْتَنْتِجُ أَهَمِّيَّةَ مَوْقِعِ وَطَنِي دَوْلَةِ الْإِمَارَاتِ الْعَرَبِيَّةِ الْمُتَّحِدَةِ.

• بِتَوْسِطِ الْقَالِمِ
 • تَتَقَالَمُ عَنْدَهُ الْخُطُوبُ الْجَوِيَّةُ وَالْبَحْرِيَّةُ


○ أَسْتَنْتِجُ أَسْمَاءَ الْبَيَّاتِ الطَّبِيعِيَّةِ فِي وَطَنِي مِنْ الصُّورِ الْآتِيَةِ، وَأُسَجِّلُهَا.



البيئةُ سواحل



البيئةُ جبلية



البيئةُ صحراء



البيئةُ الزَّراعيَّةُ

○ أَسْتَنْتِجُ صِفَاتِ الْمَوَاطِنِ الصَّالِحِ، وَذَلِكَ مِنْ خِلَالِ إِعْطَاءِ الْأَمْثَلَةِ عَلَى الصِّفَاتِ الْآتِيَةِ:

• طَاعَةُ وَلِيِّ الْأَمْرِ
 • الْإِتِمَاعُ لِلْوَطَنِ
 • الْمُسَاهِمَةُ فِي الْأَعْمَالِ التَّطَوُّعِيَّةِ
 • الْمَسْئُولِيَّةُ الْوُطَنِيَّةُ
 • السُّلُوكِيَّاتُ الْحَمِيدَةُ
 • الْحُرَامُ الْقَوَائِمُ
 • الْمُسَاهِمَةُ فِي الْأَعْمَالِ التَّطَوُّعِيَّةِ
 • أَقْوَمُ بِالْوَجِبَاتِ الْمَوْكَلَّةِ إِلَيْهِ
 • بِرُ الْوَالِدَيْنِ - احْتِرَامُ الْكِبَارِ

○ أَسْتَنْتِجُ مِنْ مَنْظُورِي الْخَاصِّ الْفَوَائِدَ الَّتِي سَأَكْتَسِبُهَا مِنْ الْعَمَلِ التَّطَوُّعِيِّ.

• الرِّجَاءُ وَالْثَوَانُ مِنَ اللَّهِ
 • الشُّهُورُ بِالسَّعَادَةِ
 • الْكَسَابُ خَيْرَانِ وَمَهَارَاتِ

○ أَبْحَثُ عَنْ أَاسْمَاءِ بَعْضِ الْجَمْعِيَّاتِ التَّطَوُّعِيَّةِ الرَّسْمِيَّةِ فِي دَوْلَةِ الْإِمَارَاتِ الْعَرَبِيَّةِ الْمُتَّحِدَةِ، وَأُسَجِّلُهَا.

• الْهَلَالُ الْأَحْمَرُ
 • هَيْئَةُ الْبَيْتِ
 • مَوْسِمَةُ زَائِدِ الْعَلِيَا

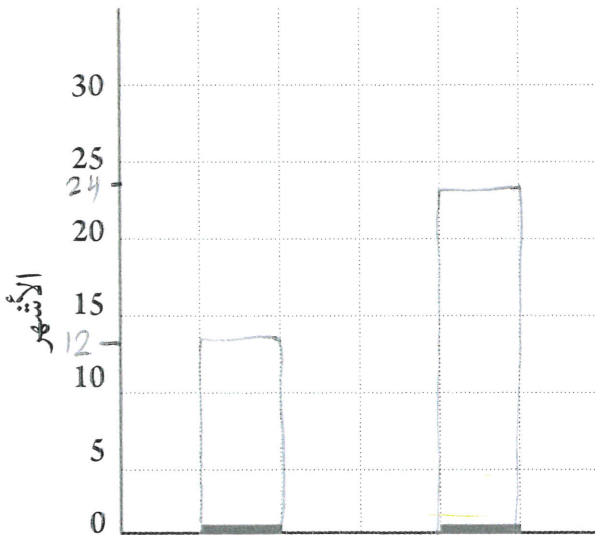
الأنشطة:

○ أَسْتَكْمَلُ الْجَدُولَ الْآتِي بِمَا يَنْسَبُ:

| قانون الخدمة الوطنية والاحتياطية | |
|--|-------------------------------------|
| أصدره صاحب السمو الشيخ | خليفة بن زايد آل نهيان |
| رقم القانون | 6 |
| السنة التي صدر فيها | 2014 |
| تنص المادة (43) في دستور دولة الإمارات على | الدفع عن الاتحاد فرضاً على كل مواطن |

○ أَقَارُنُ بَيْنَ شُرُوطِ الْخِدْمَةِ الْوَطَنِيَّةِ بَيْنَ الذَّكَورِ وَالْإِنَاثِ فِي الْجَدُولِ الْآتِي:

| أوجه المقارنة | الذكور | الإناث |
|------------------------------------|---------|----------|
| الخدمة الوطنية إلزامية أم اختيارية | إلزامية | اختيارية |
| العمر | 18 - 30 | 18 - 30 |
| شرط موافقة ولي الأمر | لا | نعم |



○ أُمَثِّلُ بِطَرِيقَةِ الْأَعْمَدَةِ الْبَيَانِيَّةِ مَدَّةَ الْخِدْمَةِ الْوَطَنِيَّةِ لِلذَّكَورِ الْحَاصِلِينَ عَلَى الثَّانَوِيَّةِ الْعَامَّةِ وَالَّذِينَ لَمْ يَحْصُلُوا عَلَيْهَا:

• أَحْسَبُ الْفَرْقَ فِي مَدَّةِ الْخِدْمَةِ الْوَطَنِيَّةِ بَيْنَ الْحَاصِلِينَ عَلَى الثَّانَوِيَّةِ الْعَامَّةِ وَالَّذِينَ لَمْ يَحْصُلُوا عَلَيْهَا.

أقل من ثانوية عامة
ثانوية عامة فما فوق

أُفسر صدور قانون الخدمة الوطنية.

يسمى على بناء الكبار وإكمالهم مهاراتهم
تحت المسؤولية
تحتي الهعاب وتحقيق الأمن والأزدهار للدولة

أستنتج إنجازات الخدمة الوطنية من خلال الصور التالية:



حفر آبار المياه

مساعدة أهل
اليمت

القوة العسكرية

أتخيّل نفسي أحد منتسبي الخدمة الوطنية، وأصف شعوري أثناء تأدية هذا الواجب الوطني.

• انني جزء له قيمة في وطني
• ألق بنفسي وقيادتي
• انني شخص يعطي أكثر مما يأخذ

المفاهيم والمصطلحات الجديدة

◇ اليوم الوطني ◇ العلم ◇ يوم الشهيد

نواتج التعلم

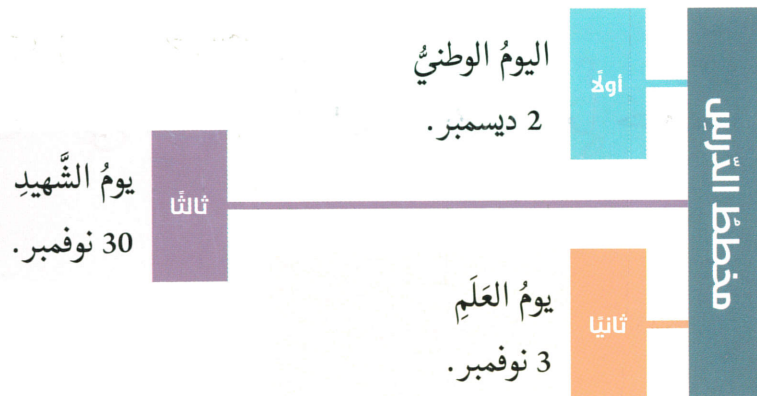
- يُفسّر المفاهيم والمصطلحات الواردة في الدرس.
- يتعرّف المناسبات الوطنية في دولة الإمارات العربية المتحدة.
- يبيّن قصة العلم في دولة الإمارات العربية المتحدة.
- يستنتج أسباب تحديد دولة الإمارات العربية المتحدة يوماً للشهيد.

قيم ومواطنة

* الولاء والانتماء. * التلاحم المجتمعي. * الرخاء والرفاهية. * التضحية.

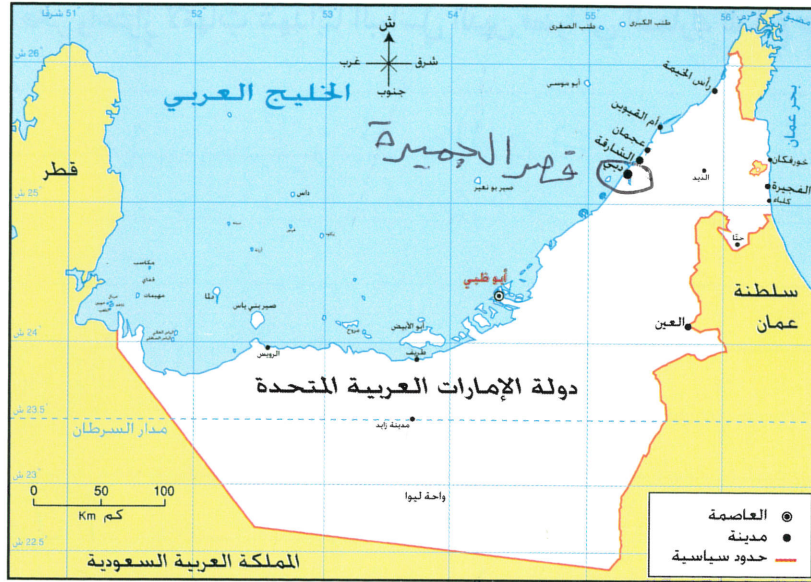
الفكرة الرئيسة

المناسبات الوطنية هي ذاكرة الشعوب التي تسرد تاريخها وتعبر عن أمانيتها، ولدولتنا مناسبات وطنية مجيدة، ومنها اليوم الوطني، ويوم العلم، وذكرى يوم الشهيد، الذي يجسّد رموزاً وطنية؛ نحتفل بها لنعبّر عن ولائنا وانتمائنا لهذا الوطن، إنها صورٌ حيّةٌ من صور التلاحم في مجتمع الإمارات قيادةً وشعباً.



الأنشطة:

- أحدّد على خريطة دولة الإمارات العربية المتحدة ما يأتي:
 - الإمارة التي رُفِعَ فيها علَمُ الاتحادِ أوّلَ مرّةٍ.
 - موقع الإمارة التي أُعِيشَ فيها.



خريطة سياسية لدولة الإمارات العربية المتحدة

- أسجّل اسم مصمّم العلم وكاتب النشيد الوطني.

المصمم / عبد الله محمد المهيبة

صاحب النشيد الوطني / صفى الدين الحلي

- أفسّر كلّ ممّا يأتي:

- تحديد يوم 3 نوفمبر من كلّ عامٍ للاحتفال بيوم العلم.

ذكرى تولى مسدي صاحب السمو الشيخ خليفة

هامه رئيساً لوطننا العالي

- تحديد يوم 30 نوفمبر يوماً للشّهاد.

يوم استشهاد أول جندي وهو يدافع عن جزرنا

عالم سحر في جزيرة طين الكبرى


○ أقدّم مقترحاً لتكريم أسير الشهداء بدولة الإمارات العربية المتحدة.

○ أكتب رسالة فخر واعتزاز لأُمّهات شهدائنا البواسل الذين قضوا في المعارك للدفاع عن الوطن.

تم تحميل الملف من
موقع **سراج التعليمي**



للمزيد اكتب
في جوجل



حمل تطبيق **سراج التعليمي**

