



مؤسسة الإمارات للتعليم المدرسي  
EMIRATES SCHOOLS ESTABLISHMENT



مدرسة مصفوت الحلقة الثانية بنات  
Masfout Girls' School - Cycle2



# تدريبات حسب هيكل امتحان الدراسات الاجتماعية الصف السابع عام/متقدم 2024-2023

الفصل الدراسي الأول

بدرية إبراهيم مبارك البدواوي



الاختبارات تحتاج  
للاستعداد المبكر  
وتهيئة المكان  
المناسب وإدارة  
الوقت لتحقيق  
الهدف فهي من أهم  
نقاط التخطيط  
الجيد للتفوق  
خالص الدعاء لكن  
بالتوفيق والنجاح



مؤسسة الإمارات للتعليم المدرسي  
EMIRATES SCHOOLS ESTABLISHMENT

مئوية الإمارات 2071  
UAE CENTENNIAL 2071  
The World's Leading Nation  
أفضل دولة في العالم



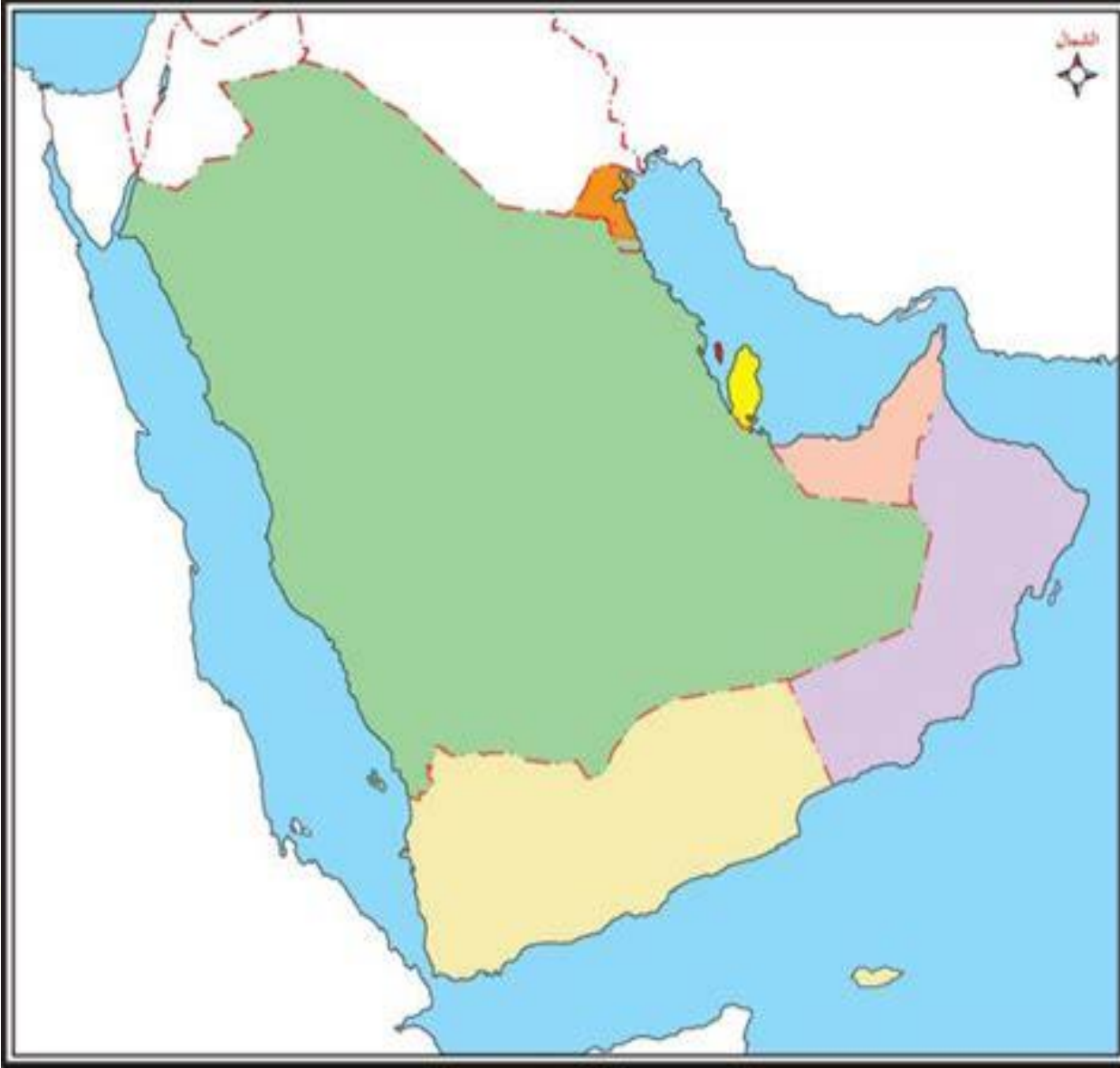
مدرسة مصفوت الحلقة الثانية بنات  
Masfout Girls' School - Cycle2

# هيكل امتحان الدراسات الاجتماعية الصف السابع عام - متقدم / 2023

11	معلوماتي مقروء	أحوال العرب في شبه الجزيرة العربية	يصف التغيرات السياسية والاجتماعية والدينية في شبه الجزيرة العربية
12			
13			
14			
15			
16	معرفة مقروء	هويتي ولاء و انتماء	يبين دوره في تحقيق إنجازات الوطن
17			
18			
19			
20			

Reference(s) in the Student Book	Learning Outcome/Performance Criteria**	Question*
المرجع في كتاب الطالب		السؤال*
نوع النص	الوحدة/ الموضوع	نتائج التعلم/ معايير الأداء**
معلوماتي مقروء (خريطة)	جغرافية شبه الجزيرة العربية واقتصادها	يشرح الخصائص الطبيعية والبشرية لشبه الجزيرة العربية
معلوماتي مقروء (أشكال)	تابع/ جغرافية شبه الجزيرة العربية واقتصادها	يبين الأنشطة الاقتصادية لسكان شبه الجزيرة العربية

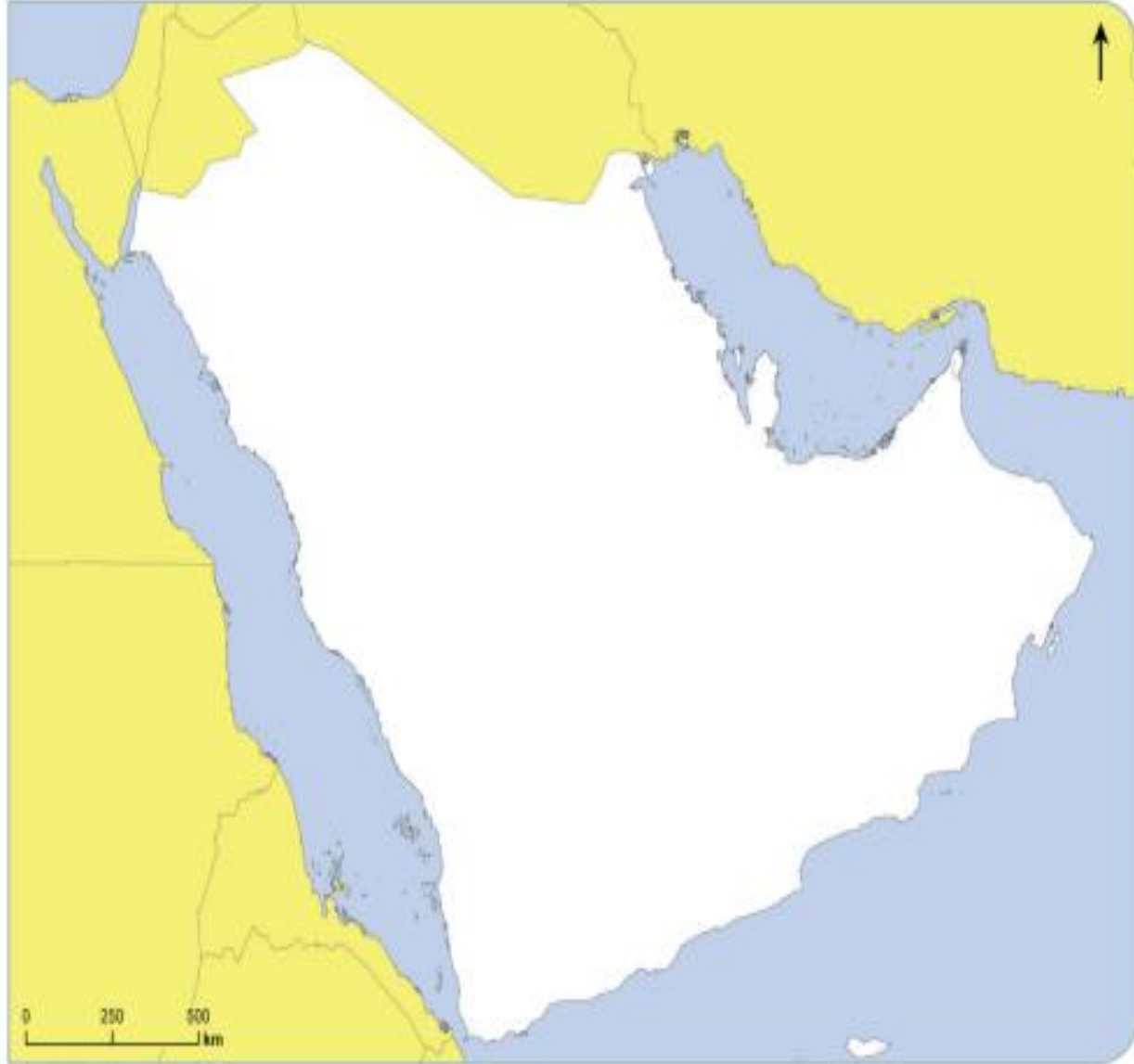
2023/2024	Academic Year
	العام الدراسي
1	Term
	الفصل
الدراسات الاجتماعية	Subject
	المادة
7	Grade
	الصف
عام	Stream
	المسار
20	Number of MCQ
	عدد الأسئلة الموضوعية
5	Marks of MCQ
	درجة الأسئلة الموضوعية
0	Number of FRQ
	عدد الأسئلة المقالية
0	Marks per FRQ
	الدرجات للأسئلة المقالية
MCQ/ الأسئلة الموضوعية	Type of All Questions
	نوع كافة الأسئلة
100	Maximum Overall Grade
	الدرجة القصوى الممكنة
120 دقيقة	Exam Duration - مدة الامتحان
SwiftAssess	Mode of Implementation - طريقة التطبيق



## حددي على خريطة شبه الجزيرة العربية الاتي :

1. الخليج العربي
2. مضيق باب المندب
3. الكويت
4. السعودية
5. بحر عمان
6. اليمن
7. البحر الأحمر
8. قطر
9. الامارات
10. مضيق هرمز
11. بحر العرب



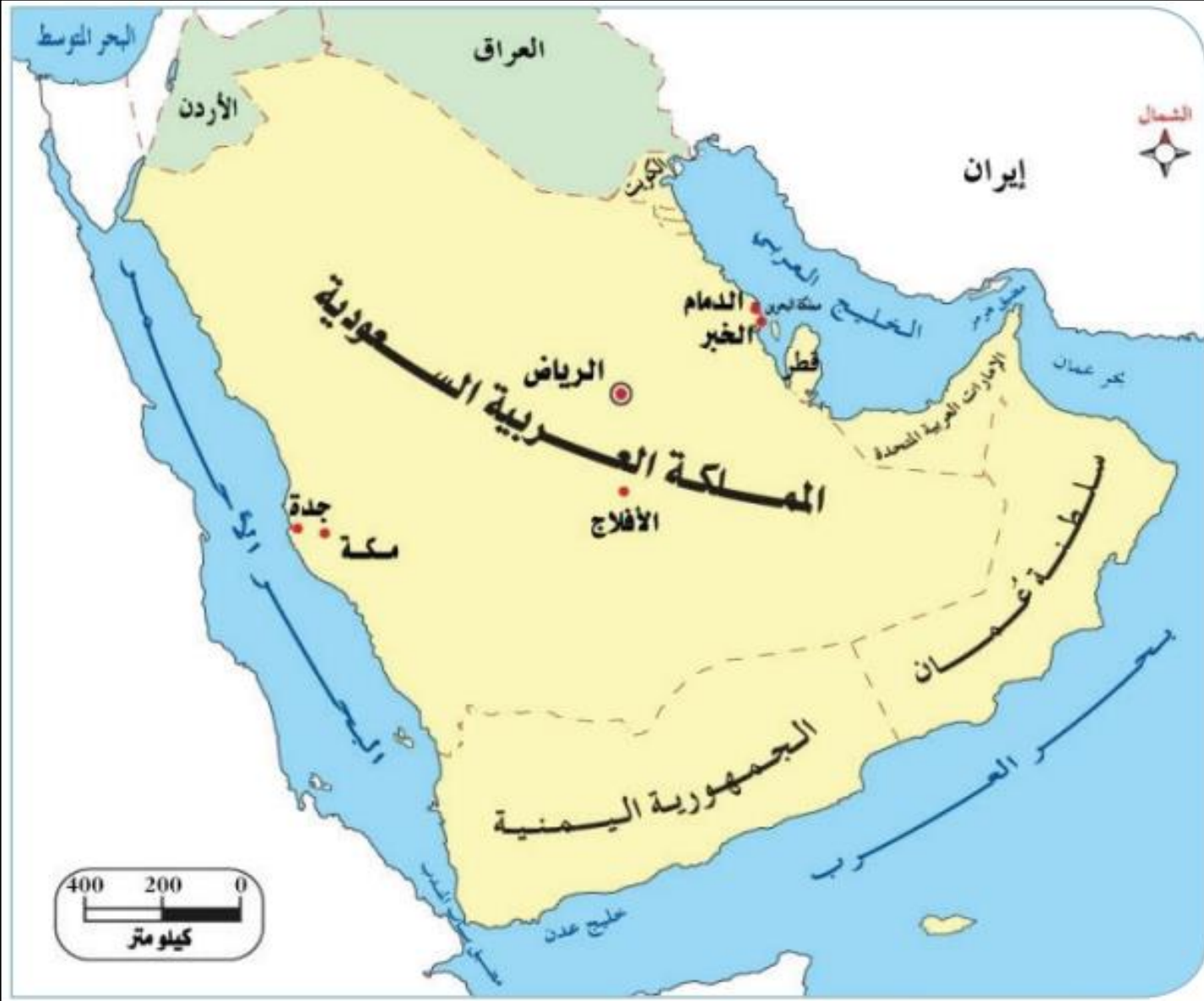


## حددي على خريطة شبه الجزيرة العربية الاتي :

1. جبال عسير
2. هضبة نجد
3. الجبل الأخضر ( جبال عمان )
4. جبال مدين
5. صحراء النفوذ
6. جبال الحجاز
7. مرتفعات اليمن
8. هضبة حضرموت
9. صحراء الربع الخالي
10. سهول تهامة
11. سهول الاحساء

## تأمل خريطة شبه الجزيرة العربية ثم أجب عن الأسئلة الآتية :

1. المسطح المائي الذي تشرف عليه شبه الجزيرة العربية من جهة الغرب.....
2. المسطح المائي الذي تشرف عليه سلطنة عمان من جهة الشرق .....
3. المضيق الذي يربط بين بحر عمان والخليج العربي .....
4. الدولة التي تجاور دولة الامارات من جهة الجنوب.....
5. المسطح المائي الذي تشرف عليه السعودية من جهة الغرب.....
6. جزيرة تنتمي إلى دول شبه الجزيرة العربية .....



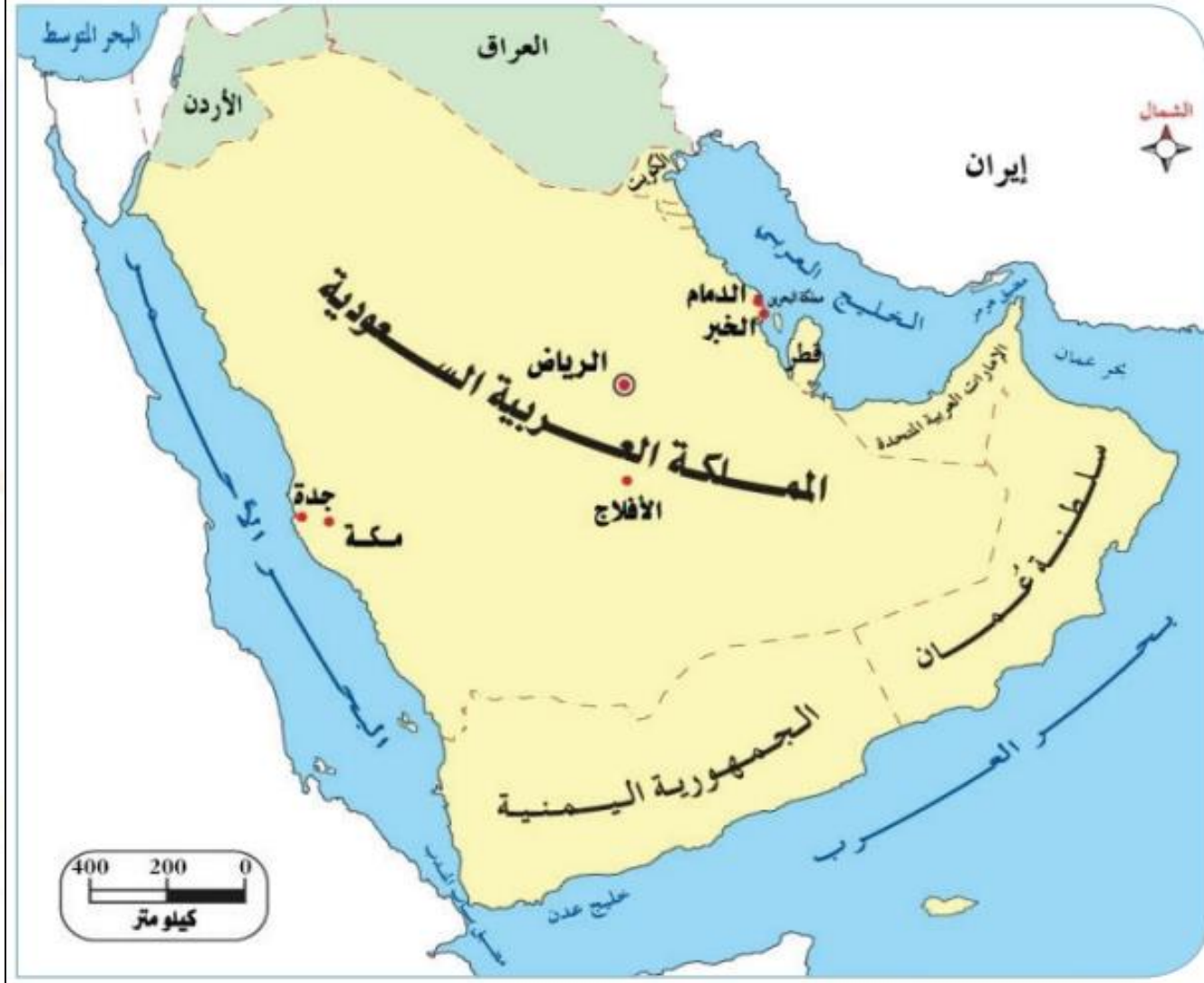
معلوماتي مقروء (خريطة)	جغرافية شبه الجزيرة العربية واقتصادها	يشرح الخصائص الطبيعية والبشرية لشبه الجزيرة العربية
---------------------------	---------------------------------------	---

1



## إجابات الخريطة الموضحة في الشريحة السابقة :

1. البحر الأحمر
2. بحر عمان و بحر العرب
3. مضيق هرمز
4. المملكة العربية السعودية
5. البحر الأحمر
6. البحرين





# تأملي خريطة شبه الجزيرة العربية ثم أجيبني عن الأسئلة الآتية :

1. تعد من أكبر هضاب شبه الجزيرة  
العربية مساحة

2. هضبة جرداء وقاحلة تقع في شبه  
الجزيرة العربية

3. سهول ضيقة مطلة على البحر الأحمر

4. سهول زراعية خصبة تطل على الخليج  
العربي





صاحب الهمه

لا يقف

حتى يتم

المهمة

## إجابات الخريطة الموضحة في الشريحة السابقة :

1. هضبة نجد
2. هضبة حضرموت
3. سهول تهامة
4. سهول الأحساء

### هضبة نجد

تقع وسط شبه الجزيرة العربية، وهي أبرز هضابها، وأكبرها مساحةً، وتحصر بين صحراء النفود في الشمال وصحراء الربع الخالي في الجنوب، ويوجد بعض الأودية الجافة مثل وادي الباطن.

### سهول الأحساء

تقع في شرق المملكة العربية السعودية على سواحل الخليج العربي، وهي سهول زراعية خصبة، يوجد بها كثير من السبخات.

### هضبة حضرموت

تقع في أقصى الجنوب بين صحراء الربع الخالي شمالاً وساحل بحر العرب جنوباً، وهي هضبة قاحلة جرداء دفع فقرها إلى طرد السكان منذ القدم فهاجروا إلى جنوب آسيا.

### سهول تهامة

وهي سهول ساحلية ضيقة، تمتد بمحاذاة ساحل البحر الأحمر، وتُصنف باختلاف أنساعها من منطقة لأخرى، يكونها رملية حصوية، ومن أشهر مدنها في الوقت الحاضر مكة المكرمة وجدة.





## تأملني خريطة شبه الجزيرة العربية ثم أجيبني عن الأسئلة الآتية :

1. يقر الجبل الأخضر في سلسلة جبال....
2. اسم أعلى قمة جبلية في مرتفعات اليمن.....
3. تعد كل من جبال الحجاز وعسير من جبال.....
4. الوادي الذي يفصل بين سلاسل جبال عمان.....

### جبال فنين

يشكّل القسم الشمالي من سلسلة جبال البحر الأحمر في شبه الجزيرة العربية، وهي جبال شاهقة الارتفاع.

### جبال الحجاز

تشغل القسم الأوسط من الجبال الانكسارية الموازية للبحر الأحمر في المملكة العربية السعودية.

### سلسلة جبال عُمان

تقع في الركن الجنوبي الشرقي من شبه الجزيرة العربية، وتتصف بأنها أراضي جبلية وعرة وعريضة، وتشكّل سلسلة متصلة لا يفصل بينها سوى وادي سمائل الذي يصب في بحر عُمان، ويعدّ الجبل الأخضر في عُمان من أغلى قممها.

### جبال عسير

يشكّل الجزء الجنوبي من الجبال الانكسارية في السعودية، ونظراً لارتفاعها تغزّر الأمطار فيها، فقام فيها عدد كبير من المدن والقرى الصغيرة، ومنها مدينة (أبها).

### مرتفعات اليمن

وتعدّ أعلى جهات شبه الجزيرة العربية، وتتميّز بأنحدارها الشديد نحو البحر الأحمر وبكثرة الوديان، وتوجد فيها أعلى القمم الجبلية في شبه الجزيرة العربية وهي (قمة جبل النبي شعيب) غرب صنعاء.

الارتفاعات (بالمتر)





معلوماتي مقروء (خريطة)	جغرافية شبه الجزيرة العربية و اقتصادها	شرح الخصائص الطبيعية والبشرية لشبه الجزيرة العربية
---------------------------	---	--

1



## إجابات الخريطة الموضحة في الشريحة السابقة :

1. جبال عمان .
2. قمة جبل النبي شعيب .
3. جبال الانكسارية .
4. وادي سمائل .





خريطة شبه الجزيرة العربية السياسية

أحدّد على الخريطة التي أمامي دائرة العرض  
الرئيسية التي تقطع أراضي بعض دول شبه  
الجزيرة العربية.

أحسب عدد خطوط الطول ودوائر العرض التي  
تمتدّ عليها شبه الجزيرة العربية:

• عدد خطوط الطول: .....

• عدد دوائر العرض: .....

# إجابات الخريطة الموضحة في الشريحة التي أمامك :

## القاعدة :

### خطوط الطول :

شرق - شرق = نطرح

غرب - غرب = نطرح

غرب + شرق = جمع

### دوائر العرض :

شمال - شمال = نطرح

جنوب - جنوب = نطرح

شمال + جنوب : جمع

أحدّد على الخريطة التي أمامي دائرة العرض  
الرئيسية التي تقطع أراضي بعض دول شبه  
الجزيرة العربية.  
مدار السرطان

أحسب عدد خطوط الطول ودوائر العرض التي  
تمتدّ عليها شبه الجزيرة العربية:

• عدد خطوط الطول 60 شرقا - 34 شرقا = 26

• عدد دوائر العرض 32 شمالا - 12 شمالا = 20



خريطة شبه الجزيرة العربية السياسية



# الإمارات

الأولى خليجيا في الصادرات غير النفطية

الإمارات  
الأولى

51.2 %

نسبة صادراتها  
في 2019

السعودية  
الثانية

16.4 %

نسبة صادراتها

16.4

مليار دولار  
قيمتها

7.7

مليار دولار  
قيمتها

بنسبة 12 %

وبقيمة 3.8 مليار  
دولار

40.7

مليار دولار قيمتها  
من 2012 حتى 2019

سلطنة عمان الثالثة

2.1 %

نموا في الصادرات  
البيئية الخليجية

الذهب والأحجار  
الكريمة أهم سلعة  
في الصادرات  
البيئية الخليجية

المصدر: دراسة للمركز الإحصائي لدول الخليج

**تأملي الشكل ثم أجيب عن الأسئلة الآتية :**

1. الدولة التي احتلت المركز الثالث في الصادرات الغير نفطية :
2. الدولة التي بلغت نسبة صادراتها 16.4 %:
3. فرق قيمة الصادرات غير النفطية بين الامارات والسعودية :
4. نسبة صادرات دولة الامارات الغير نفطية في 2019:
5. المعدن الذي يعتبر من أهم الصادرات البيئية الخليجية :

# الإمارات

الأولى خليجيا في الصادرات غير النفطية

الإمارات  
الأولى

51.2 %

نسبة صادراتها  
في 2019

16.4  
مليار دولار  
قيمتها

السعودية  
الثانية

16.4 %

نسبة صادراتها

7.7

مليار دولار  
قيمتها

بنسبة 12 %

وبقيمة 3.8 مليار  
دولار

40.7

مليار دولار قيمتها  
من 2012 حتى 2019

سلطنة عمان الثالثة

2.1 %

نموا في الصادرات  
البيئية الخليجية

الذهب والأحجار  
الكريمة أهم سلعة  
في الصادرات  
البيئية الخليجية

المصدر: دراسة للمركز الإحصائي لدول الخليج



"فَإِنَّ قَدْرَ التَّعَبِ تَكُونُ الرَّاحَةُ"  
ابن القيم

معلوماتي مقروء (أشكال)	تابع / جغرافية شبه الجزيرة العربية و اقتصادها	بين الأنشطة الاقتصادية لسكان شبه الجزيرة العربية
---------------------------	---	--

2

إجابات الشكل (انفوجرافيك) في الشريحة السابقة :

1. سلطنة عمان
2. السعودية
3. 8.7 مليار
4. 51.2 %
5. الذهب



## تأملي الفقرة ثم أجيب عن الأسئلة الآتية :

1. ضعي عنوان مناسب للنص الآتي :
2. من القواعد العامة للحكم التي وضعها الإسلام بتشريعاته :
3. اسم المجلس الاستشاري في دولة الامارات :
4. ما هي الطريقتين التي يتم من خلالها تعيين أعضاء المجلس الوطني :
5. كيف كانت الحالة السياسية لدول شبه الجزيرة قبل الإسلام :
6. عدد السلطات الاتحادية في دولة الامارات :
7. مجموع عدد مقاعد أعضاء إمارة أبو ظبي والشارقة :

قبل وفاة النبي ﷺ توحد العرب في شبه الجزيرة العربية لأول مرة في التاريخ، وأصبحوا بفضل الإسلام أمة واحدة، وزالت عنهم الخصومات والنزاعات، فساد الأمن والأمان في بلاد العرب، وأمن السبل وطرق القوافل التجارية؛ بحيث يتنقل الناس من منطقة إلى أخرى بسلام واطمئنان. وقد وضع الإسلام بتشريعاته قواعد عامة للحكم؛ كالعدل والشورى التي تعني «طلب الرأي ممن هو أهل له، أو هي استطلاع رأي الأمة أو من ينوب عنها في الأمور العامة المتعلقة بها»؛ لذا تحرص الدول الحديثة على إنشاء مجالس استشارية، ومن أمثلة ذلك (المجلس الوطني الاتحادي) في دولة الإمارات العربية المتحدة.

يمثل المجلس الوطني الاتحادي السلطة الاتحادية (الرابعة) من حيث الترتيب في سلم السلطات الاتحادية (الخمس) المنصوص عليها في الدستور، وهي: المجلس الأعلى للاتحاد، ورئيس الاتحاد ونائبه، ومجلس وزراء الاتحاد، والمجلس الوطني الاتحادي، والقضاء الاتحادي. ويضم المجلس الوطني الاتحادي (أربعين) عضواً، يتوزعون على الإمارات بحسب الدستور على أساس: (8) مقاعد لإمارة أبو ظبي، و(8) مقاعد لإمارة دبي، و(6) مقاعد لإمارة الشارقة، و(6) مقاعد لإمارة رأس الخيمة، و(4) مقاعد لإمارة عجمان، و(4) مقاعد لإمارة الفجيرة، و(4) مقاعد لإمارة أم القيوين. يجمع المجلس الوطني الاتحادي في تشكيله بين طريقتي الانتخاب والتعيين منذ العام 2006: حيث يتم اختيار نصف عدد أعضاء المجلس الوطني الاتحادي عن طريق الانتخاب، بينما يتم تعيين النصف الآخر من جانب أصحاب السمو حكام الإمارات؛ حيث يستقل حاكم كل إمارة بتسمية ممثلي إمارته في المجلس الوطني الاتحادي.

معلوماتي مقروء	أحوال العرب في شبه الجزيرة العربية	يصف التغيرات السياسية والاجتماعية والدينية في شبه الجزيرة العربية
----------------	------------------------------------	---

3

قبل وفاة النبي ﷺ توحد العرب في شبه الجزيرة العربية لأول مرة في التاريخ، وأصبحوا بفضل الإسلام أمة واحدة، وزالت عنهم الخصومات والنزاعات، فساد الأمن والأمان في بلاد العرب، وأمن السبل وطرق القوافل التجارية؛ بحيث يتنقل الناس من منطقة إلى أخرى بسلام واطمئنان. وقد وضع الإسلام بتشريعاته قواعد عامة للحكم؛ كالعدل والشورى التي تعني «طلب الرأي ممن هو أهل له، أو هي استطلاع رأي الأمة أو من ينبو عنها في الأمور العامة المتعلقة بها»؛ لذا تحرص الدول الحديثة على إنشاء مجالس استشارية، ومن أمثلة ذلك (المجلس الوطني الاتحادي) في دولة الإمارات العربية المتحدة.

يمثل المجلس الوطني الاتحادي السلطة الاتحادية (الرابعة) من حيث الترتيب في سلم السلطات الاتحادية (الخمس) المنصوص عليها في الدستور، وهي: المجلس الأعلى للاتحاد، ورئيس الاتحاد ونائبه، ومجلس وزراء الاتحاد، والمجلس الوطني الاتحادي، والقضاء الاتحادي. ويضم المجلس الوطني الاتحادي (أربعين) عضواً، يتوزعون على الإمارات بحسب الدستور على أساس: (8) مقاعد لإمارة أبوظبي، و(8) مقاعد لإمارة دبي، و(6) مقاعد لإمارة الشارقة، و(6) مقاعد لإمارة رأس الخيمة، و(4) مقاعد لإمارة عجمان، و(4) مقاعد لإمارة الفجيرة، و(4) مقاعد لإمارة أم القيوين. يجمع المجلس الوطني الاتحادي في تشكيله بين طريقتي الانتخاب والتعيين منذ العام 2006: حيث يتم اختيار نصف عدد أعضاء المجلس الوطني الاتحادي عن طريق الانتخاب، بينما يتم تعيين النصف الآخر من جانب أصحاب السمو حكام الإمارات؛ حيث يستقل حاكم كل إمارة بتسمية ممثلي إمارته في المجلس الوطني الاتحادي.



## إجابات الأسئلة الموضحة في الشريعة السابقة :

1. ما يراه المعلم مناسباً:
2. العدل – الشورى
3. المجلس الوطني الاتحادي
4. الانتخاب – التهيئة
5. انتشار الخصومات، والنزاعات، وفساد الأمن، والأمان .
6. خمس سلطات اتحادية
7. 8 أبو ظبي + 6 الشارقة = 14 عضو



# المناسبات الوطنية في دولة الإمارات

تحتفل دولة الإمارات العربية المتحدة سنوياً في الثاني من ديسمبر باليوم الوطني لقيام دولة الإمارات العربية المتحدة، وهي مناسبة وطنية خالدة، تعبّر عن اتحاد دولة الإمارات العربية المتحدة، إنها قصة حب خالدة كتبها الآباء المؤسسون، بدأت من اليوم الأول للإعلان عن قيام الاتحاد في قصر جميرا في دبي في الثاني من ديسمبر 1971م.

يُعتبر قيام الاتحاد أهم حدث في حياة الشيخ زايد بن سلطان آل نهيان -رحمه الله- بل في حياة المنطقة بأسرها، في 2 ديسمبر 1971م عقد حكام الإمارات اجتماعاً تاريخياً في دبي، وأعلنوا فيه عن قيام دولة الإمارات العربية المتحدة، وبفضل الشيخ زايد وإخوانه من الآباء المؤسسين تحولت الإمارات خلال سنوات قليلة إلى دولة عصريّة ينعم مواطنوها بالرخاء والرّفاة؛ فقد أسهم الشيخ زايد بن سلطان آل نهيان -رحمه الله- بقيادته الحكيمة في تغيير صورة الحياة في كل شبر من أرض الإمارات.

إنّ يوم الشهيد مناسبة وطنية ترسخ فيها أسماء الشهداء التي ستبقى منذ يوم 30 نوفمبر 1971م محفورة في الذاكرة، جاء اختيار (يوم الشهيد) في دولة الإمارات العربية المتحدة ليتزامن مع تاريخ استشهاد أول جندي إماراتي، وهو (سالم سهيل بن خميس)، الذي استشهد في 30 نوفمبر عام 1971م، في جزيرة طنب الكبرى ذوداً عن علم الوطن، فسجل التاريخ اسمه بأحرف من نور كأول إماراتي.

## اقرأ النص ثم أجب عن الأسئلة الآتية

1. صح أم خطأ : أعلن عن قيام الاتحاد في قصر الامارات.
2. اذكر سبب اختيار 30 نوفمبر بيوم الشهيد:
3. تحتفل دولة الامارات باليوم الوطني بتاريخ :
4. قيم ايجابية ذكرت في النص :
5. جزيرة إماراتية تم احتلالها من قبل إيران :

## المناسبات الوطنية في دولة الإمارات

تحتفل دولة الإمارات العربية المتحدة سنوياً في الثاني من ديسمبر باليوم الوطني لقيام دولة الإمارات العربية المتحدة، وهي مناسبة وطنية خالدة، تعبّر عن اتحاد دولة الإمارات العربية المتحدة، إنها قصة حب خالدة كتبها الآباء المؤسسون، بدأت من اليوم الأول للإعلان عن قيام الاتحاد في قصر جميرا في دبي في الثاني من ديسمبر 1971م.

يُعتبر قيام الاتحاد أهم حدث في حياة الشيخ زايد بن سلطان آل نهيان -رحمه الله- بل في حياة المنطقة بأسرها، في 2 ديسمبر 1971م عقد حكام الإمارات اجتماعاً تاريخياً في دبي، وأعلنوا فيه عن قيام دولة الإمارات العربية المتحدة، وبفضل الشيخ زايد وإخوانه من الآباء المؤسسين تحولت الإمارات خلال سنوات قليلة إلى دولة عصريّة ينعم مواطنوها بالرخاء والرّفاهية؛ فقد أسهم الشيخ زايد بن سلطان آل نهيان -رحمه الله- بقيادته الحكيمة في تغيير صورة الحياة في كل شبر من أرض الإمارات.

إنّ يوم الشهيد مناسبة وطنية ترسخ فيها أسماء الشهداء التي ستبقى منذ يوم 30 نوفمبر 1971م محفورة في الذاكرة، جاء اختيار (يوم الشهيد) في دولة الإمارات العربية المتحدة ليتزامن مع تاريخ استشهاد أول جندي إماراتي، وهو (سالم سهيل بن خميس)، الذي استشهد في 30 نوفمبر عام 1971م، في جزيرة طنّب الكبرى ذوداً عن علم الوطن، فسجل التاريخ اسمه بأحرف من نور كأول إماراتي.



### إجابات الأسئلة الموضحة في الشريحة السابقة :

1. خطأ ( قصر جميرا ) .
2. لاستشهاد أول جندي إماراتي وهو سالم سهيل .
3. 2 ديسمبر من كل عام .
4. اتحاد – خالدة – ترسخ – الرخاء – الرفاهية
5. طنّب الكبرى

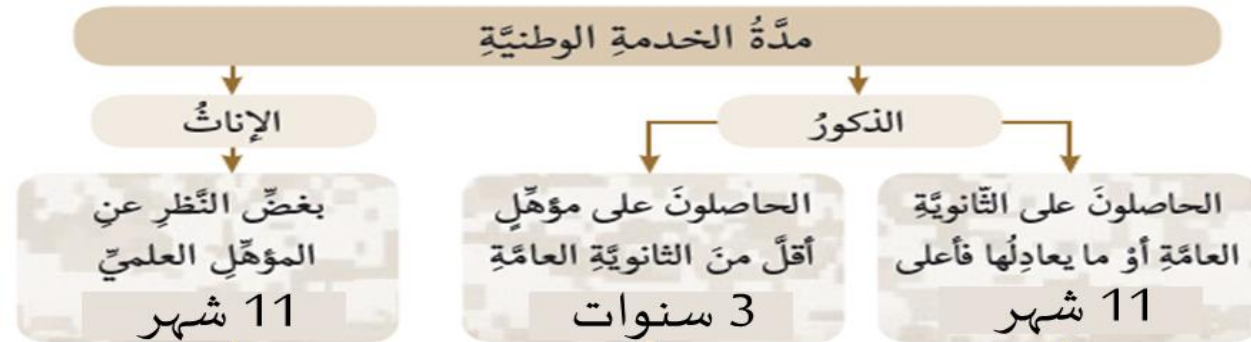


## الخدمة الوطنية في دولة الإمارات

الخدمة الوطنية مدرسة لبناء الشخصية الوطنية وبقائها، وصناعة أجيال متوالية تتحمل مسؤولية استكمال وترسيخ القيم والمبادئ السامية ومفهوم الخدمة الوطنية هي خدمة واجبة على كل من تقرر تجنيده لأدائها في سبيل الوطن، مدة زمنية محدودة وفقاً لأحكام القانون.

أصدر المغفور له بإذن الله الشيخ خليفة بن زايد آل نهيان -رحمة الله- القانون الاتحادي رقم 6 لسنة 2014 م بشأن الخدمة الوطنية والاحتياطية، وتأكيداً على ما ورد في المادة 43 من دستور دولة الإمارات العربية المتحدة التي تنص على: (الدفاع عن الاتحاد فرض مقدس على كل مواطن، وأداء الخدمة العسكرية شرف للمواطنين ينظمه القانون)

من أهداف الخدمة الوطنية، بناء جيل جديد واثق وواعد، يمتلك مقومات الشخصية القيادية، والمواطنة الصالحة والحفاظ على الهوية الوطنية، وتشكيل قوة دفاع وطني إضافية من شباب الوطن لحماية حدوده، والمحافظة على المقدرات والمكتسبات الوطنية، دعم دور القوات المسلحة والمؤسسات الأمنية الأخرى ومنتسبيها في الحفاظ على أمن الوطن واستقراره ومنجزاته.



يجوز وفقاً لمقتضيات المصلحة العامة تعديل مدة الخدمة وفقاً للائحة التنفيذية للقانون

## تأملي الفقرة ثم أجبي عن الأسئلة الآتية :

1. ضعي عنوان آخر مناسب للنص الآتي :
2. متى أصدر القانون الاتحادي للخدمة الوطنية:
3. من الذي أصدر قانون الخدمة الوطنية :
4. مدة الخدمة الوطنية للذكور الحاصلين على مؤهل أقل من الثانوية العامة :
5. قيم وطنية ذكرت في النص:



"النجاح محصلة إجتهدات صغيرة  
تتراكم يوماً بعد يوم"

## الخدمة الوطنية في دولة الإمارات

الخدمة الوطنية مدرسة لبناء الشخصية الوطنية وصقلها، وصناعة أجيال متوالية تتحمل مسؤولية استكمال وترسيخ القيم والمبادئ السامية ومفهوم الخدمة الوطنية هي خدمة واجبة على كل من تقرر تجنيده لأدائها في سبيل الوطن، مدة زمنية محدودة وفقاً لأحكام القانون.

أصدر المغفور له بإذن الله الشيخ خليفة بن زايد آل نهيان -رحمة الله- القانون الاتحادي رقم 6 لسنة 2014 م بشأن الخدمة الوطنية والاحتياطية، وتأكيداً على ما ورد في المادة 43 من دستور دولة الإمارات العربية المتحدة التي تنص على: (الدفاع عن الاتحاد فرض مقدس على كل مواطن، وأداء الخدمة العسكرية شرف للمواطنين ينظمه القانون)

من أهداف الخدمة الوطنية، بناء جيل جديد واثق وواعد، يمتلك مقومات الشخصية القيادية، والمواطنة الصالحة والحفاظ على الهوية الوطنية، وتشكيل قوة دفاع وطني إضافية من شباب الوطن لحماية حدوده، والمحافظة على المقدرات والمكتسبات الوطنية، دعم دور القوات المسلحة والمؤسسات الأمنية الأخرى ومنتسبيها في الحفاظ على أمن الوطن واستقراره ومنجزاته.

## إجابات الأسئلة الموضحة في الشريعة السابقة :

1. ما يراه المعلم مناسباً
2. 2014 م
3. الشيخ خليفة بن زايد رحمه الله
4. 3 سنوات
5. مسؤولية- ترسيخ- وطنية –  
خدمة – الدفاع – القانون – قوة  
حماية – دعم

### مدة الخدمة الوطنية

الإناث

بغض النظر عن  
المؤهل العلمي  
11 شهر

الذكور

الحاصلون على مؤهل  
أقل من الثانوية العامة  
3 سنوات

الحاصلون على الثانوية  
العامة أو ما يعادلها فأعلى  
11 شهر

يجوز وفقاً لمقتضيات المصلحة العامة تعديل مدة الخدمة وفقاً للائحة التنفيذية للقانون