

المراجعة النهائية لمادة الدراسات الاجتماعية الصف السادس الفصل الدراسي الاول لعام 2023-2024

معلم المادة
أ - أحمد عبد الله

مديرة المدرسة
أ - حكمت جبر

الإشراف التربوي
أ - وفاء حسانين

Reference(s) In the Student Book المرجع في كتاب الطالب		Learning Outcome/Performance Criteria**	Question* السؤال*
نوع النص	الوحدة/ الموضوع	ناتج التعلم/ معايير الأداء**	
نص قرائي	الثورات الحضارية في العالم	يبتكر حلولاً للعهد من سلبيات الثورة المعلوماتية	1
			2
			3
			4
			5
شكل معلوماتي	الإمارات وطن الخير والإنسانية العائلية	يبين أهمية المسؤولية الاجتماعية في خدمة مجتمعه	6
			7
			8
			9
			10
نص قرائي	المواطنة الإيجابية	يوضح علاقة المواطنة الإيجابية في التمسك بالمبادئ والقيم	11
			12
			13
			14
			15
شكل معلوماتي وفقرة مصاحبة	الخريطة	يستنتج من الخرائط المتخصصة والرسوم البيانية، البيانات والطواهر الجغرافية في دولته والعالم	16
			17
			18
			19
			20
Questions might appear in a different order in the actual exam, or on the exam paper in the case of G3 and G4.			=
قد تظهر الأسئلة بترتيب مختلف في الامتحان الفعلي، أو على ورقة الإمتحان في حالة الصفين G3 و G4.			=
As it appears in the textbook, LMS, and [Main_IP].			**
كما وردت في كتاب الطالب وLMS والخطة الفصلية .			**

2023/2024	Academic Year العام الدراسي
1	Term الفصل
الدراسات الاجتماعية	Subject المادة
6	Grade الصف
العام	Stream المسار
20	Number of MCQ عدد الأسئلة الموضوعية
5	Marks of MCQ درجة الأسئلة الموضوعية
0	Number of FRQ عدد الأسئلة المقالية
0	Marks per FRQ الدرجات للأسئلة المقالية
الأسئلة الموضوعية / MCQ	Type of All Questions نوع كافة الأسئلة
100	Maximum Overall Grade الدرجة القصوى الممكنة
120 دقيقة	Exam Duration - مدة الامتحان -
SwiftAssess	Mode of Implementation طريقة التطبيق -
Allowed مسموحة	Calculator آلة الحاسبة

تعتبر الهند إحدى أقدم وأغنى الحضارات التي قامت في العالم، حيث يرجع تاريخها لأكثر من خمسة آلاف سنة، ظهر فيها عدد من الإمبراطوريات والشعوب المتعددة العقائد، عبر تاريخ حافل بالحروب والفتوحات والمنجزات الفكرية، ومنذ القدم اعتمد شعبها في اقتصاده على زراعة المحاصيل وتربية القطعان الأليفة من الأغنام والماعز والأبقار، إذ تجري فيها العديد من الأنهار كالسند والغانج وروافدهما، وتدل القرى والمدن القديمة على وجود نظام حكومي واقتصادي مزدهر، وتتمثل أبرز إنجازاتهم في فن البناء وتخطيط المدن، كما عثر على كثير من الأدوات المصنوعة من النحاس والبرونز، ومن المؤكد أن السكان كان لهم علاقات تجارية قوية مع حضارة دلمون (البحرين)، التي كانت حلقة الربط التجاري بين الحضارة الهندية وشبه الجزيرة العربية، حيث عثر فيها على أدوات وعملات تعود للحضارة الهندية القديمة.



أقرأ الفقرة الآتية، والشكل المصاحب، ثم أجب:

10.00 علامة

5 - 1

من الأعياد الدينية التي يحتفل بها مسلمي الهند، عيد:

- a. بوجا
- b. هولي
- c. ديوالي
- d. الأضحى

تعتبر الهند إحدى أقدم وأغنى الحضارات التي قامت في العالم، حيث يرجع تاريخها لأكثر من خمسة آلاف سنة، ظهر فيها عدد من الإمبراطوريات والشعوب المتعددة العقائد، عبر تاريخ حافل بالحروب والفتوحات والمنجزات الفكرية، ومنذ القدم اعتمد شعبها في اقتصاده على زراعة المحاصيل وتربية القطعان الأليفة من الأغنام والماعز والأبقار، إذ تجري فيها العديد من الأنهار كالسند والغانج وروافدهما، وتدل القرى والمدن القديمة على وجود نظام حكومي واقتصادي مزدهر، وتتمثل أبرز إنجازاتهم في فن البناء وتخطيط المدن، كما عثر على كثير من الأدوات المصنوعة من النحاس والبرونز، ومن المؤكد أن السكان كان لهم علاقات تجارية قوية مع حضارة دلمون (البحرين)، التي كانت حلقة الربط التجاري بين الحضارة الهندية وشبه الجزيرة العربية، حيث عثر فيها على أدوات وعملات تعود للحضارة الهندية القديمة.



أقرأ الفقرة الآتية، والشكل المصاحب، ثم أجب:

5 - 2 10.00 علامة

الطعام الأساسي لسكان الهند، هو:

- ☐ a. الفواكه
- ☐ b. الحلوى
- ☐ c. الخضراوات
- ☐ d. الأرز

تعتبر الهند إحدى أقدم وأغنى الحضارات التي قامت في العالم، حيث يرجع تاريخها لأكثر من خمسة آلاف سنة، ظهر فيها عدد من الإمبراطوريات والشعوب المتعددة العقائد، عبر تاريخ حافل بالحروب والفتوحات والمنجزات الفكرية، ومنذ القدم اعتمد شعبها في اقتصاده على زراعة المحاصيل وتربية القطعان الأليفة من الأغنام والماعز والأبقار، إذ تجري فيها العديد من الأنهار كالسند والغانج وروافدهما، وتدل القرى والمدن القديمة على وجود نظام حكومي واقتصادي مزدهر، وتتمثل أبرز إنجازاتهم في فن البناء وتخطيط المدن، كما عثر على كثير من الأدوات المصنوعة من النحاس والبرونز، ومن المؤكد أن السكان كان لهم علاقات تجارية قوية مع حضارة دلمون (البحرين)، التي كانت حلقة الربط التجاري بين الحضارة الهندية وشبه الجزيرة العربية، حيث عثر فيها على أدوات وعملات تعود للحضارة الهندية القديمة.



أقرأ الفقرة الآتية، والشكل المصاحب، ثم أجب:

10.00 علامة

5 - 3

الدليل على وجود علاقات تجارية بين الحضارة الهندية وحضارة دلمون:

- ☐ a. قرب المسافة بين الهند ودلمون
- ☐ b. قلة عدد الهنود في البحرين
- ☐ c. العثور على عملات هندية في دلمون
- ☐ d. الموقع الجغرافي للبحرين

تعتبر الهند إحدى أقدم وأغنى الحضارات التي قامت في العالم، حيث يرجع تاريخها لأكثر من خمسة آلاف سنة، ظهر فيها عدد من الإمبراطوريات والشعوب المتعددة العقائد، عبر تاريخ حافل بالحروب والفتوحات والمنجزات الفكرية، ومنذ القدم اعتمد شعبها في اقتصاده على زراعة المحاصيل وتربية القطعان الأليفة من الأغنام والماعز والأبقار، إذ تجري فيها العديد من الأنهار كالسند والغانج وروافدهما، وتدل القرى والمدن القديمة على وجود نظام حكومي واقتصادي مزدهر، وتتمثل أبرز إنجازاتهم في فن البناء وتخطيط المدن، كما عثر على كثير من الأدوات المصنوعة من النحاس والبرونز، ومن المؤكد أن السكان كان لهم علاقات تجارية قوية مع حضارة دلمون (البحرين)، التي كانت حلقة الربط التجاري بين الحضارة الهندية وشبه الجزيرة العربية، حيث عثر فيها على أدوات وعملات تعود للحضارة الهندية القديمة.



أقرأ الفقرة الآتية، والشكل المصاحب، ثم أجب:

10.00 علامة

5 - 4

من العوامل الطبيعية التي ساعدت على ازدهار الحضارة الهندية من القدم:

- ☐ a. تعدد الأديان فيها
- ☐ b. توفر المياه العذبة
- ☐ c. وجود الأماكن الأثرية
- ☐ d. كثرة الحروب

تعتبر الهند إحدى أقدم وأغنى الحضارات التي قامت في العالم، حيث يرجع تاريخها لأكثر من خمسة آلاف سنة، ظهر فيها عدد من الإمبراطوريات والشعوب المتعددة العقائد، عبر تاريخ حافل بالحروب والفتوحات والمنجزات الفكرية، ومنذ القدم اعتمد شعبها في اقتصاده على زراعة المحاصيل وتربية القطعان الأليفة من الأغنام والماعز والأبقار، إذ تجري فيها العديد من الأنهار كالسند والغانج وروافدهما، وتدل القرى والمدن القديمة على وجود نظام حكومي واقتصادي مزدهر، وتتمثل أبرز إنجازاتهم في فن البناء وتخطيط المدن، كما عثر على كثير من الأدوات المصنوعة من النحاس والبرونز، ومن المؤكد أن السكان كان لهم علاقات تجارية قوية مع حضارة دلمون (البحرين)، التي كانت حلقة الربط التجاري بين الحضارة الهندية وشبه الجزيرة العربية، حيث عثر فيها على أدوات وعملات تعود للحضارة الهندية القديمة.



يعتمد شعب الهند في طعامهم ليومي على الأرز والقمح كغذاء أساسي، هذا بالإضافة إلى تميزهم بالتوابل الحارة، كالكاوي والفلفل

كثير من المهرجانات الهندية هي دينية في الأصل، ومن أشهرها: عيد الفطر، ديوالي، هولي، وبوجا.

الساري الهندي اللباس

الموسيقى الهندية ذات طابع

الكلاسيكي، ويشتهرون ببقصة

أقرأ الفقرة الآتية، والشكل المصاحب، ثم أجب:

5 - 5 10.00 علامة

نستدل على حضارات الشعوب المختلفة من خلال:

- ☐ a. روايات كتاب السينما
- ☐ b. المباني الحديثة
- ☐ c. الآثار والأدوات القديمة التي يعثر عليها
- ☐ d. القصص الخرافية

تعتبر الهند إحدى أقدم وأغنى الحضارات التي قامت في العالم، حيث يرجع تاريخها لأكثر من خمسة آلاف سنة، ظهر فيها عدد من الإمبراطوريات والشعوب المتعددة العقائد، عبر تاريخ حافل بالحروب والفتوحات والمنجزات الفكرية، ومنذ القدم اعتمد شعبها في اقتصاده على زراعة المحاصيل وتربية القطعان الأليفة من الأغنام والماعز والأبقار، إذ تجري فيها العديد من الأنهار كالسند والغانج وروافدهما، وتدل القرى والمدن القديمة على وجود نظام حكومي واقتصادي مزدهر، وتتمثل أبرز إنجازاتهم في فن البناء وتخطيط المدن، كما عثر على كثير من الأدوات المصنوعة من النحاس والبرونز، ومن المؤكد أن السكان كان لهم علاقات تجارية قوية مع حضارة دلمون (البحرين)، التي كانت حلقة الربط التجاري بين الحضارة الهندية وشبه الجزيرة العربية، حيث عثر فيها على أدوات وعملات تعود للحضارة الهندية القديمة.



كثير من المهرجانات الهندية هي دينية في الأصل، ومن أشهرها: عيد الفطر، ديوالي، هولي، وبوجا.

الساري الهندي اللباس

يعتمد شعب الهند في طعامهم ليومي على الأرز والقمح كغذاء أساسي، هذا بالإضافة إلى تميزهم التوابل الحارة، كالكارى والفلفل

الموسيقى الهندية ذات طابع الكلاسيكي، ويشتهرون ببقصة

أقرأ الفقرة الآتية، والشكل المصاحب، ثم أجب:

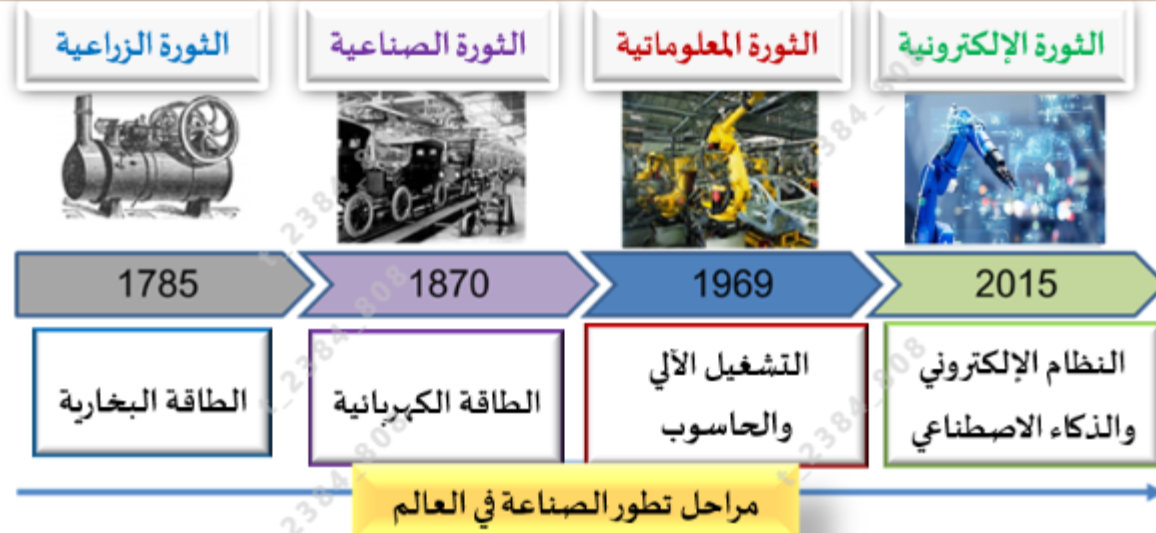
5 - 1 10.00 علامة

بدأ أول استخدام للحاسوب في العالم، عام:

- ☐ a. 2015
- ☐ b. 1969
- ☐ c. 1870
- ☐ d. 1785

طلقت حكومة دولة الإمارات العربية المتحدة في سبتمبر 2017، استراتيجية الإمارات للثورة الصناعية الرابعة، التي تركز على عدد من المحاور، منها التعليم المبتكر، والذكاء الاصطناعي، والرعاية الصحية لروبوتية التي تعزز مكانة دولة الإمارات كمركز عالمي للرعاية الصحية، وذلك من خلال تقديم خدمات حكومية ذكية وتفاعلية على مدار الساعة، لتحقيق سعادة المتعامل وتعزيز مكانة دولة الإمارات كنموذج لمدن التي تستخدم الذكاء الاصطناعي وتحقيق الاستدامة، وتهدف الاستراتيجية إلى:

1. تحقيق أمن المستقبل المائي والغذائي المستدام، من خلال توظيف الطاقة المتجددة.
2. الاستفادة من بيانات الأقمار الصناعية واستغلالها في تخطيط مدن المستقبل.
3. تطوير الصناعات الوطنية في مجال الروبوتات وتقنيات المركبات ذاتية القيادة.



أقرأ الفقرة الآتية، والشكل المصاحب، ثم أجب:

5 - 2 10.00 علامة


من الصناعات الوطنية المخطط لإنتاجها في دولة الإمارات في مجال الذكاء الاصطناعي:

- ☐ a. البلاستيك
- ☐ b. المنسوجات القطنية
- ☐ c. المركبات ذاتية القيادة
- ☐ d. الألبان والأجبان

طلقت حكومة دولة الإمارات العربية المتحدة في سبتمبر 2017، استراتيجية الإمارات للثورة الصناعية الرابعة، التي تركز على عدد من المحاور، منها التعليم المبتكر، والذكاء الاصطناعي، والرعاية الصحية لروبوتية التي تعزز مكانة دولة الإمارات كمركز عالمي للرعاية الصحية، وذلك من خلال تقديم خدمات حكومية ذكية وتفاعلية على مدار الساعة، لتحقيق سعادة المتعامل وتعزيز مكانة دولة الإمارات كنموذج لمدين التي تستخدم الذكاء الاصطناعي وتحقيق الاستدامة، وتهدف الاستراتيجية إلى:

1. تحقيق أمن المستقبل المائي والغذائي المستدام، من خلال توظيف الطاقة المتجددة.
2. الاستفادة من بيانات الأقمار الصناعية واستغلالها في تخطيط مدن المستقبل.
3. تطوير الصناعات الوطنية في مجال الروبوتات وتقنيات المركبات ذاتية القيادة.

الثورة الزراعية



1785

الطاقة البخارية

الثورة الصناعية



1870

الطاقة الكهربائية

الثورة المعلوماتية



1969

التشغيل الآلي
والحاسوب

الثورة الإلكترونية



2015

النظام الإلكتروني
والذكاء الاصطناعي

مراحل تطور الصناعة في العالم

أقرأ الفقرة الآتية، والشكل المصاحب، ثم أجب:

5 - 4 10.00 علامة


أطلقت دولة الإمارات استراتيجيتها للثورة الصناعية الرابعة، في عام:

- ☐ a. 2015
- ☐ b. 2017
- ☐ c. 2000
- ☐ d. 2020

طلقت حكومة دولة الإمارات العربية المتحدة في سبتمبر 2017، استراتيجية الإمارات للثورة الصناعية الرابعة، التي تركز على عدد من المحاور، منها التعليم المبتكر، والذكاء الاصطناعي، والرعاية الصحية لروبوتية التي تعزز مكانة دولة الإمارات كمركز عالمي للرعاية الصحية، وذلك من خلال تقديم خدمات حكومية ذكية وتفاعلية على مدار الساعة، لتحقيق سعادة المتعامل وتعزيز مكانة دولة الإمارات كنموذج لمدن التي تستخدم الذكاء الاصطناعي وتحقق الاستدامة، وتهدف الاستراتيجية إلى:

1. تحقيق أمن المستقبل المائي والغذائي المستدام، من خلال توظيف الطاقة المتجددة.
2. الاستفادة من بيانات الأقمار الصناعية واستغلالها في تخطيط مدن المستقبل.
3. تطوير الصناعات الوطنية في مجال الروبوتات وتقنيات المركبات ذاتية القيادة.

الثورة الزراعية



1785

الطاقة البخارية

الثورة الصناعية



1870

الطاقة الكهربائية

الثورة المعلوماتية



1969

التشغيل الآلي
والحاسوب

الثورة الإلكترونية



2015

النظام الإلكتروني
والذكاء الاصطناعي

مراحل تطور الصناعة في العالم

Limit



تسليم

1 - 1



أقرأ الفقرة الآتية، والشكل المصاحب، ثم أجب:

5 - 5 10.00 علامة


اعتمدت الثورة الزراعية على استخدام الطاقة:

- ☐ a. البخارية
- ☐ b. الكهربائية
- ☐ c. الشمسية
- ☐ d. الإلكترونية

طلقت حكومة دولة الإمارات العربية المتحدة في سبتمبر 2017، استراتيجية الإمارات للثورة الصناعية الرابعة، التي تركز على عدد من المحاور، منها التعليم المبتكر، والذكاء الاصطناعي، والرعاية الصحية لروبوتية التي تعزز مكانة دولة الإمارات كمركز عالمي للرعاية الصحية، وذلك من خلال تقديم خدمات حكومية ذكية وتفاعلية على مدار الساعة، لتحقيق سعادة المتعامل وتعزيز مكانة دولة الإمارات كنموذج لمدين التي تستخدم الذكاء الاصطناعي وتحقيق الاستدامة، وتهدف الاستراتيجية إلى:

1. تحقيق أمن المستقبل المائي والغذائي المستدام، من خلال توظيف الطاقة المتجددة.
2. الاستفادة من بيانات الأقمار الصناعية واستغلالها في تخطيط مدن المستقبل.
3. تطوير الصناعات الوطنية في مجال الروبوتات وتقنيات المركبات ذاتية القيادة.

الثورة الزراعية



1785

الطاقة البخارية

الثورة الصناعية



1870

الطاقة الكهربائية

الثورة المعلوماتية



1969

التشغيل الآلي
والحاسوب

الثورة الإلكترونية



2015

النظام الإلكتروني
والذكاء الاصطناعي

تطور الصناعة في العالم Speaker / Headphone (Realtek(R) Audio):

أقرأ الفقرة الآتية، والشكل المصاحب، ثم أجب:

5 - 3 10.00 علامة


تهدف دولة الإمارات من تطبيق الذكاء الاصطناعي، إلى:

- ☐ a. تحقيق الاستدامة لأجيال المستقبل
- ☐ b. زيادة الاعتماد على النفط
- ☐ c. زيادة استهلاك الكهرباء
- ☐ d. الحدّ من استخدام الحاسوب

طلّقت حكومة دولة الإمارات العربية المتحدة في سبتمبر 2017، استراتيجية الإمارات للثورة الصناعية الرابعة، التي تركز على عدد من المحاور، منها التعليم المبتكر، والذكاء الاصطناعي، والرعاية الصحية لروبوتية التي تعزز مكانة دولة الإمارات كمركز عالمي للرعاية الصحية، وذلك من خلال تقديم خدمات حكومية ذكية وتفاعلية على مدار الساعة، لتحقيق سعادة المتعامل وتعزيز مكانة دولة الإمارات كنموذج لمدين التي تستخدم الذكاء الاصطناعي وتحقيق الاستدامة، وتهدف الاستراتيجية إلى:

1. تحقيق أمن المستقبل المائي والغذائي المستدام، من خلال توظيف الطاقة المتجددة.
2. الاستفادة من بيانات الأقمار الصناعية واستغلالها في تخطيط مدن المستقبل.
3. تطوير الصناعات الوطنية في مجال الروبوتات وتقنيات المركبات ذاتية القيادة.

الثورة الزراعية



الثورة الصناعية



الثورة المعلوماتية

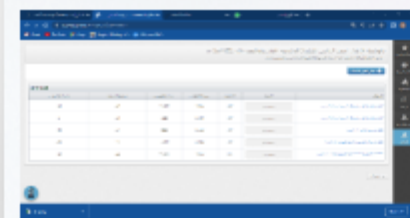


الثورة الإلكترونية



Google Chrome - إستعراض سؤال

Google - نتائج الامتحانات - سوفيت أسيس



Google... - إستعراض سؤال



2015

النظام الإلكتروني
والذكاء الاصطناعي

Limit



1 - 1



أقرأ الشكل الآتي، ثم أجب:

10.00 علامة

5 - 1

قدمت دولة الإمارات مساعدات طبية إلى عدة دول، بلغ عددها حوالي:

- ☐ a. 44 دولة
- ☐ b. 100 دولة
- ☐ c. 10 دول
- ☐ d. 500 دولة

الإمارات ومحمد بن زايد أيقونة الخير والعطاء



- مبادرات غير مسبقة للوقوف إلى جانب الإنسان
- إسعاد الإنسان والارتقاء بمستوى معيشته هدف أساسي
- مساعدتي لتحسين ظروف حياة الملايين من البشر والتخفيف من معاناتهم
- إحدى الدول العشر الأكثر نشاطاً بمجال محاربة الجوع
- 500 ألف طن من المساعدات الطبية لأكثر من 4.4 دولة
- مئات الآلاف من العاملين بالمجال الطبي استفادوا منها

أيقونة عالمية للتأخي والتسامح ومثال القائد الشجاع والفارس النبيل

دعم ومساندة الجهود العالمية المبذولة للقضاء على الأمراض والجوع

دعم ومساندة الدول والشعوب والوقوف إلى جانبها في الظروف كافة

محمد بن زايد
 وجهود استثنائية

Limit



1 - 1



أقرأ الشكل الآتي، ثم أجب:

10.00 علامة

5 - 2

من القيم الإنسانية الإيجابية الواردة في الشكل:

- ☐ a. التسامح
- ☐ b. الاتحاد
- ☐ c. المرض
- ☐ d. الجوع

الإمارات ومحمد بن زايد أيقونة الخير والعطاء



● إحدى الدول العشر
الأكثر نشاطاً بمجال
محاربة الجوع

● إسهام الإنسان
والارتقاء بمستوى
معيشته هدف أساسي

● مبادرات غير مسبقة
للقوف إلى جانب
الإنسان

● 500 ألف طن من
المساعدات الطبية
لأكثر من 44 دولة

● مساعي لتحسين
ظروف حياة الملايين
من البشر والتخفيف
من معاناتهم

● مئات الآلاف من
العاملين بالمجال
الطبي استفادوا منها

أيقونة عالمية للتأخي والتسامح ومثال القائد
الفتاح والفارس النبيل

دعم ومساندة الجهود العالمية المبذولة
للقضاء على الأمراض والجوع

دعم ومساندة الدول والشعوب والوقوف إلى
جانبها في الظروف كافة

محمد بن زايد
 وجهود استثنائية



Limit



1 - 1



أقرأ الشكل الآتي، ثم أجب:

10.00 علامة

5 - 3



13. تحرص دولة الإمارات وصاحب السمو رئيس الدولة، على دعم ومساندة دول وشعوب العالم في:

- ☐ a. علاج المرضى
- ☐ b. كل الظروف
- ☐ c. أوقات الحرب
- ☐ d. مكافحة الفقر

الإمارات ومحمد بن زايد أيقونة الخير والعطاء



- مبادرات غير مسبقة للوقوف إلى جانب الإنسان
- إسعاد الإنسان والارتقاء بمستوى معيشتة هدف أساسي
- 500 ألف طن من المساعدات الطبية لأكثر من 44 دولة
- مساعي لتحسين ظروف حياة الملايين من البشر والتخفيف من معاناتهم
- مئات الآلاف من العاملين بالمجال الطبي استفادوا منها

أيقونة عالمية للتأخي والتسامح ومثال القائد الشجاع والفارس النبيل

دعم ومساندة الجهود العالمية المبذولة للقضاء على الأمراض والجوع

دعم ومساندة الدول والشعوب والوقوف إلى جانبها في الظروف كافة

محمد بن زايد
 وجهود استثنائية

Limit



1 - 1



أقرأ الشكل الآتي، ثم أجب:

10.00 علامة

5 - 4



الهدف الأساسي لجهود صاحب السمو الشيخ محمد بن زايد آل نهيان في مجال الخير والعطاء، هو:

- ☐ a. زيادة دخل الدولة
- ☐ b. الدعاية والتسويق لدولة الإمارات
- ☐ c. إسعاد الإنسان في كل مكان
- ☐ d. مساعدة المحتاجين في دولة الإمارات فقط

الإمارات ومحمد بن زايد أيقونة الخير والعطاء



● إحدى الدول العشر الأكثر نشاطاً بمجال محاربة الجوع

● إسهام الإنسان والارتقاء بمستوى معيشته هدف أساسي

● مبادرات غير مسبقة للوقوف إلى جانب الإنسان

● 500 ألف طن من المساعدات الطبية لأكثر من 44 دولة

● مساعي لتحسين ظروف حياة الملايين من البشر والتخفيف من معاناتهم

● مئات الآلاف من العاملين بالمجال الطبي استفادوا منها

أيقونة عالمية للتأخي والتسامح ومثال القائد الشجاع والفارس النبيل

دعم ومساندة الجهود العالمية المبذولة للقضاء على الأمراض والجوع

دعم ومساندة الدول والشعوب والوقوف إلى جانبها في الظروف كافة

محمد بن زايد
 وجهود استثنائية

Limit



تسليم

1 - 1



أقرأ الشكل الآتي، ثم أجب:

10.00 علامة

5 - 5



يدعم سمو الشيخ محمد بن زايد آل نهيان الجهود المبذولة للقضاء على الأمراض والجوع في دول:

- ☐ a. الوطن العربي
- ☐ b. العالم كافة
- ☐ c. الخليج العربية
- ☐ d. العالم الإسلامي

الإمارات ومحمد بن زايد أيقونة الخير والعطاء



● إحدى الدول العشر الأكثر نشاطاً بمجال محاربة الجوع

● إسهام الإنسان والارتقاء بمستوى معيشته هدف أساسي

● مبادرات غير مسبقة للوقوف إلى جانب الإنسان

● 500 ألف طن من المساعدات الطبية لأكثر من 4.4 دولة

● مئات الآلاف من العاملين بالمجال الطبي استفادوا منها

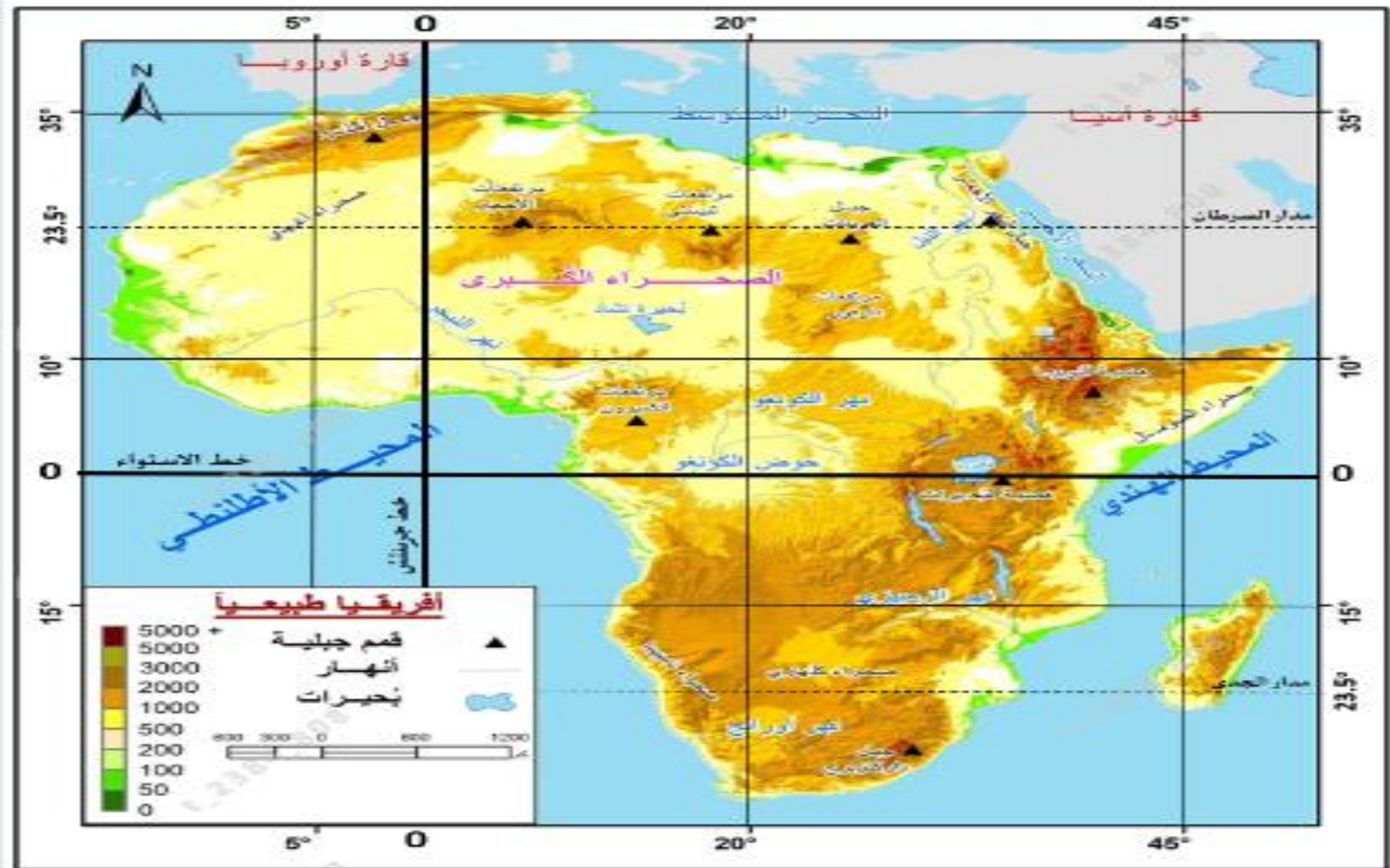
● مساعي لتحسين ظروف حياة الملايين من البشر والتخفيف من معاناتهم

أيقونة عالمية للتأخي والتسامح ومثال القائد الشجاع والفارس النبيل

دعم ومساندة الجهود العالمية المبذولة للقضاء على الأمراض والجوع

دعم ومساندة الدول والشعوب والوقوف إلى جانبها في الظروف كافة

محمد بن زايد
 وجهود استثنائية



Limit



1 - 1



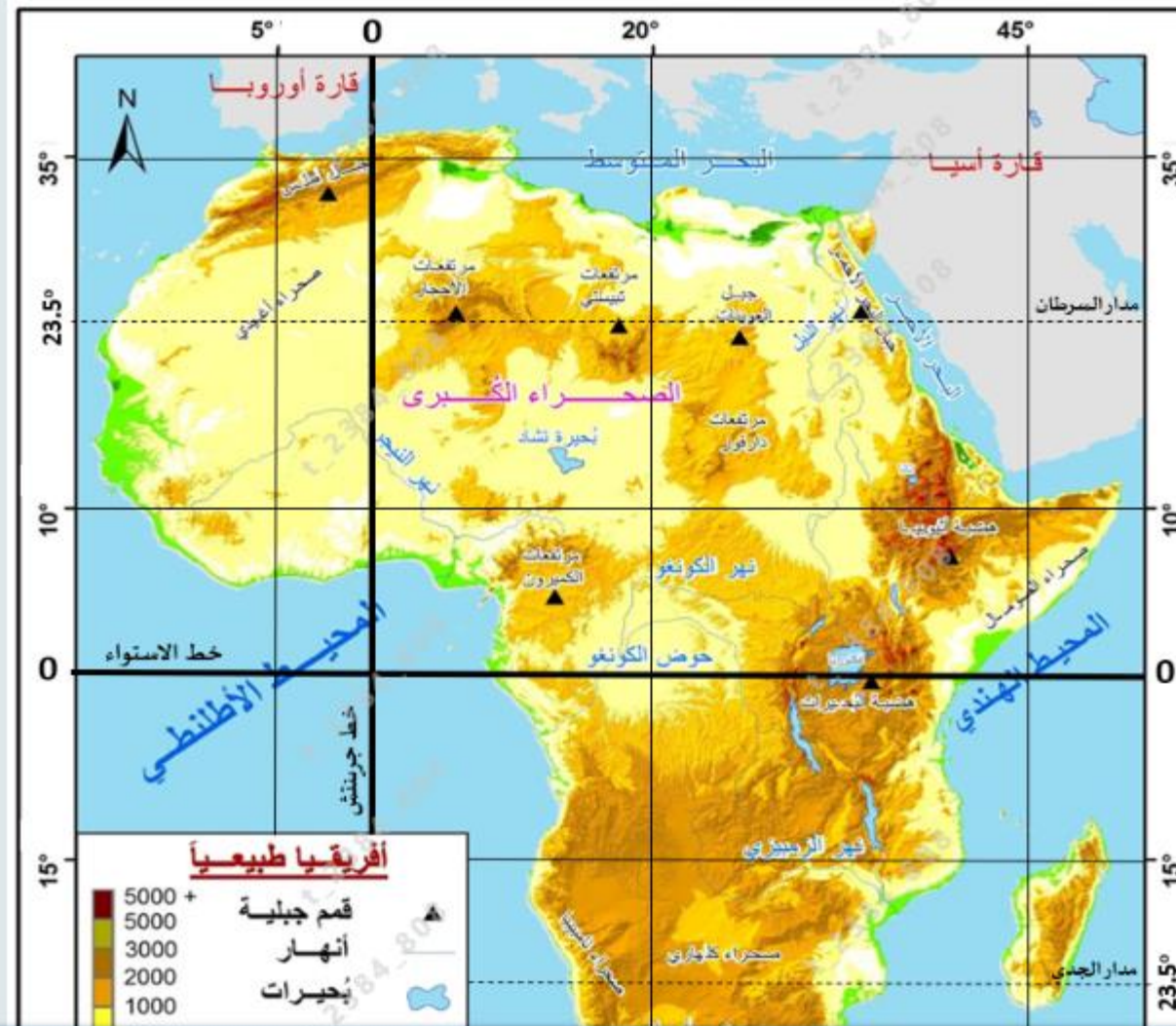
أقرأ الخريطة الطبيعية لقارة أفريقيا، ثم أجب:

10.00 علامة

5 - 1

يقع نهر النيل في القارة الإفريقية بالنسبة لخط جرينتش، في جهة:

- ☐ a. الشمال
- ☐ b. الجنوب
- ☐ c. الشرق
- ☐ d. الغرب



Limit



1 - 1

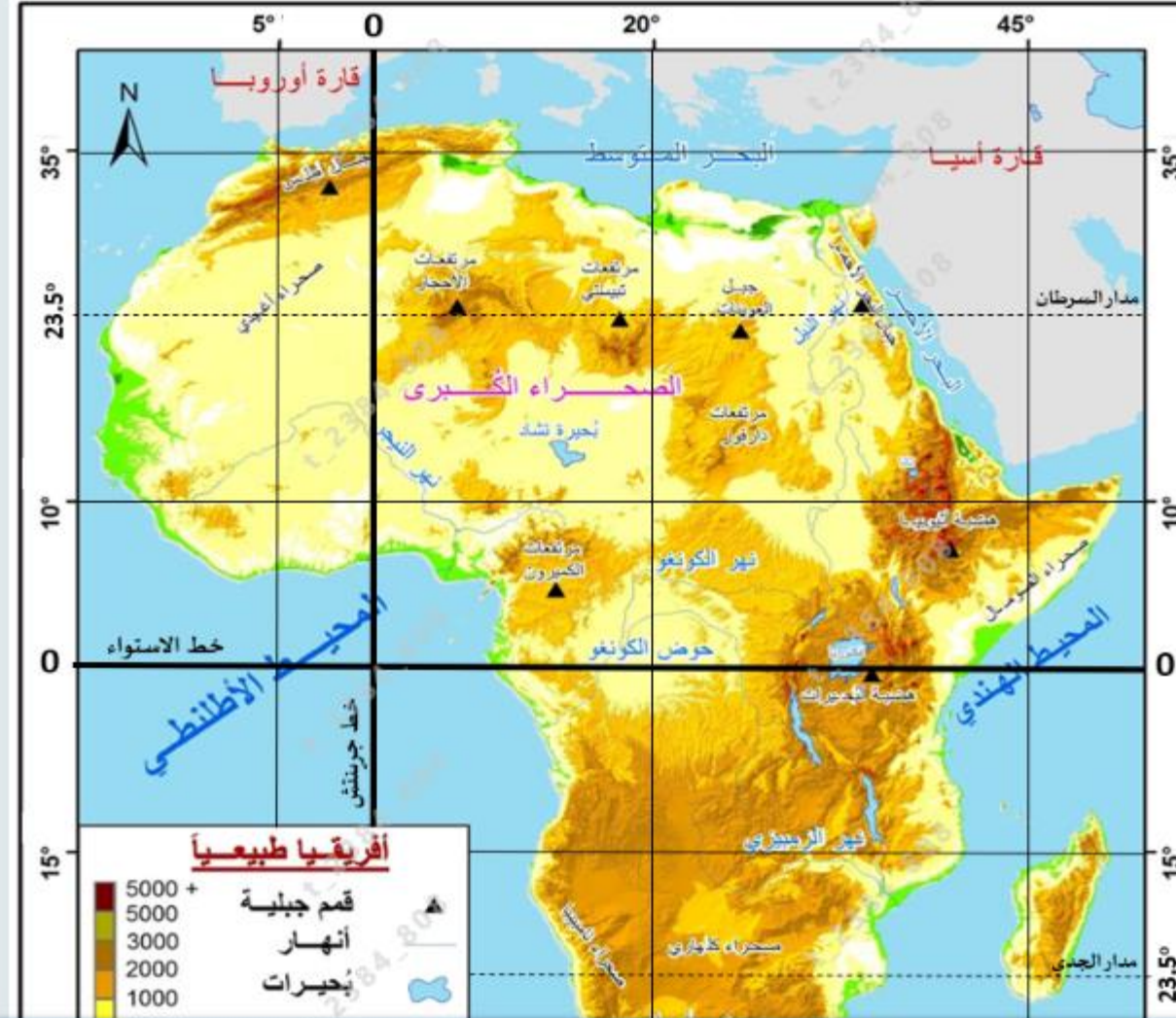


أقرأ الخريطة الطبيعية لقارة أفريقيا، ثم أجب:

10.00 علامة 5 - 3

يلتقي على خريطة القارة الإفريقية، خط الطول (20) شرقاً ودائرة العرض (صفر)، في:

- ☐ a. هضبة البحيرات
- ☐ b. جبال أطلس
- ☐ c. المحيط الأطلسي
- ☐ d. حوض الكونغو



Limit



1 - 1



أقرأ الخريطة الطبيعية لقارة أفريقيا، ثم أجب:

10.00 علامة

5 - 4

أقل أشكال التضاريس انتشاراً في القارة الإفريقية، هي:



a. الصحاري



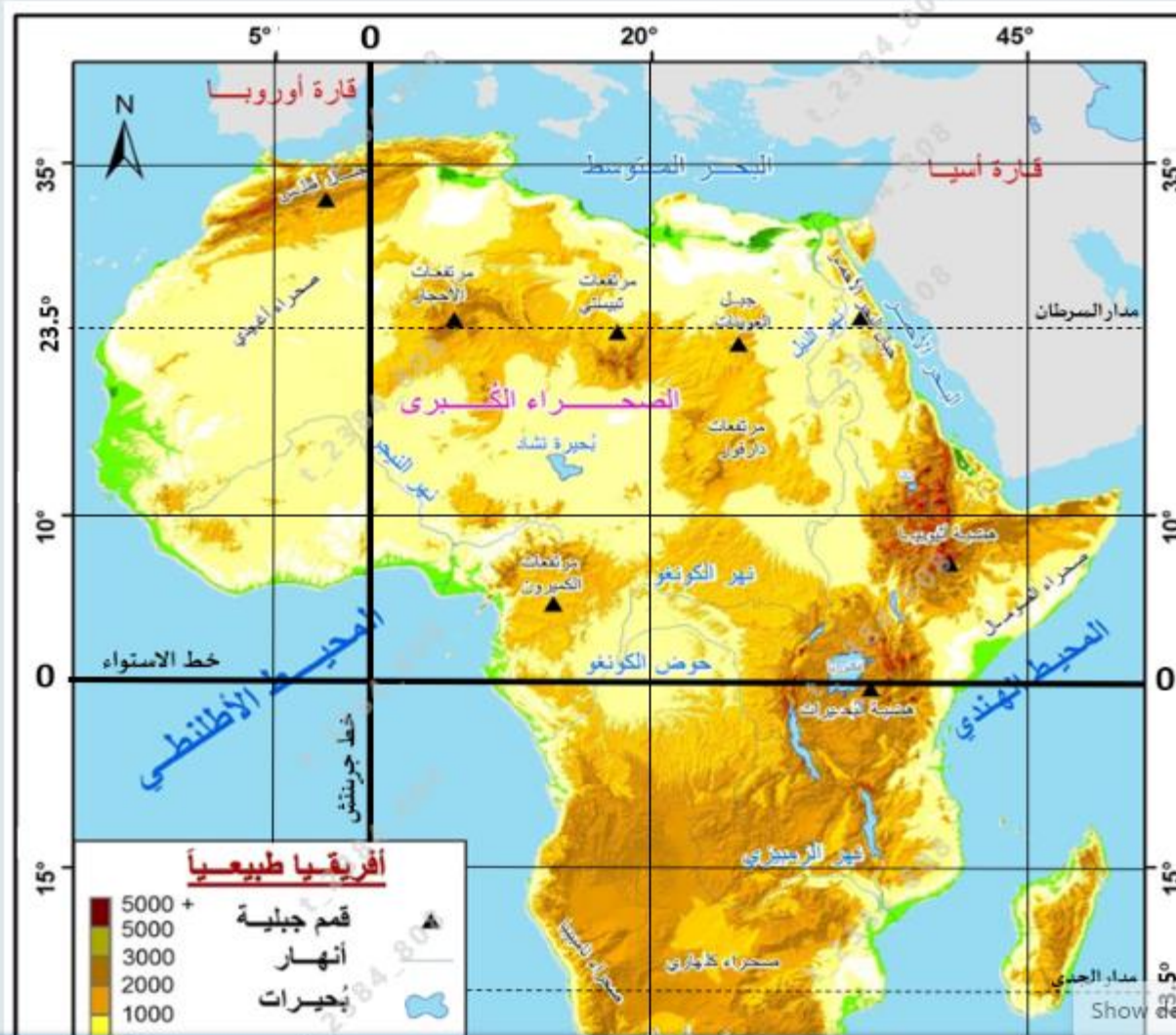
b. الأنهار



c. السهول



d. الهضاب



Limit



1 - 1



أقرأ الخريطة الطبيعية لقارة أفريقيا، ثم أجب:

10.00 علامة

5 - 2

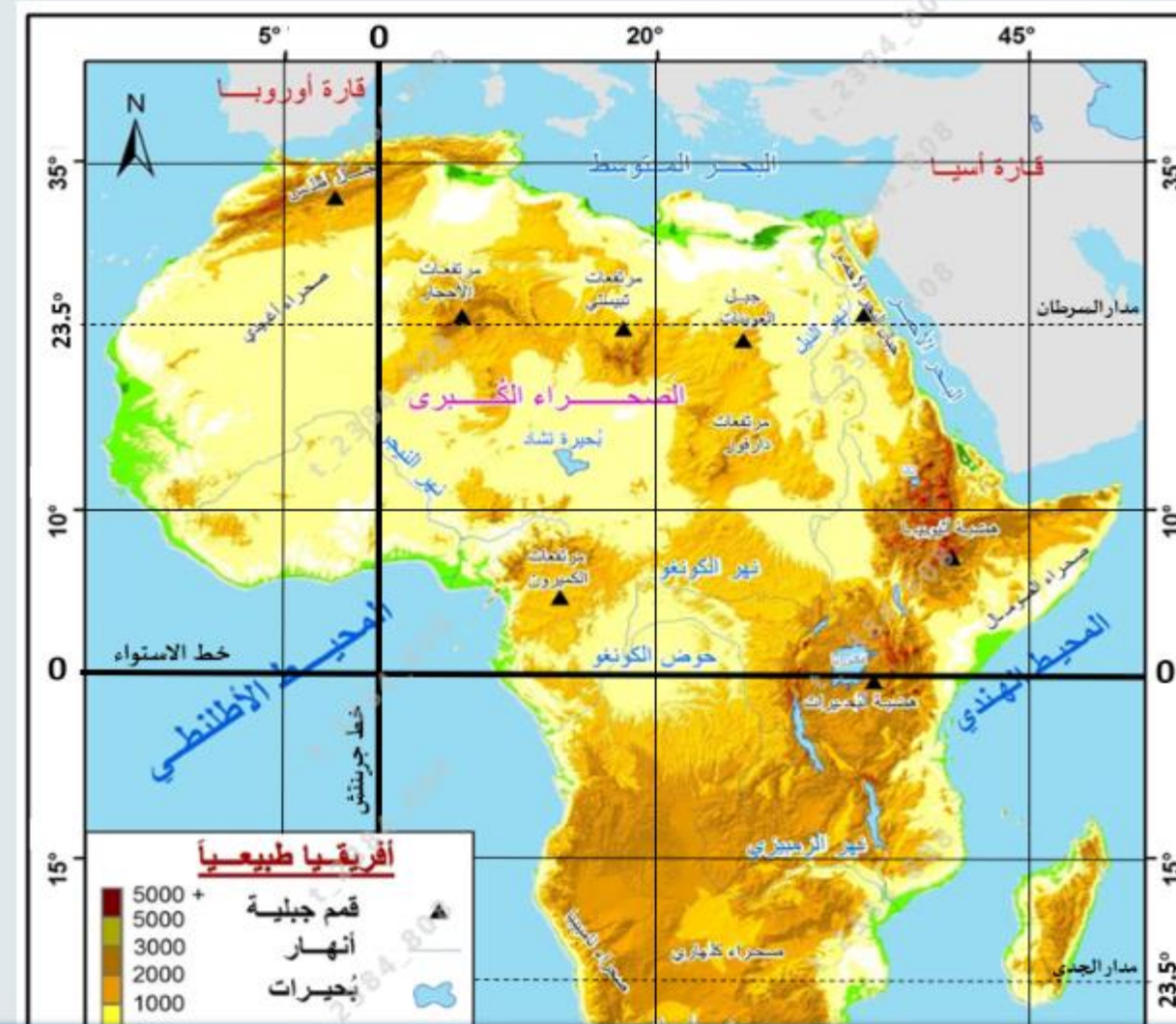
يرمز إلى البحيرات على الخريطة، بالشكل:



a.



b.



Limit



تسليم

1 - 1



أقرأ الخريطة الطبيعية لقارة أفريقيا، ثم أجب:

10.00 علامة

5 - 5

دائرة العرض الرئيسة التي تمر في منتصف القارة الإفريقية، هي:



a. خط الاستواء



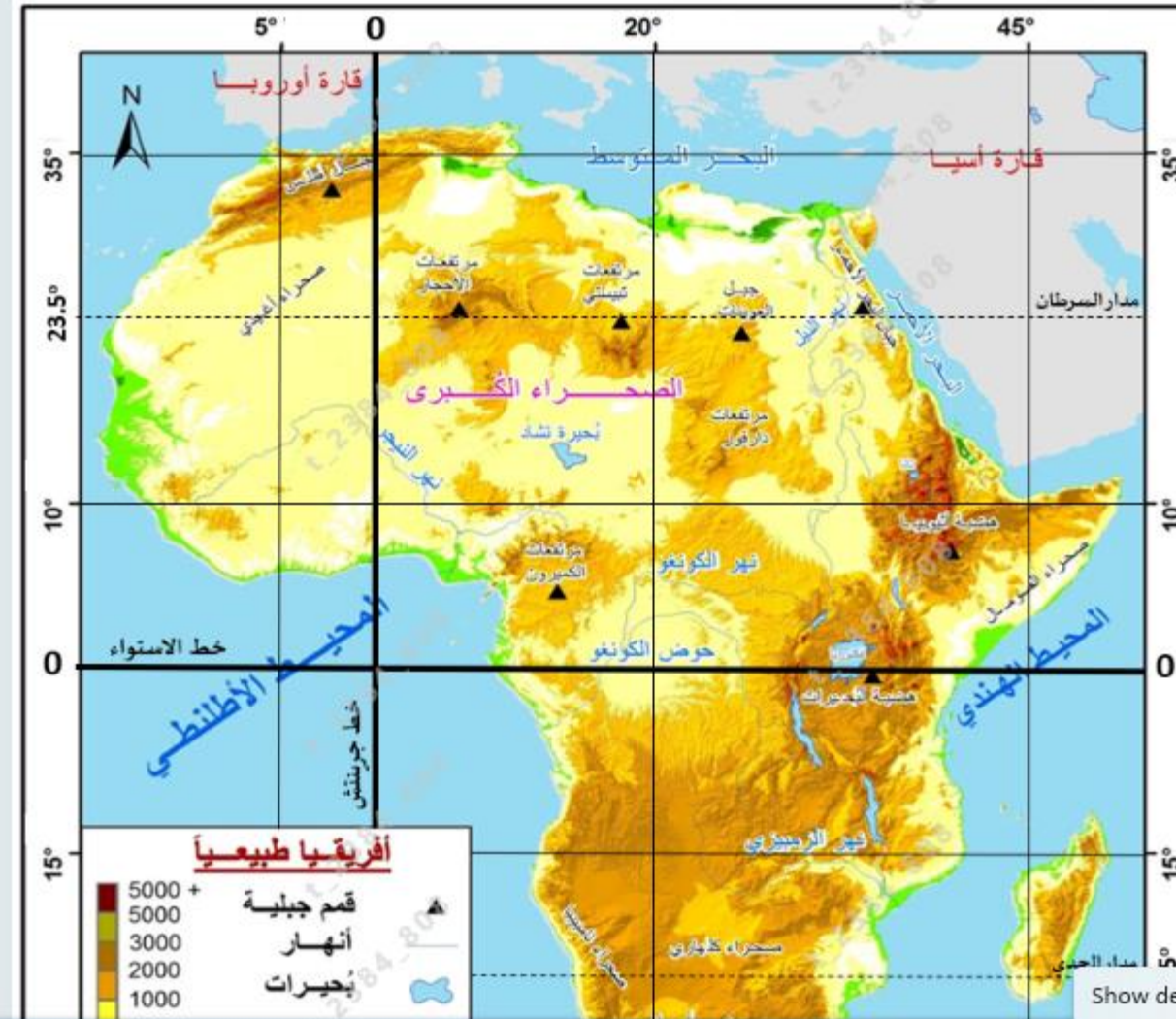
b. مدار السرطان



c. خط جرينتش



d. مدار الجدي



Show de

***** BONUS ***** أقرأ الفقرة الآتية، ثم أجب:

1 - 5 10.00 علامة

المدينة الإماراتية التي سَيُنشَأُ فيها مدينة "دستركت 2020"، هي مدينة:

***** BONUS *****

- ☐ a. الشارقة
- ☐ b. أبوظبي
- ☐ c. الفجيرة
- ☐ d. دبي



وفقاً لتوجهات ورؤية صاحب السمو الشيخ محمد بن راشد آل مكتوم نائب رئيس الدولة رئيس مجلس الوزراء حاكم دبي، رعاه الله، خطت دبي للاستفادة لما بعد «إكسبو 2020 دبي» لتأسيس إرث مستدام ووجهة عالمية تقدم بدائل جديدة لمفهوم الحياة الحضرية، حيث سيتم تحويل 80% من مباني «إكسبو 2020 دبي» بعد انتهاء فترة الحدث العالمي الكبير، إلى مدينة أعمال جديدة وكبيرة تضم كل أسباب نمو وتطور الأعمال، تعرف بـ «دستركت 2020»، التي ستمثل بيئة اقتصادية وسكنية جديدة لدولة الإمارات على المدى البعيد، وستمثل إرثاً للأجيال القادمة بالاعتماد على 4 أركان في المجال الاقتصادي والمجال العمراني ومجال السبعة والمجال الاجتماعي، لتكون واحداً من أكثر الأماكن استدامة والتزاماً تجاه بيئة العيش والعمل على مستوى العالم.

سيحتوي «دستركت 2020» على مباني ذات تصميم متميز وإبداعات هندسية معمارية، وفرص استثمار بمجموعة ضخمة ومتنوعة من المساحات السكنية والتجارية، ومجتمع أعمال متكامل عالمي المستوى، بما يدعم ويسرع عجلة التنمية في الدولة، وليكون مركزاً للمبتكرين والرواد المبدعين، ومكاناً ملهماً ووجهة للمواهب المتميزة، في بيئة عمل مصممة لتسهيل التواصل وتبادل الأفكار والسلع بطريقة مبتكرة، والوصول إلى الأسواق والمعارف الجديدة وأحدث إبداعات العقل البشري، كما ستضم «دستركت 2020» أيضاً مرافق للصحة والرفاهية، بالإضافة إلى حدائق ونباتات مياه ومسارات للمشاة في جميع أنحاء الموقع، مع توفير تطبيقات للنقل العام وخدمات النقل الذكي.

***** BONUS ***** أقرأ الفقرة الآتية، ثم أجب:

5 - 2 10.00 علامة

من ميزات مدينة "دستركت 2020" في مجال الذكاء الاصطناعي، توفر:

***** BONUS *****

- ☐ a. المركبات ذاتية القيادة
- ☐ b. المراكز التجارية
- ☐ c. المدارس الحكومية
- ☐ d. الحدائق العامة



وفقاً لتوجهات ورؤية صاحب السمو الشيخ محمد بن راشد آل مكتوم نائب رئيس الدولة رئيس مجلس الوزراء حاكم دبي، رعاه الله، خطت دبي للاستفادة لما بعد «إكسبو 2020 دبي» لتأسيس إرث مستدام ووجهة عالمية تقدم بدائل جديدة لمفهوم الحياة الحضرية، حيث سيتم تحويل 80% من مباني «إكسبو 2020 دبي» بعد انتهاء فترة الحدث العالمي الكبير، إلى مدينة أعمال جديدة وكبيرة تضم كل أسباب نمو وتطور الأعمال، تعرف بـ «دستركت 2020»، التي ستمثل بيئة اقتصادية وسكنية جديدة لدولة الإمارات على المدى البعيد، وستمثل إرثاً للأجيال القادمة بالاعتماد على 4 أركان في المجال الاقتصادي والمجال العمراني ومجال السبعة والمجال الاجتماعي، لتكون واحداً من أكثر الأماكن استدامة والتزاماً تجاه بيئة العيش والعمل على مستوى العالم.

سيحتوي «دستركت 2020» على مباني ذات تصميم متميز وإبداعات هندسية معمارية، وفرص استثمار بمجموعة ضخمة ومتنوعة من المساحات السكنية والتجارية، ومجتمع أعمال متكامل عالمي المستوى، بما يدعم ويسرع عجلة التنمية في الدولة، وليكون مركزاً للمبتكرين والرواد المبدعين، ومكاناً ملهماً ووجهة للمواهب المتميزة، في بيئة عمل مصممة لتسهيل التواصل وتبادل الأفكار والسلع بطريقة مبتكرة، والوصول إلى الأسواق والمعارف الجديدة وأحدث إبداعات العقل البشري، كما ستضم «دستركت 2020» أيضاً مرافق للصحة والرفاهية، بالإضافة إلى حدائق ونباتات مياه ومسارات للمشاة في جميع أنحاء الموقع، مع توفير تطبيقات للنقل العام وخدمات النقل الذكي.

***** BONUS ***** أقرأ الفقرة الآتية، ثم أجب:

5 - 3 10.00 علامة

ستكون مدينة "دستركت 2020" مركزاً للمبتكرين والمبدعين من دول:

***** BONUS *****

- ☐ a. آسيا
- ☐ b. أوروبا
- ☐ c. العالم
- ☐ d. أمريكا



وفقاً لتوجهات ورؤية صاحب السمو الشيخ محمد بن راشد آل مكتوم نائب رئيس الدولة رئيس مجلس الوزراء حاكم دبي، رعاه الله، خططت دبي للاستفادة لما بعد «إكسبو 2020 دبي» لتأسيس إرث مستدام ووجهة عالمية تقدم بدائل جديدة لمفهوم الحياة الحضرية، حيث سيتم تحويل 80% من مباني «إكسبو 2020 دبي» بعد انتهاء فترة الحدث العالمي الكبير، إلى مدينة أعمال جديدة وكبيرة تضم كل أسباب نمو وتطور الأعمال، تعرف بـ «دستركت 2020»، التي ستمثل بيئة اقتصادية وسكنية جديدة لدولة الإمارات على المدى البعيد، وستمثل إرثاً للأجيال القادمة بالاعتماد على 4 أركان في المجال الاقتصادي والمجال العمراني ومجال السمعة والمجال الاجتماعي، لتكون واحداً من أكثر الأماكن استدامة والتزاماً تجاه بيئة العيش والعمل على مستوى العالم.

سيحتوي «دستركت 2020» على مباني ذات تصميم متميز وإبداعات هندسية معمارية، وفرص استثمار بمجموعة ضخمة ومتنوعة من المساحات السكنية والتجارية، ومجتمع أعمال متكامل عالمي المستوى، بما يدعم ويسرع عجلة التنمية في الدولة، وليكون مركزاً للمبتكرين والرواد المبدعين، ومكاناً ملهماً ووجهة للمواهب المتميزة، في بيئة عمل مصممة لتسهيل التواصل وتبادل الأفكار والسلع بطريقة مبتكرة، والوصول إلى الأسواق والمعارف الجديدة وأحدث إبداعات العقل البشري، كما ستضم «دستركت 2020» أيضاً مرافق للصحة والرفاهية، بالإضافة إلى حدائق ونباتات مياه ومسارات للمشاة في جميع أنحاء الموقع، مع توفير تطبيقات للنقل العام وخدمات النقل الذكي.

***** BONUS ***** أقرأ الفقرة الآتية، ثم أجب:

5 - 4 10.00 علامة

من المجالات التي سيتم الاهتمام بها في "دستركت 2020"، المجال:

***** BONUS *****

- ☐ a. الدبلوماسي
- ☐ b. الاجتماعي
- ☐ c. السياسي
- ☐ d. الديني



وفقاً لتوجهات ورؤية صاحب السمو الشيخ محمد بن راشد آل مكتوم نائب رئيس الدولة رئيس مجلس الوزراء حاكم دبي، رعاه الله، خططت دبي للاستفادة لما بعد «إكسبو 2020 دبي» لتأسيس إرث مستدام ووجهة عالمية تقدم بدائل جديدة لمفهوم الحياة الحضرية، حيث سيتم تحويل 80% من مباني «إكسبو 2020 دبي» بعد انتهاء فترة الحدث العالمي الكبير، إلى مدينة أعمال جديدة وكبيرة تضم كل أسباب نمو وتطور الأعمال، تعرف بـ «دستركت 2020»، التي ستمثل بيئة اقتصادية وسكنية جديدة لدولة الإمارات على المدى البعيد، وستمثل إرثاً للأجيال القادمة بالاعتماد على 4 أركان في المجال الاقتصادي والمجال العمراني ومجال السبعة والمجال الاجتماعي، لتكون واحداً من أكثر الأماكن استدامة والتزاماً تجاه بيئة العيش والعمل على مستوى العالم.

سيحتوي «دستركت 2020» على مباني ذات تصميم متميز وإبداعات هندسية معمارية، وفرص استثمار بمجموعة ضخمة ومتنوعة من المساحات السكنية والتجارية، ومجتمع أعمال متكامل عالمي المستوى، بما يدعم ويسرع عجلة التنمية في الدولة، وليكون مركزاً للمبتكرين والرواد المبدعين، ومكاناً ملهماً ووجهة للمواهب المتميزة، في بيئة عمل مصممة لتسهيل التواصل وتبادل الأفكار والسلع بطريقة مبتكرة، والوصول إلى الأسواق والمعارف الجديدة وأحدث إبداعات العقل البشري، كما ستضم «دستركت 2020» أيضاً مرافق للصحة والرفاهية، بالإضافة إلى حدائق ونباتات مياه ومسارات للمشاة في جميع أنحاء الموقع، مع توفير تطبيقات للنقل العام وخدمات النقل الذكي.

***** BONUS ***** أقرأ الفقرة الآتية، ثم أجب:

5 - 5 10.00 علامة

تهدف رؤية صاحب السمو الشيخ محمد بن راشد آل مكتوم من إنشاء "دستركت 2020"، المحافظة على:

***** BONUS *****

- ☐ a. التراث الإماراتي
- ☐ b. إنتاج الطاقة النفطية
- ☐ c. استدامة موارد الدولة
- ☐ d. شهرة مدينة دبي



وفقاً لتوجهات ورؤية صاحب السمو الشيخ محمد بن راشد آل مكتوم نائب رئيس الدولة رئيس مجلس الوزراء حاكم دبي، رعاه الله، خطت دبي للاستفادة لما بعد «إكسبو 2020 دبي» لتأسيس إرث مستدام ووجهة عالمية تقدم بدائل جديدة لمفهوم

الحياة الحضرية، حيث سيتم تحويل 80% من مباني «إكسبو 2020 دبي» بعد انتهاء فترة الحدث العالمي الكبير، إلى مدينة أعمال جديدة وكبيرة تضم كل أسباب نمو وتطور الأعمال، تعرف بـ «دستركت 2020»، التي ستمثل بيئة اقتصادية وسكنية جديدة لدولة الإمارات على المدى البعيد، وستمثل إرثاً للأجيال القادمة بالاعتماد على 4 أركان في المجال الاقتصادي والمجال العمراني ومجال السمعة والمجال الاجتماعي، لتكون واحداً من أكثر الأماكن استدامة والتزاماً تجاه بيئة العيش والعمل على مستوى العالم.

سيحتوي «دستركت 2020» على مباني ذات تصميم متميز وإبداعات هندسية معمارية، وفرص استثمار بمجموعة ضخمة ومتنوعة من المساحات السكنية والتجارية، ومجتمع أعمال متكامل عالمي المستوى، بما يدعم ويسرع عجلة التنمية في الدولة، وليكون مركزاً للمبتكرين والرواد المبدعين، ومكاناً ملهماً ووجهة للمواهب المتميزة، في بيئة عمل مصممة لتسهيل التواصل وتبادل الأفكار والسلع بطريقة مبتكرة، والوصول إلى الأسواق والمعارف الجديدة وأحدث إبداعات العقل البشري، كما ستضم «دستركت 2020» أيضاً مرافق للصحة والرفاهية، بالإضافة إلى حدائق ونباتات مياه ومسارات للمشاة في جميع أنحاء الموقع، مع توفير تطبيقات للنقل العام وخدمات النقل الذكي.



أولاً: أقرأ النص والشكل ، ثم أجب:

شعار حملة اليوم العالمي للعمل الإنساني لعام 2019م هو المرأة في العمل الإنساني ومع الاحتفال بهذا اليوم نكرم النساء العاملات في طواقم الإغاثة الإنسانية، ذلك النشاط الهادف إلى تقديم المساعدة والإغاثة للأفراد الذين يواجهون خطراً يهدد حياتهم، وتكمن أهمية العمل الإنساني في العمل بإخلاص لإسعاد الآخرين وتعزيز شعور العطاء لدى الإنسان. ونستذكر عطاء النساء ممن عالجن جرحى الحرب في أفغانستان، وساهمن في تخفيف معاناة انعدام الأمن الغذائي، وساعدن من فقدوا منازلهم وسبل عيشهم في أماكن عديدة حول العالم، كجمهورية أفريقيا الوسطى وجنوب السودان وسوريا واليمن وغيرها. والنساء يشكلن عددًا كبيرًا من الذين يعملون في مجال الإغاثة ويخاطرون بحياتهم لإنقاذ الآخرين، وغالبًا ما تكون النساء أول من يستجيب للمساعدة وآخر من يغادر الميدان، واليوم نحن بحاجة ماسة إليهن للعمل في مجال العمل الإنساني أكثر من أي وقت مضى لتعزيز الاستجابة الإنسانية العالمية لجميع الفئات.

■ اختر الإجابة الصحيحة من بين البدائل وضع خطأ تحتها :

1 - يطلق على النشاط الذي يهدف إلى تقديم المساعدة والإغاثة للأفراد الذين يواجهون خطراً يهدد حياتهم:

a- العمل الإلزامي b- العمل الروتيني c- العمل الإنساني d- العمل المجاني

2 - يصادف الاحتفال بـ " يوم العمل الإنساني " في كل عام:

a- 18 أغسطس b- 19 أغسطس c- 20 أغسطس d- 21 أغسطس

3 - شاركت النساء في علاج جرحى الحرب في:

a- الصومال b- لبنان c- باكستان d- أفغانستان

4 - شعار حملة اليوم العالمي للعمل الإنساني لعام 2019م يسمى:

a- المرأة في العمل الإنساني b- الأفراد والعمل الإنساني c- طواقم الإغاثة الإنسانية d- التطوع

■ - استخلص من النص اثنين لكل مما يلي :

5- مفاهيم ومصطلحات.

.....

6 - أهمية العمل الإنسان.

.....

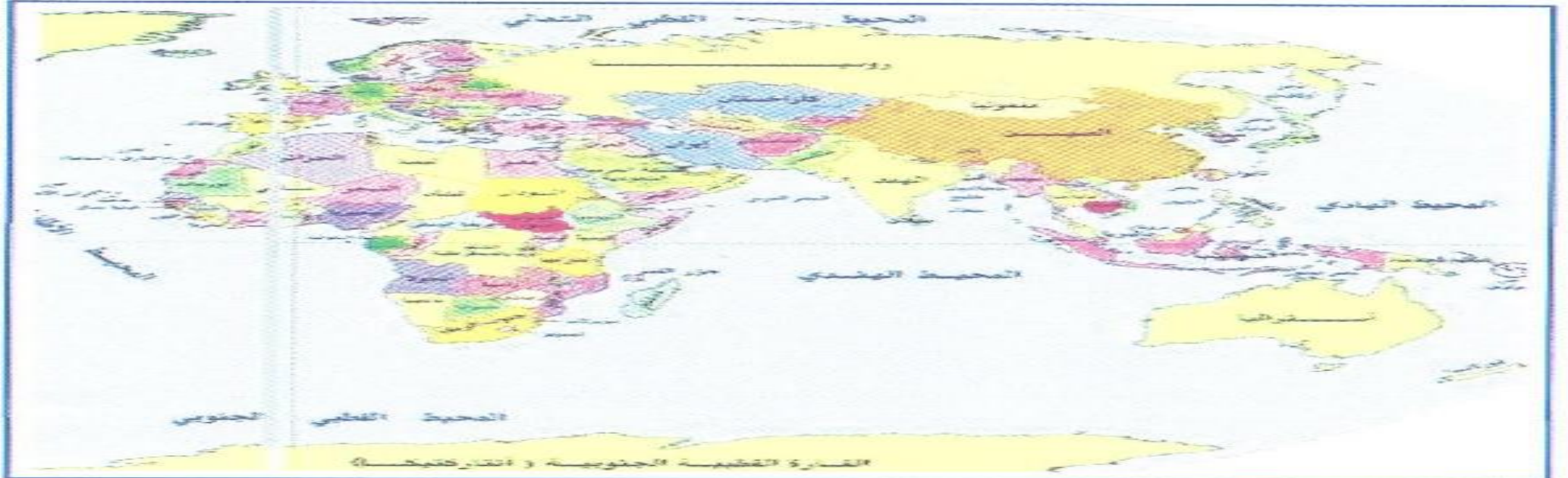
7 - أعمال النساء في طواقم الإغاثة.

.....

8 - قيم إيجابية.

.....

■ 9 - لاحظ الخريطة التي أمامك وضع دائرة حول دولتين من الدول التي ذكرت في النص.




ثانياً: أقرأ النص ، ثم أجب:

الثورة المعلوماتية هي التدفق الهائل من المعلومات في شتى مجالات المعرفة، وإتاحة وتوفير المعلومة والوصول إليها وتبادلها وحفظها واسترجاعها بكل سهولة وسرعة، وارتبطت الثورة المعلوماتية بتطور جهاز الحاسوب، ومن أشكال الشبكة المعلوماتية الإنترنت والبريد الإلكتروني والتجارة الإلكترونية والحكومة الإلكترونية، والشخص الذي يحمل هاتفاً مدعوماً بخدمة الإنترنت يستطيع أن يبحث عما يشاء من المعلومات ويرسلها صوتاً وصورة ومقاطع فيديو، وللثورة المعلوماتية إيجابيات حيث تساعد في الوصول إلى المعلومات بسرعة ويسر، وسهلت التواصل بين الأفراد، وأسهمت في تنمية العلاقات الإنسانية، واختصرت الوقت والجهد، وساعدت الطلبة في الدراسة في المدارس والجامعات، ونتيجة الاستخدام المخلوط لهذه التقنيات ظهرت سلبيات مثل استغلال الأطفال ونشر معلومات غير صحيحة وبث القيم والعادات السلبية، والأعمال المنافية للأداب والأخلاق، كما وقللت من قيمة الرجوع للكتاب كمصدر مهم للمعلومة، لذلك لابد من تعزيز مفهوم الرقابة الذاتية بالتوعية والتربية الدينية.

■ استكمل العبارات الآتية بالكلمات المناسبة:

- 10- يطلق على التدفق الهائل من المعلومات في شتى مجالات المعرفة.....
 - 11 - ارتبطت الثورة المعلوماتية بتطور جهاز.....
 - 12 - ساعدت الثورة المعلوماتية في التواصل وتنمية العلاقات.....
 - 13 - يستطيع الشخص الذي يحمل هاتفاً أن يرسل معلومات كيف ما يشاء إذا توافرت لديه خدمة.....
- أكتب أسفل كل صورة ما تتل عليه أشكال الثورة المعلوماتية:



■ استخلص من النص اثنتين من الإيجابيات، والسلبيات التي ترتبت على الثورة المعلوماتية:

17 -	الإيجابيات	
18 -	السلبيات	

■ اكتب اثنتين لكل مما يلي:

19- الفئات التي تستخدم الثورة المعلوماتية.

20- مؤسسات تعتمد على الثورة المعلوماتية.

21- توصيات عند استخدام الانترنت.

18

ثالثاً : أقرأ النص ، ثم أجب :




يقع متحف ساروق الحديد بمنطقة الشندغة في بر دبي، ويرجع تاريخ تشييده إلى عام 1928م ويحتوي مكتشفات أثرية وجدت في دبي قبل 4000 عام، وقد تم اكتشاف هذه الآثار في الصحراء ، التي تمثل حقبة من تاريخ دولة الإمارات ، بموقع " ساروق الحديد " اكتشفه صاحب السمو الشيخ محمد بن راشد آل مكتوم - رعاه الله - بنفسه عام 2002م في منطقة المرموم ، ويشتمل الموقع على منطقة أثرية واسعة تحوي كميات كبيرة من خامات المعادن وآلاف القطع الأثرية النادرة كالسيوف والخناجر وأدوات وأواني المتنوعة ، وقد صُمم شعار إكسبو 2020م دبي من مشغولات ذهبية، وهو رسالة تؤكد أن شعب دولة الإمارات ذو حضارة ضاربة في التاريخ، ورسالة للعالم بأننا كنا وستبقى أهل تواصل ومحطة لالتقاء الحضارات وعاصمة للإبداع، وشعار إكسبو 2020 دبي عبارة عن تجميع لأنماط من نقوش ومشغولات ذهبية أبدعتها الحضارة الإماراتية، ونسجت خيوط تواصلها مع حضارات أخرى ، ومنها حضارة دلمون والفراعنة والرافدين وحضارة ما وراء النهرين والسند والهند.



33 - الخرائط التي تمثل الظواهر التي خلقها الله سبحانه وتعالى، ولا دخل للإنسان في نشأتها يطلق عليها مفهوم:

34 - خطوط وهمية ترسم على أنموذج الكرة الأرضية وتبدو على شكل دوائر تامة الاستدارة هي:

35 - من فوائد خطوط الطول:



36 - المسافة بالكيلومترات بين كل درجتين عرض متتاليتين تساوي:

37 - ينطبق خطا طول (180) شرقاً وغرباً ليكونا خطاً واحداً يعرف باسم:

انتهت الأسئلة، دعواتنا لكم بالتوفيق والنجاح