

**MR: HAMDI
ABDEL GAWWAD**



دائرة التعليم والمعرفة


FIRST SEMESTER

الفصل الدراسي الأول

12 GE

PHYSICS

الفيزياء



2023

الصف الثاني عشر عام



**المراجعة النهائية للاختبار
الفصل الدراسي الأول**

اعداد الأستاذ / حمدي عبد الجواد

HAMDY ABD ELGAWWAD

الفيزياء 12 عام الفصل الدراسي الأول للعام الدراسي 2023/2024 م أ / حمدي عبد الجواد

الكهرباء الساكنة

حوط رمز أنسب إجابة لكل مما يلي



1- يظهر الشكل المجاور وضع شريحتين (Y ، X) عند تقريبيهما من مشط بسبب الشحنات الكهربائية . أي الآتية صحيح ؟

- A. المشط والشريحة Y يحملان شحنة موجبة .
- B. المشط والشريحة X يحملان شحنة سالبة .
- C. المشط غير مشحون والشريحة Y تحمل شحنة موجبة .
- D. المشط والشريحة Y يحملان شحنة سالبة .


2- أي العبارات التالية **صحيحة** فيما يتعلق بالشحنة الكهربائية ؟

- A. يمكن أن تنتقل فقط على نفس السطح .
- B. ليس لها كتلة .
- C. يمكن أن تنتقل بين الأجسام المختلفة .
- D. يمكن تدميرها بالحرارة .

3- افترض أن هناك جسم فلزي **متعادل الشحنة** . أحد الطرق لإكتسابه شحنة سالبة هي :

- A. انتزاع بعض الإلكترونات من الجسم .
- B. إضافة بعض الإلكترونات إلى الجسم .
- C. انتزاع بعض البروتونات من الجسم .
- D. إضافة بعض الذرات المتعادلة للجسم .

4- يكتسب ساق بوليئين شحنة سالبة عند دلكه بقطعة قماش . أي من العبارات التالية يوضح كيفية حدوث ذلك ؟



A	تنتقل الإلكترونات من القماش إلى ساق البوليئين
B	تنتقل الإلكترونات من ساق البوليئين إلى القماش
C	تنتقل البروتونات من القماش إلى ساق البوليئين
D	تنتقل البروتونات من ساق البوليئين إلى القماش

5- ما مقدار القوة الكهربائية المتبادلة بين الشحنتين ($+30.0 \mu C$) و ($-20.0 \mu C$) اللتان تفصل بينهما مسافة (6.0 cm) . وما نوعها

نوع القوة	مقدار القوة	
تجاذب	$1.5 \times 10^3 \text{ N}$	(A)
تنافر	$1.5 \times 10^3 \text{ N}$	(B)
تجاذب	90.0 N	(C)
تنافر	90.0 N	(D)

6- أي الآتية صحيحة لوحدة k في المعادلة ($k = \frac{Fr^2}{q^2}$) حيث k ثابت كولوم :

$\frac{N \cdot m}{C}$	B	$\frac{N \cdot m^2}{C}$	A
$\frac{N \cdot m^2}{C^2}$	D	$\frac{N \cdot C^2}{m}$	C

7- يوضح الشكل المجاور الشحن بطريقة



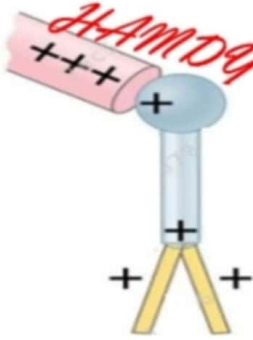
التوصيل	B	الحث	A
الدلك	D	التأريض	C

8- كم عدد الإلكترونات اللازم للحصول على شحنة مقدارها (-2.0 C) :

1.25×10^{19}	B	1.6×10^{19}	A
1.6×10^{-19}	D	2.0	C

9- بماذا تعرف عملية الشحن الموضحة في الشكل المجاور ؟

التوصيل	B	الحث	A
الدلك	D	التأريض	C



10- كم عدد الإلكترونات التي تم إزالتها من كشاف كهربائي موجب الشحنة عندما تكون محصلة شحنته $(1.6 \times 10^{-13} \text{ C})$

2.6×10^{19}	B	1.0×10^6	A
1.6×10^{19}	D	2.0×10^3	C

11- أي من الآتية يمثل الشحنة الأساسية ؟

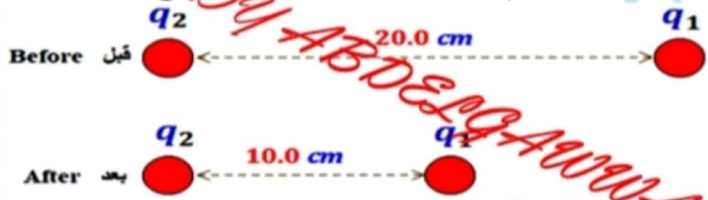
شحنة بروتون واحد	A
$3.2 \times 10^{-19} \text{ C}$	B
$1.6 \times 10^{+19} \text{ C}$	C
إلكترون 1.6	D

12- ثلاث كرات متماثلة الشحنة وضعت كما في الشكل المجاور .

- أي من المخططات التالية يمثل اتجاه القوة الكهربائية المحصلة F_{net} المؤثرة على الكرة C ؟

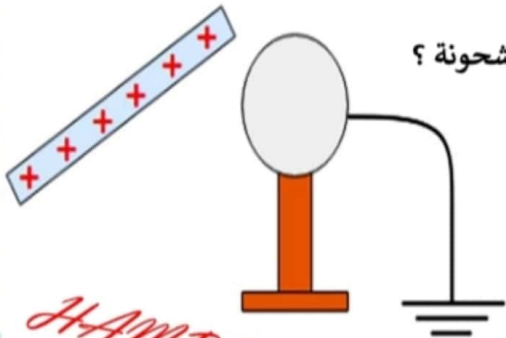
Diagram showing three charges q_b (blue, negative), q_c (red, positive), and q_a (red, positive) on a coordinate system. q_b is at the top, q_c is at the bottom left, and q_a is at the bottom right. Four options (A, B, C, D) show different directions for the net force F_{net} on q_c .

13- تؤثر في الشحنة النقطية (q_1) في الشكل المجاور قوة كهروستاتيكية (F) عندما يتم تغيير البعد بين الشحنتين ليصبح (10.0 cm) ما مقدار القوة المؤثرة في الشحنة (q_1) عند ذلك

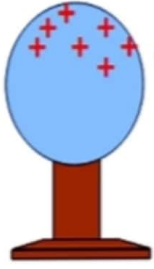


$2F$	B	$4F$	A
F	D	$0.5 F$	C

14- وضع ساق موجب الشحنة بالقرب من كرة معدنية معزولة . الكرة متصلة بالأرض كما هو موضح بالشكل . عندما يتم قطع الاتصال بالأرض ثم إزالة الساق المشحون . أي المخططات التالية يوضح التمثيل الصحيح للشحنة على الكرة بعد إزالة الساق المشحونة ؟



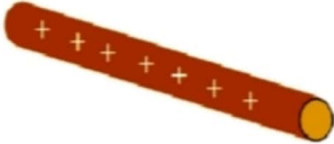
Four options (A, B, C, D) showing the distribution of charges on the metal sphere after the rod is removed.



15- يظهر الشكل المجاور جسماً كروياً معزولاً يحمل شحنة موجبة ، أي من الجمل الآتية صحيح ؟

- A. الجسم عازل واكتسب عدد من الإلكترونات .
- B. الجسم موصل واكتسب عدد من البروتونات .
- C. الجسم عازل وفقد عدد من الإلكترونات .
- D. الجسم موصل وفقد عدد من الإلكترونات .

16- ساق معدني مشحون بشحنة مقدارها ($q = 6.5 \mu C$) ، أي من التالي يعبر بشكل صحيح عن مقدار الشحنة بوحدة الكولوم ؟



$q = 6.5 \times 10^{-9} C$	B	$q = 6.5 \times 10^{-6} C$	A
$q = 6.5 \times 10^{+6} C$	D	$q = 6.5 \times 10^{-3} C$	C

17- تكون القوى المتبادلة بين الأجسام المادية دائماً قوى تجاذب ، بينما القوى الكهربائية تكون قوى :

- A. تجاذب فقط .
- B. تنافر فقط .
- C. تجاذب أو تنافر .
- D. لا تجاذب ولا تنافر .

18- عند شحن جسمين من بعضهما البعض ، فإن الشحنة التي يكتسبها الجسم الشحنة التي يفقدها الجسم الآخر.

- A. أكبر من
- B. تساوي
- C. أصغر من
- D. لا تساوي

19- تسمى عملية شحن جسم متعادل عن طريق تقريب جسم مشحون بـ

(بدون ملامسة)

- A. الحث
- B. التوصيل
- C. التلامس
- D. الدلك




20- يبين الشكل قضيب نحاسي تم شحنة بشحنة سالبة يحتوي القضيب على

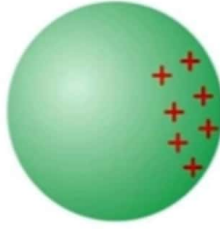
- A. نيوترونات فائضة .
- B. بروتونات حرة .
- C. إلكترونات فائضة .
- D. بروتونات فائضة .

21- يوضح الشكل البياني توزيع الشحنة الموجبة بشكل حر على سطحي كرتين معزولتين .

أي مما يلي يعتبر صحيحاً للكرتين ؟




1



2

الكرة 1	الكرة 2	
عازلة	عازلة	A
عازلة	موصلة	B
موصلة	عازلة	C
موصلة	موصلة	D

22- يظهر الشكل المجاور توزيع الشحنات الكهربائية على جسم أي الآتية صحيح ؟



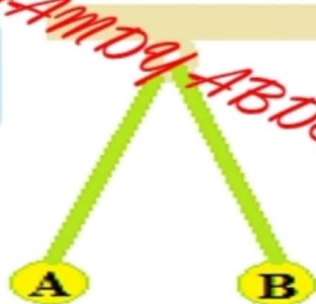
(A)	الجسم غير مشحون	(B)	الجسم مشحون بشحنة موجبة
(C)	الجسم مشحون بشحنة سالبة	(D)	لا يمكن معرفة شحنة الجسم

23- يظهر الشكل المجاور جسماً كروياً يحمل شحنة سالبة أي الآتية صحيح ؟



- A. الجسم عازل وشحن بفقدته الإلكترونات .
- B. الجسم موصل وشحن بفقدته الإلكترونات .
- C. الجسم عازل وشحن باكتسابه الإلكترونات .
- D. الجسم موصل وشحن باكتسابه الإلكترونات .

24- يبين الشكل المجاور جسمين (A, B) معزولين معلقين بشكل حر ، أي مما يلي قد يكون صحيحاً بشأن شحنة الجسمين ؟




	A	B
A	موجبة	سالبة
B	سالبة	موجبة
C	سالبة	سالبة
D	متعادلة	متعادلة

25- الجسم الذي يفقد إلكترونات تكون شحنته الكلية

(A)	سالبة	(B)	موجبة
(C)	متعادلة	(D)	موجبة وسالبة

26- يظهر الشكل المجاور وضع الشريحتان (A , B) عند تقريبيهما من بعضهما البعض بسبب الشحنات الكهربائية ، أي الآتية صحيح ؟



A. شحنة A موجبة بينما B سالبة .

B. شحنة A , B سالبة .

C. الشريحتان A , B لا تحملان أي شحنة .

D. شحنة A سالبة بينما B موجبة .

27- عندما تزداد المسافة بين الشحنتين (q_1) ، (q_2) في الشكل المجاور . ماذا يطرأ على قوة التجاذب الكهربائية للشحنتين ؟

(A)	تزداد	(B)	تبقى كما هي
(C)	تقل	(D)	تقل ثم تزداد

28- أي المواد الآتية تعد من الموصلات الجيدة للشحنة الكهربائية ؟

A. الجلد الرطب

B. الزجاج

C. الهواء الجاف

D. البلاستيك

29- لوح النحاس المتعادل يحتوي على إلكترونات

(A)	مقيدة	(B)	فائضة
(C)	حرة	(D)	غير كافية

30- إذا تضاعف مقدار إحدى الشحنتين فإن مقدار القوة الكهربائية بينهما :

(A)	تزداد للضعف	(B)	تقل للنصف
(C)	تزداد ضعفين	(D)	تقل للربع


31- أي الآتية كمية صحيحة للشحنة التي يمكن أن يحملها جسم شحنته نتيجة فقده عدد من الإلكترونات ؟

$3.2 \times 10^{-19} \text{ C}$	(B)	$2.4 \times 10^{-19} \text{ C}$	(A)
$4.0 \times 10^{-19} \text{ C}$	(D)	$5.6 \times 10^{-19} \text{ C}$	(C)

32- جهاز يستخدم للكشف عن الشحنات الكهربائية

الأوميتير	(B)	الكشاف الكهربائي	(A)
الفولتميتر	(D)	الأميتر	(C)

33- لديك ثلاث شحنات موجبة كما بالشكل ، اتجاه محصلة القوة المؤثرة على الشحنة (q_2) نحو



أعلى الصفحة	(B)	يمين الصفحة	(A)
أسفل الصفحة	(D)	يسار الصفحة	(C)

34- عند ذلك مسطرة بلاستيكية بالصوف وتصبح المسطرة مشحونة بشحنة موجبة فإنه

A. يتم إزالة البروتونات من الصوف .

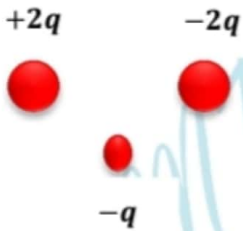
B. يبقى الصوف غير مشحون .

C. تضاف البروتونات للصوف .

D. يتم إزالة الإلكترونات من المسطرة البلاستيكية .

35- شحنتان نقطيتان ($-2q$) ، ($+2q$) تفصل بينهما مسافة وتوضع شحنة ثالثة ($-q$) كما هو موضح بالشكل المجاور .

- ما اتجاه محصلة القوة على الشحنة الثالثة $-q$ ؟



أعلى الصفحة	(B)	يمين الصفحة	(A)
أسفل الصفحة	(D)	يسار الصفحة	(C)

36- يتم تحريك شحنتين نقطيتين متماثلتين ، تفصل بينهما في البداية مسافة (2 cm) إلى أن تصبح المسافة (10 cm) .

- ما هو معامل تغير القوة الكهربائية الناتجة بينهما ؟

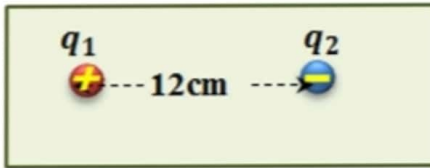
$25F$	(B)	$4F$	(A)
$\frac{1}{25}F$	(D)	$\frac{1}{4}F$	(C)

37- عندما يتم ذلك جسمين مشحونين ببعضهما البعض ، يكسب الجسم الأول شحنة قدرها $(3e)$. أي من العبارات التالية **صحيحة** ؟

- A. يفقد الجسم الثاني $3e$ ويصبح سالب الشحنة .
- B. يفقد الجسم الثاني $3e$ ويصبح موجب الشحنة .
- C. يكسب الجسم الثاني $3e$ ويصبح سالب الشحنة .
- D. يكسب الجسم الثاني $3e$ ويصبح موجب الشحنة .

38- تؤثر في الشحنة النقطية (q_1) في الشكل المجاور قوة كهربائية (F) ، عند تغير البعد بين الشحنتين ليصبح (6.0 cm)

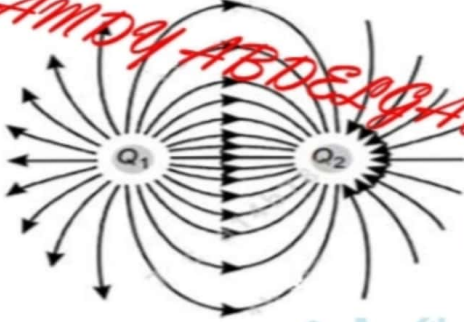
- كم تصبح القوة المؤثرة في الشحنة q_2



$2F$	(B)	$4F$	(A)
$\frac{1}{2}F$	(D)	$\frac{1}{4}F$	(C)

39- يظهر الشكل المجاور شحنتين متساويتين (Q_1, Q_2) ، المسافة بينهما (0.01 m) تؤثران بقوة مقدارها $(9.2 \times 10^{-24} \text{ N})$ على

بعضهما البعض . ما مقدار كل من الشحنتين ؟



$Q_1 = 1.9 \times 10^5 \text{ C}$	(B)	$Q_1 = 3.2 \times 10^{-19} \text{ C}$	(A)
$Q_2 = -1.9 \times 10^5 \text{ C}$		$Q_2 = -3.2 \times 10^{-19} \text{ C}$	
$Q_1 = -1.9 \times 10^5 \text{ C}$	(D)	$Q_1 = -3.2 \times 10^{-19} \text{ C}$	(C)
$Q_2 = 1.9 \times 10^5 \text{ C}$		$Q_2 = 3.2 \times 10^{-19} \text{ C}$	

40- شحنتان تتنافران بقوة مقدارها (2 N) إذا أصبحت المسافة بينهما مثلي ما كانت عليه . ما القوة بين الشحنتين ؟

0.50 N	(B)	1 N	(A)
4 N	(D)	0.25 N	(C)

41- كيف يختلف الموصل الكهربائي عن العازل الكهربائي ؟

- A. تتحرك الشحنات الكهربائية بسهولة في الموصل مقارنة بالعازل .
- B. شحنات العازل أكثر من شحنات الموصل .
- C. تتحرك الشحنات الكهربائية بسهولة في العازل ولكن ليس في المادة الموصلة .
- D. الموصل لديه عدد أكبر من الإلكترونات .

42- يوضح الشكل أدناه جسمين مشحونين (A, B) قبل التلامس وفقاً لقانون حفظ الشحنة ، ماذا يحدث بعد التلامس بين (A, B)

قبل التلامس

$100e^-$ $50e^-$



(B)	(A)
75e- 50e- A B	0e- 0e- A B
(D)	(C)
100e- 50e- A B	75e- 75e- A B

43- افترض أن مليكان في تجربته الخاصة به اختبر قطرة زيت تحمل ثلاث وحدات أساسية من الشحنة .

- ما محصلة الشحنة على قطرة الزيت؟

$4.8 \times 10^{-19} C$	(B)	$1.6 \times 10^{-19} C$	(A)
$3.2 \times 10^{-19} C$	(D)	$9.12 \times 10^{-19} C$	(C)

44- وضعت شحنتان (A, B) على مسافة من بعضهما كما هو موضح بالشكل . الشحنة A تجذب الشحنة B بقوة مقدارها F .

- ما مقدار القوة التي تجذب بها الشحنة B الشحنة A ؟

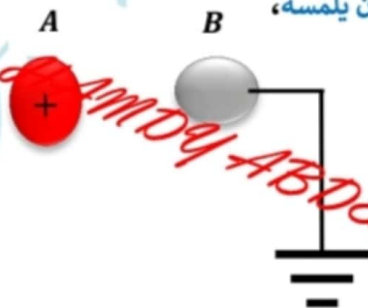


3 F	B	F	A
9F	D	1/3 F	C

45- تم تقريب موصل كروي A مشحون بشحنة موجبة من موصل آخر B متعادل كهربائياً دون أن يلمسه،

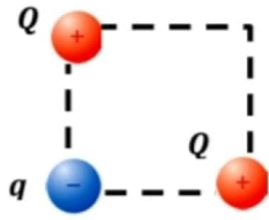
كما هو موضح بالشكل المجاور . الموصل B متصل بالأرض بسلك تأريض .

- ما نوع الشحنة التي تتكون على الموصل B ؟

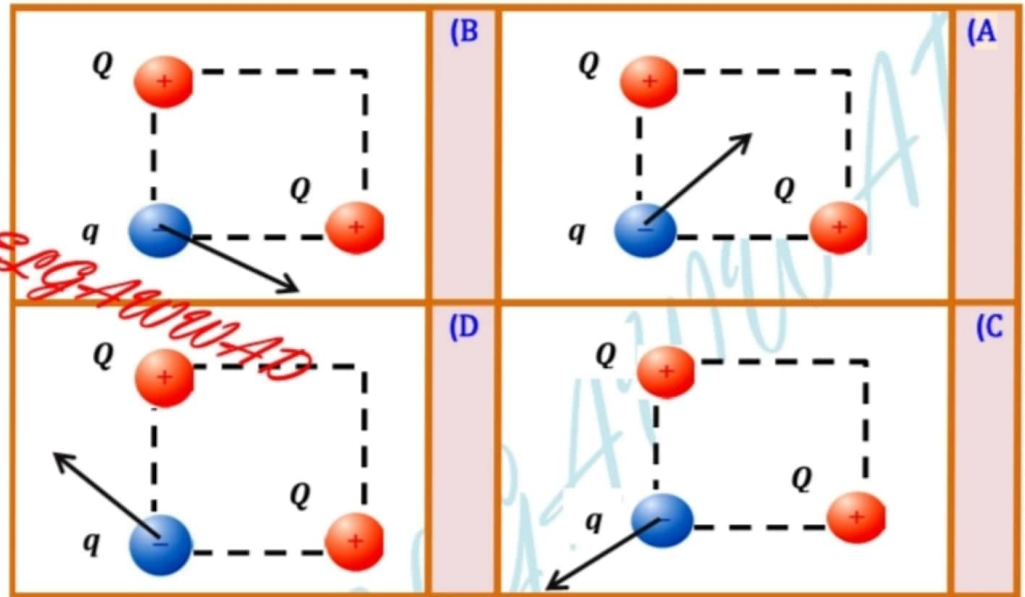


سالبة	B	متعادل	A
قد تكون موجبة أو سالبة	D	موجبة	C

46- وضعت شحنتان نقطيتان مقدار كل منهما (+Q) عند زاويتين متقابلتين في مربع ووضعت شحنة ثالثة مقدارها (+q) عند زاوية أخرى كما هو موضح بالشكل المجاور .



أي من المخططات الآتية يبين بشكل صحيح اتجاه القوة المحصلة المؤثرة على الشحنة (+q) ؟

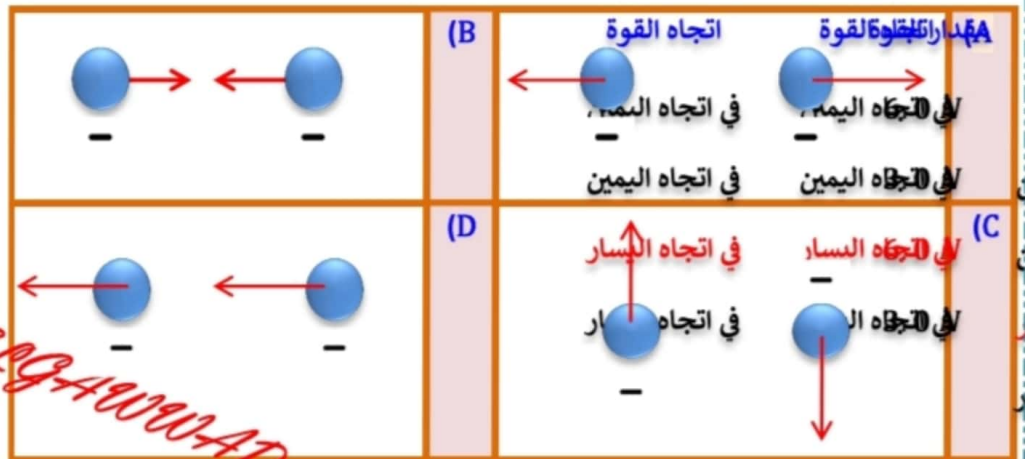


47- يتم لمس قرص كشاف كهربائي غير مشحون بساق سالبة الشحنة . بعد إزالة الساق المشحونة تصبح ورقتي الكشاف الكهربائي مشحونتان . ما نوع شحنة ورقتي الكشاف ، وما اسم الطريقة التي شحنت بها ؟



نوع الشحنة	اسم طريقة الشحن
(A) سالبة	الدلك
(B) موجبة	الحث
(C) سالبة	التوصيل
(D) موجبة	التوصيل

48- أي مما يلي يمثل بشكل صحيح اتجاه القوة الكهربائية بين شحنتين سالبتين ؟



المجالات الكهربائية

49- أي من التالية يمثل وحدة قياس شدة المجال الكهربائي ؟

$N.C$	A
$V.C$	B
$\frac{C}{m}$	C
$\frac{J}{C.m}$	D

50- أي مما يلي يقاس بوحدة النيوتن ؟

qE	A
q^2E	B
$\frac{q}{E}$	C
$\frac{E}{q}$	D

51- ما قيمة المجال الكهربائي على بعد (30 cm) من شحنة نقطية موجبة مقدارها ($q = 30 nC$)

$5.0 \times 10^{-2} N/C$	(B)	$3.0 \times 10^{-1} N/C$	(A)
$3.0 \times 10^3 N/C$	(D)	$9.0 \times 10^2 N/C$	(C)

52- على ماذا تعتمد شدة المجال الكهربائي (E) ؟

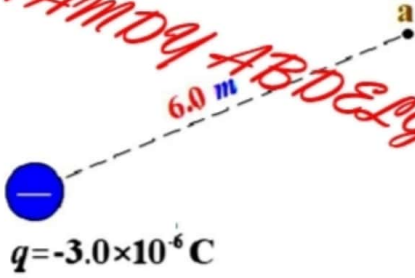
- A. الشحنة الأولية ونصف القطر .
- B. ثابت كولوم والكتلة .
- C. الشحنة والكتلة .
- D. مقدار الشحنة والمسافة .

53- يكون اتجاه المجال الكهربائي :

- A. بعكس اتجاه القوة المؤثرة في شحنة اختبار سالبة .
- B. بعكس اتجاه القوة المؤثرة في شحنة اختبار موجبة .
- C. بنفس اتجاه القوة المؤثرة في شحنة اختبار سالبة .
- D. عموديا على اتجاه القوة المؤثرة في شحنة اختبار موجبة .

54- يبين الشكل المجاور نقطة (a) تبعد مسافة (6.0 m) عن شحنة نقطية مقدارها ($q = -3.0 \times 10^{-6} \text{ C}$)

- أي من الحسابات التالية يعطي مقدار المجال الكهربائي عن النقطة (a)

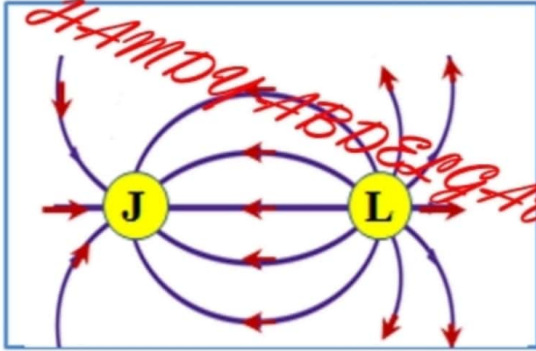


$\frac{(9 \times 10^9)(-3 \times 10^{-6})}{6}$	B	$\frac{(9 \times 10^9)(3 \times 10^{-6})}{6}$	A
$\frac{(9 \times 10^9)(3 \times 10^{-6})}{6^2}$	D	$\frac{(3 \times 10^{-6})}{(9 \times 10^9)(6)}$	C

55- ما شحنة كرة عندما يكون اتجاه خط المجال الكهربائي خارجاً منها ؟

(A)	سالبة	(B)	متعادلة
(C)	موجبة	(D)	غير مشحونة

56- يظهر الشكل خطوط المجال الكهربائي لشحنتين كهربائيتين (L, J). أي الآتية صحيح لنوع الشحنتين و مقدار كل منهما ؟



مقدار الشحنتين	نوع الشحنة	
متساويتان	L سالبة J موجبة	A
مقدار الشحنة L أكبر	L موجبة J سالبة	B
متساويتان	L موجبة J سالبة	C
مقدار الشحنة L أكبر	L سالبة J موجبة	D

57- أي من الكميات الفيزيائية التالية تعرف على أنها (مقدار القوة المؤثرة على شحنة إختبار موجبة مقسومة على مقدار الشحنة) ؟

A. السعة الكهربائية .

B. شدة المجال الكهربائي .

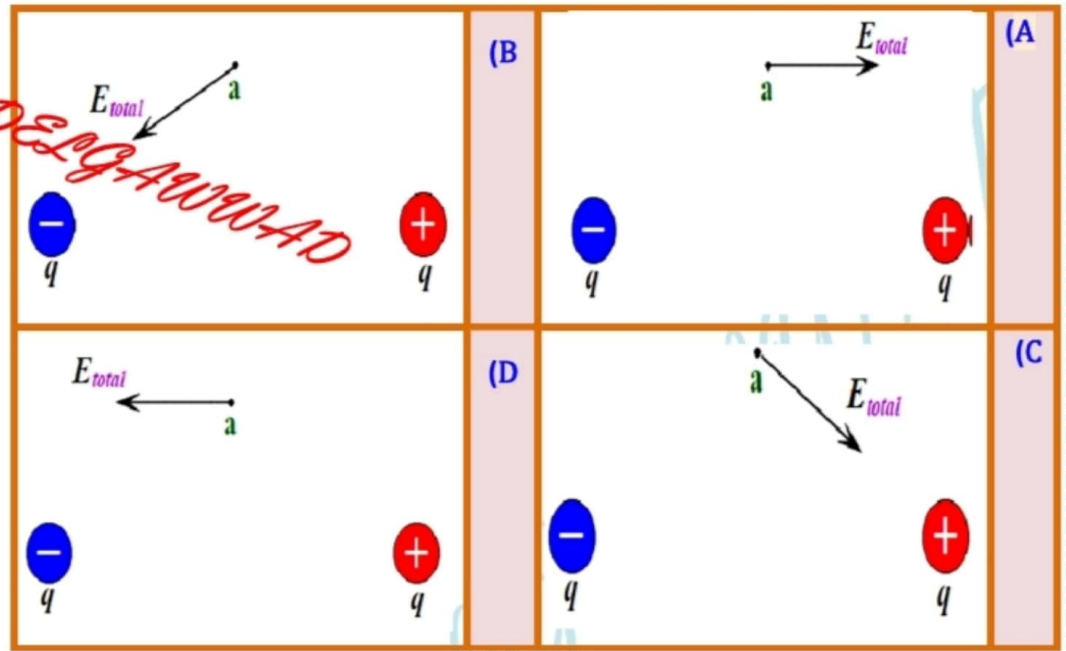
C. طاقة الوضع الكهربائية .

D. فرق الجهد الكهربائي .

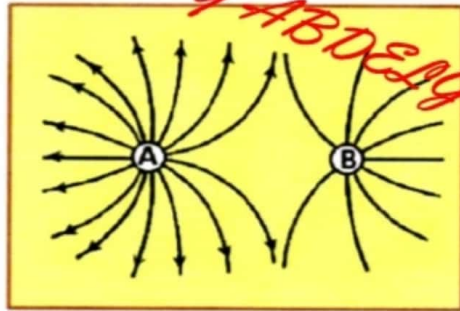
58- أي العلاقات الآتية صحيحة بما يخص الجهد الكهربائي و المجال الكهربائي ؟

$d = \Delta V \cdot E$	(B)	$E = \Delta V \cdot d$	(A)
$\Delta V = d \cdot E$	(D)	$\Delta V = \frac{E}{d}$	(C)

59- يبين الشكل شحنتين (معزولتين) متساويتان في المقدار ومختلفتين في النوع . أي من المخططات التالية يمثل الاتجاه الصحيح للمجال الكهربائي عند النقطة (a) ؟

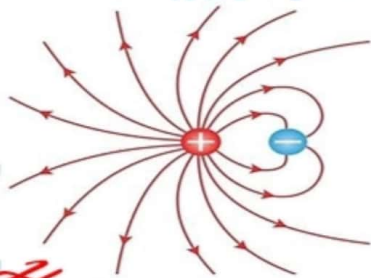


60- الشكل المجاور يبين خطوط المجال الكهربائي حول شحنتين نقطيتين (q_A, q_B) . اعتماداً على الشكل أي الآتية صحيح ؟



نوع الشحنتان	المقدار
A	متشابهتان متساويتان في المقدار
B	الشحنة q_A أكبر من الشحنة q_B
C	الشحنتان مختلفتان
D	الشحنة q_A أصغر من الشحنة q_B

61- استناداً لكثافة خطوط المجال الكهربائي المبين في الشكل المجاور. إذا كانت الشحنة السالبة تساوي $(-12.0 \mu C)$. ما مقدار الشحنة الموجبة ؟



12.0 μC	(B)	6.0 μC	(A)
24.0 μC	(D)	48.0 μC	(C)

62- افترض أن ميلكان في تجربة قطرة الزيت الخاصة به ، اختبر قطرة زيت تحمل ثلاث وحدات أساسية من الشحنة . ما محصلة الشحنة على قطرة الزيت ؟

$-4.8 \times 10^{-19} C$	(B)	$+4.8 \times 10^{-19} C$	(A)
$-1.6 \times 10^{-19} C$	(D)	$+1.6 \times 10^{-19} C$	(C)

63- ما اسم الجهاز الظاهر في الشكل المجاور وما عمله ؟

اسم الجهاز	عمل الجهاز	
A	مجزئ الجهد	انتاج الشحنات الكهربائية
B	مولد فان دي غراف	فصل الشحنات الكهربائية
C	مجزئ الجهد	فصل الشحنات الكهربائية
D	مولد فان دي غراف	انتاج الشحنات الكهربائية

64- وضعت شحنة نقطية ($2.5 \times 10^{-5} C$) في الهواء. ما مقدار المجال الكهربائي عند نقطة تبعد عن الشحنة مسافة ($0.3 m$)

A	$2.5 \times 10^6 N/C$	(B)	$7.5 \times 10^5 N/C$
C	$2.5 \times 10^5 N/C$	(D)	$7.5 \times 10^6 N/C$

65- يظهر الشكل المجاور قطرة زيت معلقة (ساكنة) بين صفيحتي مكثف

- أي الآتية صحيح لشحنة القطرة و مقدار القوة الكهربائية المؤثرة فيها ؟

شحنة القطرة	مقدار القوة الكهربائية المؤثرة في القطرة	
A	سالبة	أقل من وزن القطرة
B	موجبة	أقل من وزن القطرة
C	سالبة	يساوي وزن القطرة
D	موجبة	يساوي وزن القطرة

66- الشكل يوضح خطوط المجال الكهربائي لموصل كروي موجب الشحنة .

- عند أي نقطة يكون المجال الكهربائي أكبر ؟

A. عند النقطة C


B. عند النقطة B

C. عند النقطة A

D. كل النقاط متساوية

67- ما فرق الجهد بين صفيحتين متوازيتين تفصل بينهما مسافة مقدارها ($0.12 m$) والمجال الكهربائي بينهما يساوي ($2.5 \times 10^2 N/C$)

A	$21.0 V$	(B)	$12.0 V$
C	$30.0 V$	(D)	$250.0 V$

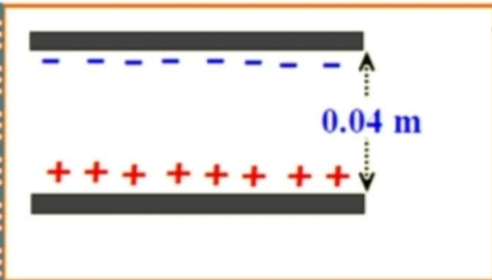


68- عندما **تزداد** المسافة بين الشحنتين (q_1) و (q_2) في الشكل المجاور .
- ماذا **يطرأ** على طاقة الوضع الكهربائية للشحنة (q_1)

(A)	تقل	(B)	تزداد
(C)	تبقى كما هي	(D)	تقل ثم تزداد

69- مكثف يحمل على **إحدى** صفيحتيه شحنة مقدارها ($48 \mu C$) عندما يكون فرق الجهد بين صفيحتي المكثف ($12.0 V$) .
- ما **سعة المكثف** ؟

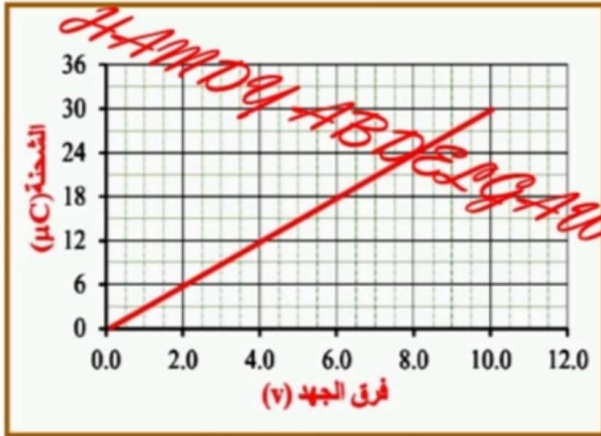
(A)	$4.0 F$	(B)	$4.0 \mu F$
(C)	$0.25 \mu F$	(D)	$36.0 \mu F$



70- في الشكل المجاور صفيحتا مكثف مشحون فرق الجهد الكهربائي بينهما ($25.0 V$) .
- ما **مقدار شدة المجال الكهربائي** بين الصفيحتين .

(A)	$1.0 N/C$	(B)	$0.016 N/C$
(C)	$625 N/C$	(D)	$0.625 N/C$

71- يظهر الرسم البياني المجاور تغيرات كمية الشحنة الكهربائية وفرق الجهد الكهربائي بين صفيحتي مكثف .
- ما **مقدار ميل الخط البياني** و **ماذا يمثل** ؟

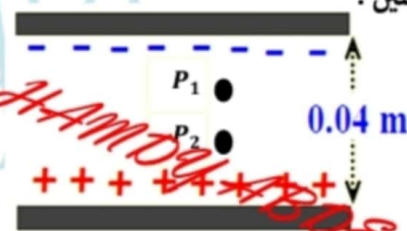


ميل الخط البياني	ما يمثله ميل الخط البياني	
A	3.3×10^{-7}	سعة المكثف
B	3.0×10^{-6}	مقلوب سعة المكثف
C	3.0×10^{-6}	سعة المكثف
D	3.3×10^{-7}	مقلوب سعة المكثف

72- تقاس سعة المكثف بوحدة الفاراد (F) والتي **تعاادل**

(A)	$1F = 1C \times 1V$	(B)	$1F = 1C / 1V$
(C)	$1F = 1C / 1N$	(D)	$1F = 1C \times 1N$

73- يبين الشكل بروتونين (P_1, P_2) تم وضعهما بين لوحين متوازيين مشحونين بشحنتين متعاكسين .
- أي مما يلي **صحيح** بالنسبة **للقوة** التي يؤثر بها **المجال الكهربائي** على كل من البروتونين ؟



- (A) القوة المؤثرة على P_1 و P_2 تساوي الصفر .
- (B) القوة المؤثرة على P_1 أكبر من القوة المؤثرة على P_2 .
- (C) القوة المؤثرة على P_2 أكبر من القوة المؤثرة على P_1 .
- (D) القوة المؤثرة على P_1 تساوي القوة المؤثرة على P_2 .

74- يقاس فرق الجهد الكهربائي بوحدة :

(A)	الكولوم C	(B)	الفولت V
(C)	الجول J	(D)	النيوتن N

75- ترك إلكترون حراً في مجال كهربائي منتظم اتجاه خطوطه نحو الشرق ، في أي اتجاه سيتحرك الإلكترون و ماذا يطرأ على طاقة وضعه ؟

اتجاه حركة الإلكترون	ما يطرأ على طاقة وضعه
A الغرب ←	تزداد
B الشرق →	تقل
C الشرق →	تزداد
D الغرب ←	تقل

76- أي من التالي ليست من وحدات قياس فرق الجهد الكهربائي ؟

(A)	V	(B)	N m/C
(C)	C/J	(D)	J/C

77- بالاعتماد على الشكل المجاور ، أي الآتية صحيح ؟

q_2	q_1	
1 C	2 C	A
-1 C	-2 C	B
2 C	1 C	C
1 C	-2 C	D

78- مكثف كهربائي يتكون من صفيحتين متوازيتين تحمل كل منهما شحنة ($8.0 \mu C$) وفرق الجهد بينهما ($15.0 V$) .

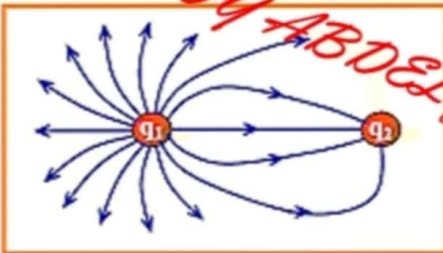
- أوجد النسبة بين الشحنة التي تحملها إحدى صفيحتي المكثف و فرق الجهد بين الصفيحتين ؟

(A)	$1.2 \times 10^{-4} F$	(B)	$5.33 \times 10^{-7} F$
(C)	$533 \times 10^{-3} F$	(D)	$1.8 \times 10^6 F$

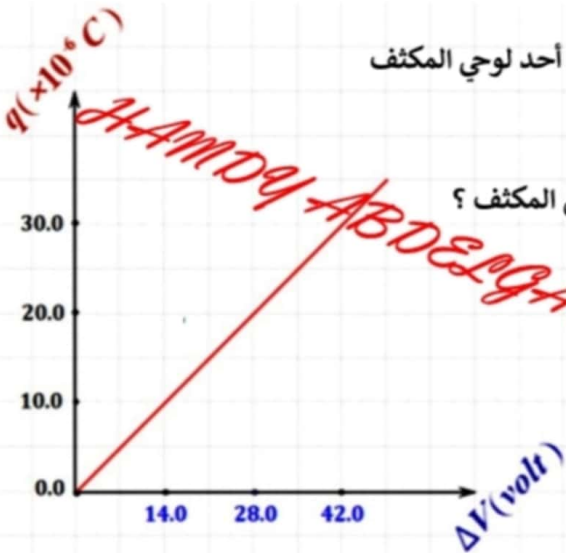
79- يظهر الشكل المجاور خطوط المجال الكهربائي حول شحنتين كهربائيتين (q_1, q_2)

- أي العبارات التالية صحيحة ؟

(A)	$q_2 = 2q_1$	(B)	$q_1 = -4q_2$
(C)	$q_1 = 4q_2$	(D)	$q_2 = -2q_1$



- 80- يمثل الرسم البياني المجاور العلاقة بين مقدار الشحنة (q) المخزنة على أحد لوحي المكثف وفرق الجهد الكهربائي المطبق عليه للشحن (ΔV)
- ما تمثل المساحة تحت الخط البياني ؟
 - عندما يكون فرق الجهد الشاحن (35.0 V) ما مقدار الشحنة المخزنة في المكثف ؟



المساحة تحت الخط البياني	مقدار الشحنة	
الطاقة المخزنة في المكثف	22.5×10^{-6}	A
سعة المكثف	22.5×10^{-6}	B
الطاقة المخزنة في المكثف	2.5×10^{-6}	C
سعة المكثف	2.5×10^{-6}	D

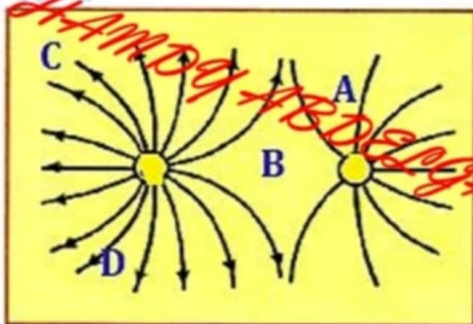
- 81- أي العبارات الآتية صحيحة حول مواقع تساوي الجهد ؟

- (A) القوة الكهربائية المؤثرة على شحنة موضوعة عند أي من هذه المواقع يجب أن تساوي صفراً .
- (B) الجهد الكهربائي عند أي موقع منها يجب أن يساوي صفراً .
- (C) المجال الكهربائي عند أي موقع منها يجب أن يساوي صفراً .
- (D) الشغل المبذول لتحريك شحنة بين أي موقعين منها يجب أن يساوي صفراً

- 82- شحنة سالبة مقدارها ($-2.0 \times 10^{-7} \text{ C}$) وضعت في مجال كهربائي مقداره (20 N/C) يتجه نحو الشرق .
- ما القوة الكهربائية المؤثرة على الشحنة ؟

الاتجاه	مقدار القوة	
شرقاً	$4.0 \times 10^{-6} \text{ N}$	A
غرباً	$4.0 \times 10^{-6} \text{ N}$	B
شرقاً	$1.0 \times 10^{-8} \text{ N}$	C
غرباً	$1.0 \times 10^{-8} \text{ N}$	D

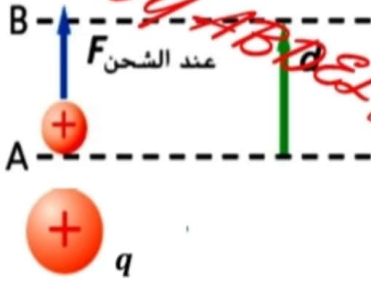
- 83- يوضح الشكل خطوط المجال الكهربائي حول شحنتين كهربائيتين .
- عند أي المواضع الآتية يكون مقدار المجال الكهربائي صفراً



A	الموضع A	B	الموضع B
C	الموضع C	D	الموضع D

&

84- يتم تحريك شحنة اختبار موجبة من النقطة A إلى النقطة B بعيداً عن شحنة موجبة (q) كما يظهر في الشكل .
- أي صفوف الجدول التالية صحيح ؟




التغير في طاقة وضع شحنة الاختبار	فرق الجهد بين النقطتين (A, B)	
سالب	سالب	A
موجب	موجب	B
سالب	موجب	C
موجب	سالب	D

85- عندما يتم توصيل مكثف سعته (20 μF) ببطارية تصبح الشحنة على لوحه الموجب (40 μC) .
- ما مقدار فرق الجهد بين لوحي المكثف ؟

0.5 V	B	600 V	A
800 V	D	2.0 V	C

86- تقع الشحنة (Q) على بعد (0.5 m) من شحنة نقطية Q كما يظهر في الشكل المجاور ، إذا كان المجال الكهربائي عند النقطة a يساوي (9.0 x 10⁴ N/C) . ما هو مقدار الشحنة q ؟



+5.0 C	B	+2.5 μC	A
-5.0 C	D	-2.5 μC	C

87- أي من الأشكال التالية يبين توزيعاً غير صحيح للشحنة الكهربائية على السطح ؟

سطح عازل	جسم موصل غير منتظم الشكل	موصل كروي مجوف	موصل كروي
A	B	C	D

التيار الكهربائي

88- أي من التالي **علاقة صحيحة** للشحنة الكهربائية q ، إذا كانت I تمثل شدة التيار و t تمثل الزمن ؟

$q = t/I$	B	$q = I/t$	A
$q = I^2 t$	D	$q = It$	C

89- أي من الآتية يعبر عن **شدة التيار الكهربائي** ؟

- A. معدل تدفق الشحنة الكهربائية .
- B. فرق الجهد بين طرفي البطارية .
- C. معدل الطاقة المختزنة في وحدة الشحنات .
- D. ناتج ضرب فرق الجهد في المقاومة .

90- أي من الآتية جهاز يحول الطاقة **الكيميائية** إلى طاقة **كهربائية** ؟

المصباح الكهربائي	B	البطارية	A
المقاوم	D	المكثف	C

91- تتدفق شحنة كهربائية ($8.0 C$) خلال ($1.5 s$) في موصل . ما **شدة التيار الكهربائي** الناتج عن تدفق الشحنة ؟

$7.5 A$	B	$0.19 A$	A
$12.0 A$	D	$5.3 A$	C

92- كم يساوي **مقدار الطاقة** التي يبديها جهاز قدرته ($1.0 W$) خلال ($1.0 s$) ؟

$1 W \cdot s^{-1}$	B	$1 J$	A
$1 kw \cdot h$	D	$1 N \cdot m$	C

93- أي الأجهزة التالية يستخدم لقياس **شدة التيار** المار في دائرة كهربائية ؟

مجزئ الجهد	B	المكثف	A
الفولتميتر	D	الأميتر	C

94- أي مما يلي **ليست** من وحدات قياس **القدرة** الكهربائية ؟

الواط (W)	B	جول . ثانية ($J \cdot s$)	A
جول / ثانية (J/s)	D	أمبير . فولت ($A \cdot V$)	C

95- أي الآتية ليس صحيحاً لموصل فائق التوصيل في دائرة كهربائية مغلقة ؟

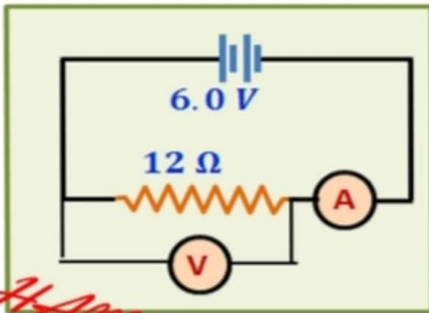
A. فرق الجهد بين طرفيه منعدياً (صفرأ) .

B. مقاومته الكهربائية تصل إلى الصفر .

C. يحول الطاقة الكهربائية إلى طاقة حرارية بكفاءة كبيرة جداً .

D. تنعدم شدة التيار المار في الموصل فائق التوصيل .

96- وصلت دائرة كهربائية كما في الشكل المجاور ، ما قراءة كل من الأميتر و الفولتميتر في الدائرة ؟

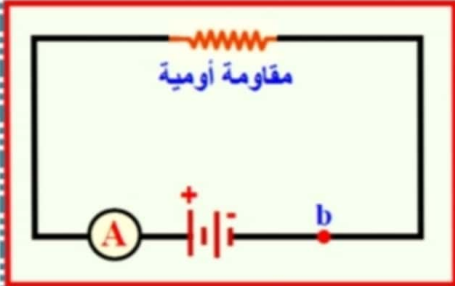


الأميتر	الفولتميتر	
6.0 A	2.0 V	A
12.0 A	2.0 V	B
2.0 A	12.0 V	C
0.5 A	6.0 V	D

97- ما هي وحدة القياس التي تستخدمها شركات الطاقة لقياس استهلاك الطاقة الكهربائية ؟

الرجول J	B	واط ثانية W.s	A
أمبير A	D	كيلو واط ساعة KW.h	C

98- ماذا تتوقع أن يحدث لمقدار قراءة الجهاز A مبين في الدائرة الكهربائية المجاورة عند نقله

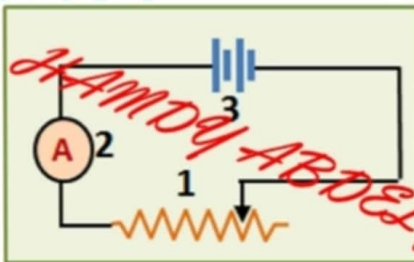


من الموضع الحالي وإعادة توصيله بالطريقة نفسها عند الموضع b مع بقاء الدائرة مغلقة ؟

تقل	B	تصبح صفرأ	A
تزداد	D	تبقى كما هي	C

99- وصلت دائرة كهربائية كما في الشكل ،

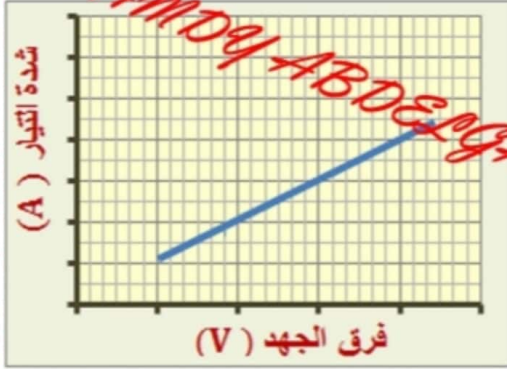
أي صفوف الجدول يمثل الأسماء الصحيحة للرموز في الدائرة ؟



الرمز 1	الرمز 2	الرمز 3	
مقاوم ثابت	فولتميتر	مكثف	A
مقاوم متغير	فولتميتر	مكثف	B
مقاوم ثابت	أميتر	بطارية	C
مقاوم متغير	أميتر	بطارية	D

100- يظهر الرسم البياني المجاور تغيرات الجهد الكهربائي بين طرفي مقاوم وشدة التيار المار فيه ،

- ماذا يمثل ميل الخط المستقيم في الرسم البياني ؟



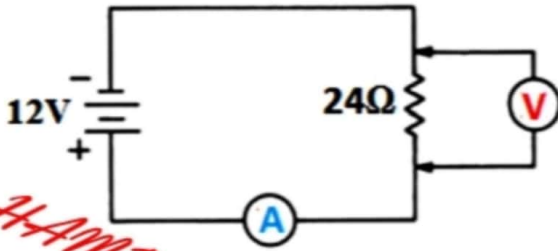
A. المقاومة الكهربائية للمقاوم.

B. مقلوب المقاومة الكهربائية للمقاوم.

C. القدرة الكهربائية للمقاوم.

D. مقلوب القدرة الكهربائية للمقاوم.

101- اعتماداً على الدائرة الكهربائية . ما قراءة كل من الأميتر و الفولتميتر ؟



الفولتميتر	الأميتر	
24 V	24.0 A	A
12 V	2.0 A	B
12 V	0.5 A	C
24 V	12 A	D

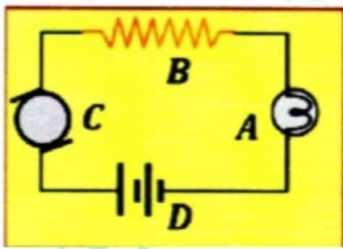
102- أي العبارات الآتية تعبر عن قانون أوم ؟

A. نسبة فرق الجهد بين طرفي موصل إلى شدة التيار المار فيه تساوي مقدار ثابت .

B. نسبة فرق الجهد بين طرفي موصل إلى مقاومته الكهربائية تساوي مقدار ثابت .

C. نسبة المقاومة الكهربائية لموصل إلى شدة التيار المار فيه تساوي مقدار ثابت .

D. ناتج ضرب فرق الجهد بين طرفي موصل في شدة التيار المار فيه يساوي مقدار ثابت .




103- أي الرموز المبينة في الدائرة الكهربائية المجاورة يمثل المحرك الكهربائي ؟

A	B	C	A
B	D	D	C

104- في الشكل المجاور أربعة أسلاك من النحاس متساوية في الطول ومختلفة في مساحة المقطع ولها نفس درجة الحرارة ،

أي الأسلاك الأربعة له أقل مقاومة كهربائية ؟

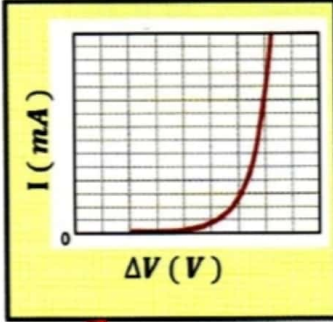
السلك B	B	السلك A	A
السلك D	D	السلك C	C





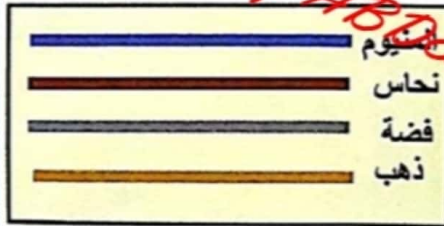
105- ما مقدار الطاقة الكهربائية المستهلكة بوحدة الجول التي يظهرها عداد الكهرباء الذي في الشكل المجاور ؟

$1.4 \times 10^6 \text{ J}$	B	$2.4 \times 10^5 \text{ J}$	A
$1.4 \times 10^9 \text{ J}$	D	$2.4 \times 10^7 \text{ J}$	C



106- يظهر الرسم البياني المجاور تغيرات فرق الجهد بين طرفي جهاز وشدة التيار المار في الجهاز ، أي الآتية صحيح ؟

- A. شدة التيار المار في الجهاز تتناسب طردياً مع فرق الجهد بين طرفيه .
- B. شدة التيار المار في الجهاز تتناسب عكسياً مع فرق الجهد بين طرفيه .
- C. $\left(\frac{\Delta V}{I}\right)$ لا تساوي مقداراً ثابتاً خلال تغيرات فرق الجهد .
- D. المقاومة الكهربائية للجهاز ثابتة خلال تغيرات فرق الجهد .



107- في الشكل المجاور أربعة أسلاك من مواد مختلفة متماثلة في الطول ومساحة المقطع ودرجة الحرارة ، أي الأسلاك الأربعة له أقل مقاومة كهربائية ؟

A	سلك الألمنيوم	B	سلك الفضة
C	سلك النحاس	D	سلك الذهب

108- في الشكل المجاور أربعة أسلاك من النحاس مختلفة في الطول ومختلفة في مساحة المقطع ولها نفس درجة الحرارة ، أي الأسلاك الأربعة له أكبر مقاومة كهربائية ؟



A	السلك 2	B	السلك 1
C	السلك 4	D	السلك 3

109- يعمل جهاز كهربائي في دائرة كهربائية مغلقة ، إذا كانت تكلفة تشغيل الجهاز لمدة (5.0 h) تساوي (1.2 AED) . احسب مقدار القدرة الكهربائية المستنفذة في الجهاز . (ثمن الكيلو واط . ساعة = 0.30 AED)

A	0.02 W	B	800 W
C	0.8 W	D	200 W



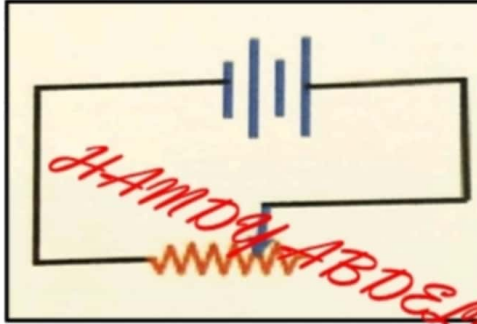
110- الشكل المجاور يبين لوحة بيانات على مكنسة كهربائية باستخدام البيانات على اللوحة ما تكلفة استخدام المكنسة لمدة 10 ساعات علماً بأن (تكلفة KW . h = 0.30 AED)

A	0.6 AED	B	6000 AED
C	6.0 AED	D	0.30 AED

111- لديك أربع أسلاك توصيل من (النحاس - الذهب - الفضة - البلاتين) ، متساوية في الطول ولهما نفس مساحة المقطع وفي درجة الحرارة نفسها . وصل كل منهما منفرداً في دائرة كهربائية مغلقة مع مصدر فرق الجهد نفسه بحيث كانت قيم التيار المارة في الأسلاك كما في الجدول . أي من الأسلاك الأربعة له أعلى مقاومة ؟

نوع مادة السلك	شدة التيار
- النحاس	0.72 A
- الذهب	0.052 A
- الفضة	0.098 A
- البلاتين	0.28 A

الأسلاك	المقاومة
A	البلاتين
B	الفضة
C	الذهب
D	النحاس



112- ما هو التأثير على مقدار التيار في الدائرة الموضحة في الشكل المجاور عند تقليل المقاومة الكهربائية لتصبح نصف ما كانت عليه ؟

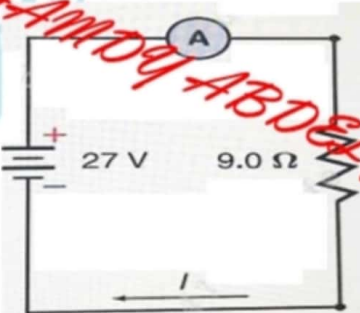
- A. يصبح مقدار التيار نصف ما كان عليه .
- B. يصبح مقدار التيار مثلي ما كان عليه .
- C. يبقى مقدار التيار ثابتاً لا يتغير .
- D. يصبح مقدار التيار أربعة أمثال ما كان عليه .

113- أي الأسلاك التالية تكون له أكبر مقاومة كهربائية ؟

- A. سلك ألومنيوم طوله 10 cm وقطره 5 cm .
- B. سلك ألومنيوم طوله 5 cm وقطره 3 cm .
- C. سلك ألومنيوم طوله 10 cm وقطره 3 cm .
- D. سلك ألومنيوم طوله 5 cm وقطره 5 cm .

114- ما هي قراءة الأميتر في الدائرة المجاورة ؟

3.0 A	B	243 A	A
0.334 A	D	24.3 A	C



115- عندما تنتقل الشحنات الكهربائية في دورة كاملة عبر دائرة كهربائية فإن التغير الكلي في طاقة وضعها يجب أن يساوي صفراً.


- ما السبب في ذلك ؟

(A) الطاقة الكلية للشحنات تقل أثناء حركتها في الدائرة الكهربائية .

(B) الشحنة الكهربائية محفوظة في الدائرة الكهربائية .

(C) الشحنة الكهربائية تقل أثناء حركتها في الدائرة الكهربائية .

(D) الطاقة الكلية للشحنات تزداد أثناء حركتها في الدائرة الكهربائية .



116- أي من العبارات التالية صحيحة بالنسبة لاتجاه تدفق الشحنات داخل موصل ؟

(A) تتدفق الشحنات الموجبة والشحنات السالبة من الجهد المنخفض إلى الجهد المرتفع .

(B) تتدفق الشحنات الموجبة من الجهد المنخفض إلى الجهد المرتفع .

(C) تتدفق الشحنات السالبة من الجهد المنخفض إلى الجهد المرتفع .

(D) تتدفق الشحنات الموجبة والشحنات السالبة من الجهد المرتفع إلى الجهد المنخفض .

A Copper

B Copper

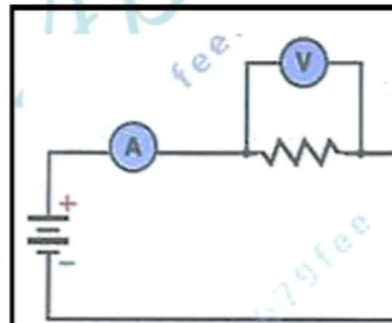
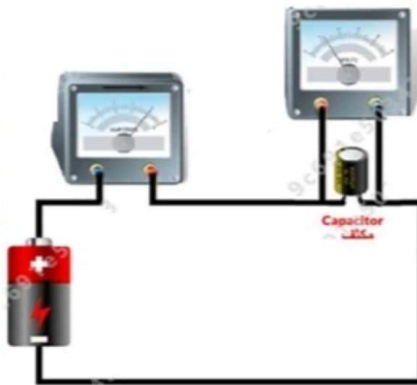
C Copper

D Copper

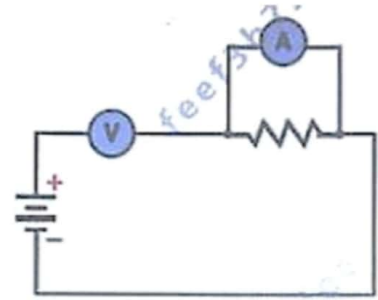
117- أي الأسلاك المصنوعة من النحاس والمبينة في الشكل له أقل مقاومة كهربائية ؟

A	السلك D	B	السلك A
C	السلك B	D	السلك C

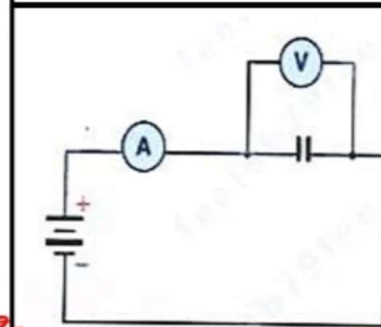
118- أي من الرسوم التخطيطية التالية يعبر بشكل صحيح عن الدائرة الكهربائية الممثلة بالشكل المجاور؟



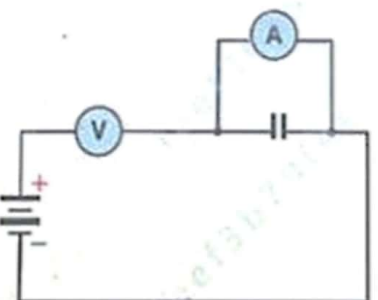
B



A



D



C



119- لم يستخدم جهاز مجزئ الجهد في الدوائر الكهربائية ؟

- (A) لقياس شدة التيار الكهربائي .
- (B) لتخزين الطاقة الكهربائية .
- (C) لقياس فرق الجهد الكهربائي .
- (D) لتغيير شدة التيار الكهربائي .

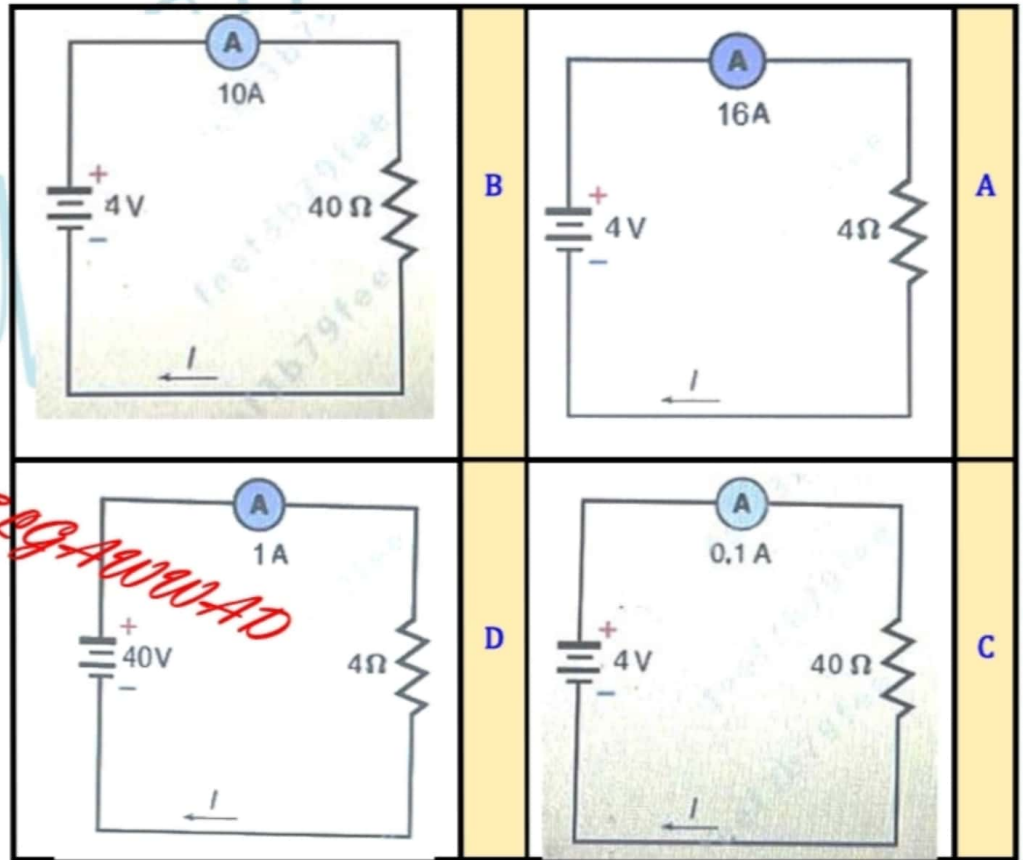
120- يبين الشكل دائرتين كهربائيتين C_1 , C_2 .

- ما طريقة التوصيل في كل من الدائرتين ؟



- (A) على التوالي في الدائرتين C_1 و C_2 .
- (B) على التوالي في الدائرة C_1 ، وعلى التوازي في الدائرة C_2 .
- (C) على التوازي في الدائرتين C_1 و C_2 .
- (D) على التوازي في الدائرة C_1 ، وعلى التوالي في الدائرة C_2 .

121- استناداً إلى قانون أوم ، أي من الدوائر الكهربائية المبينة في الأشكال الآتية تظهر قراءات صحيحة لكل من المقاومة و الجهد و التيار ؟




أجب عما يلي :



- 122- س ، ص كرتان معزولتان ، تم شحنهما بالشحنة نفسها (المقدار نفسه والنوع نفسه)
الشكل المجاور يبين كيف توزعت شحنة كل منهما .
- فسّر اختلاف توزيع الشحنة على الكرتين بالطريقة المبيّنة في الشكل ؟

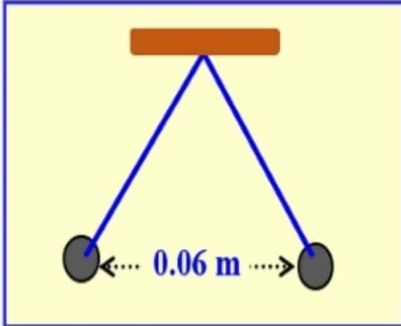
HAMDI ABDELGAUWAD

- 123- شحنتان نقطيتان ($q_1 = 30 \mu C$) ، ($q_2 = 25 \mu C$) تفصل بينهما مسافة ($r = 0.3 m$) كما هو موضح في الشكل المجاور
- احسب مقدار القوة التي تؤثر بها الشحنة الأولى على الثانية وحدد اتجاهها على الرسم .



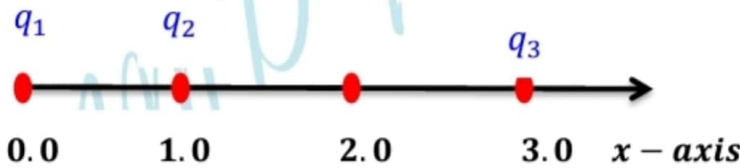
HAMDI ABDELGAUWAD

- 124- علقت كرتان صغيرتان من نخاع البيلسان بخيطين خفيفين متجاورين في الهواء البعد بينهما ($0.06 m$) ، عند شحن الكرتين بشحنتين متماثلتين تنافرتا بقوة مقدارها ($40 N$) .
- احسب كمية الشحنة على كل من كرتي نخاع البيلسان ؟



HAMDI ABDELGAUWAD

- 125- في الشكل المجاور ثلاث شحنات ($q_1 = 10.0 \mu C$) ، ($q_2 = -20.0 \mu C$) ، ($q_3 = 30.0 \mu C$) . تقاس المسافات على محور x الموجب بالمتر m . احسب مقدار القوة الكهربائية المؤثرة على الشحنة q_3 ؟

1.05 N في اتجاه محور x السالب

HAMDI ABDELGAUWAD

$$1.7 \times 10^{-20} \text{ N}$$

126- ما مقدار القوة الكهربائية المتبادلة بين الشحنتين في الشكل ؟


$$5.0 \times 10^{-16} \text{ C}$$



$$6.0 \times 10^{-16} \text{ C}$$



0.4m



HAMDY ABDELGAUWAD

$$6.0 \text{ N}$$

في اتجاه اليسار

127- ثلاث كرات مشحونة في المواقع الموضحة في الشكل ، ماهي القوة المحصلة المؤثرة على الكرة B ؟

$$-8.5 \times 10^{-6} \text{ C}$$



$$+3.1 \times 10^{-6} \text{ C}$$



$$+6.4 \times 10^{-6} \text{ C}$$



0.4 m

0.2 m



HAMDY ABDELGAUWAD

128- شحنتان (A, B) مقدار كل منهما (20.0 μC) بينهما مسافة (0.05 m) كما يظهر في الشكل .

$$F = 1440 \text{ N}$$

- ما مقدار القوة المتبادلة بين الشحنتين ؟

الكرة A



الكرة B

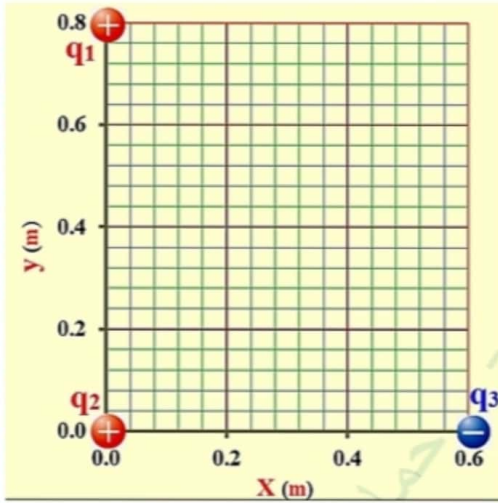


0.05m



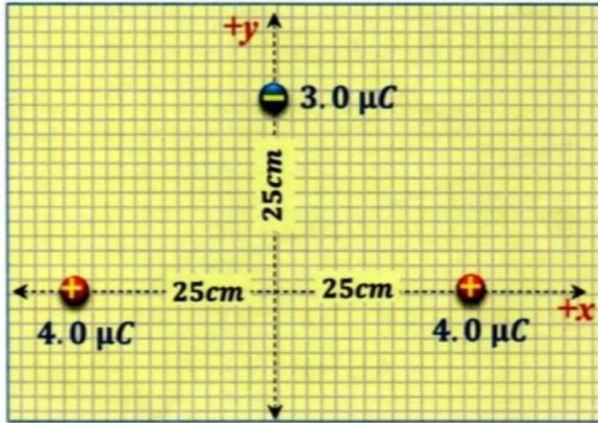
HAMDY ABDELGAUWAD

129- اعتماداً على الشكل المجاور إذا كانت $(q_1 = -4nC)$ ، $(q_2 = +6nC)$ ، $(q_3 = +8nC)$ احسب مقدار القوة التي تؤثر في الشحنة (q_3) و حدد اتجاهها ؟



HAMDY ABDELGAWWAD

130- وضعت ثلاث شحنات كهربائية نقطية كما في الشكل المجاور .
1- احسب القوة الكهربائية المحصلة المؤثرة في الشحنة $(-3.0 \mu C)$ ؟

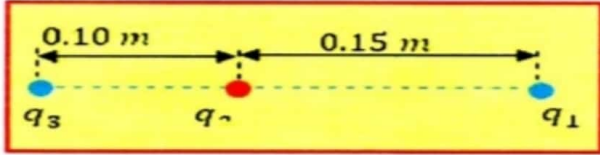


HAMDY ABDELGAWWAD

2- أوجد اتجاه القوة الكهربائية المحصلة المؤثرة في الشحنة $(-3.0 \mu C)$ ؟

HAMDY ABDELGAWWAD

131- وضعت ثلاث شحنات كهربائية نقطية في الفراغ كما في الشكل المجاور ، إذا كانت $(q_1 = -4.5 \mu C)$ ، $(q_2 = 10 \mu C)$ ، $(q_3 = -1.5 \mu C)$.



1- احسب مقدار القوة الكهربائية المؤثرة في الشحنة الموجبة (q_2) ؟

HAMDY ABDELGAUWAD

2- ارسم سهمًا على الشكل نفسه يمثل اتجاه حركة الشحنة الموجبة فيما لو تركت حرة ؟



132- يقع الإلكترون بالقرب من بروتون وعلى مسافة (r) منه كما في الشكل المجاور .

1- ما نوع القوة الكهربائية بينهما

2- قارن بين القوة الكهربائية المؤثرة في الإلكترون بالقوة الكهربائية المؤثرة في البروتون

من حيث :

❖ المقدار :

❖ الاتجاه :

3- إذا زيدت المسافة لتصبح $(2r)$ فماذا يطرأ على كل من مقدار واتجاه القوة الكهربائية المؤثرة في الإلكترون ؟

HAMDY ABDELGAUWAD

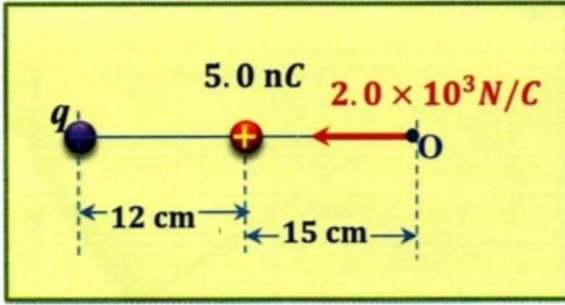
133- شحنتان نقطيتان مقدارهما $(q_1 = +4.0 \mu C)$ ، $(q_2 = -8.0 \mu C)$ على الترتيب والمسافة بينهما (4.0 cm) .

- احسب مقدار شدة المجال الكهربائي في منتصف المسافة بين الشحنتين ؟

$$2.7 \times 10^8 \text{ N/C}$$

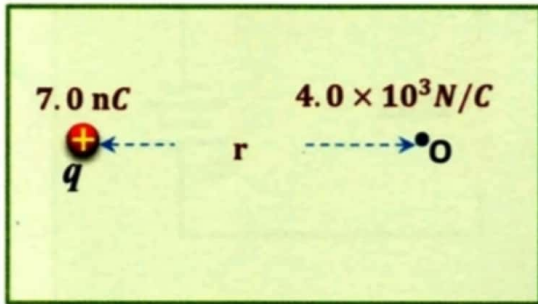
HAMDY ABDELGAUWAD

134- يظهر الشكل المجاور مقدار واتجاه شدة المجال الكهربائي المؤثر في شحنة اختبار موجبة وضعت عند النقطة O بالقرب من شحنتين نقطيتين ، احسب مقدار الشحنة q وحدد نوعها ؟



HAMDY ABDELGAUWAD

135- يظهر الشكل المجاور مقدار شدة المجال الكهربائي عند النقطة O في مجال كهربائي لشحنة كهربائية q، اعتماداً على الشكل المجاور




- ارسم متجه شدة المجال الكهربائي عند النقطة O على الشكل ؟
- احسب بعد النقطة O عن الشحنة q ؟

HAMDY ABDELGAUWAD

- احسب مقدار القوة الكهربائية المؤثرة في بروتون وضع عند النقطة O ؟

HAMDY ABDELGAUWAD

136- يظهر الشكل المجاور شحنة موجبة مقدارها $(1.6 \times 10^{-12} \text{ C})$ وضعت في مجال كهربائي منتظم مقداره $(2.0 \times 10^2 \text{ N/C})$ واتجاهه نحو الشرق .



- احسب مقدار القوة الكهربائية التي يؤثر بها المجال الكهربائي على الشحنة ؟

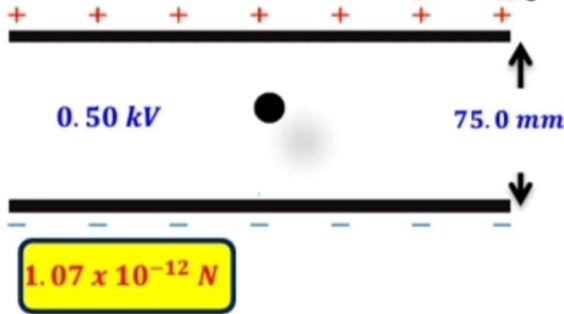
HAMDY ABDELGAUWAD

- ما اتجاه القوة الكهربائية المؤثرة في الشحنة ؟

- 137- يؤثر مجال كهربائي بقوة مقدارها $(2.0 \times 10^{-4} N)$ في شحنة اختبار موجبة مقدارها $(5.0 \times 10^{-6} C)$.
- ما مقدار المجال الكهربائي عند موقع شحنة الاختبار ؟

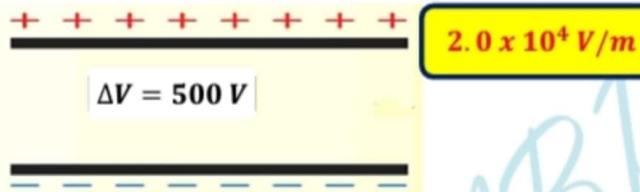
HAMDY ABDELGAUWAD

- 138- في تجربة قطرة الزيت ، تم تعليق قطرة تحمل شحنة $(-1.6 \times 10^{-16} C)$ بدون حركة عندما كان فرق الجهد بين اللوحين اللذان يبعدان عن بعضهما البعض مسافة $(75.0 mm)$ يساوي $(0.50 kV)$. ما هو وزن القطرة ؟



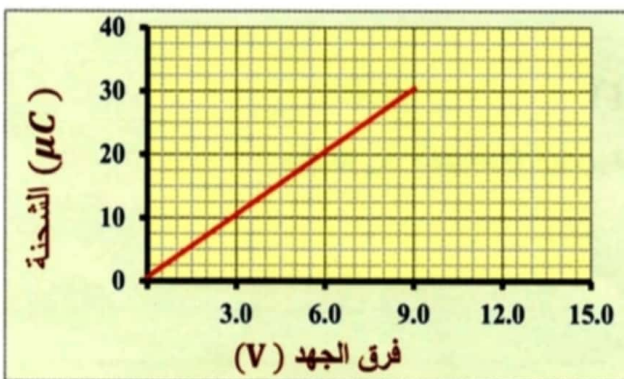
HAMDY ABDELGAUWAD

- 139- فرق الجهد بين نقطتين في مجال كهربائي منتظم يساوي $(500 V)$ ، والبعد بين النقطتين $(2.5 cm)$.



- ما مقدار شدة المجال الكهربائي ؟

HAMDY ABDELGAUWAD



- 140- يظهر الرسم البياني جزء من تغيرات فرق الجهد الكهربائي والشحنة

الكهربائية لمكثف كهربائي أثناء عملية شحن صفيحتي المكثف .

- احسب الشحنة الكهربائية الكلية على إحدى صفيحتي المكثف

- عندما يصبح فرق الجهد بين الصفيحتين $(13.8 V)$

HAMDY ABDELGAUWAD

141- صفيحتان متوازيتان فرق الجهد بينهما يساوي (12.0 V) .

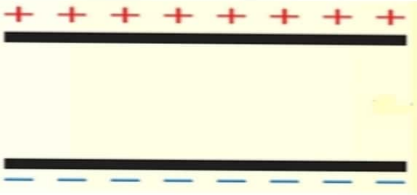
- ما مقدار الشغل المبذول على بروتون لنقله من الصفيحة السالبة إلى الصفيحة الموجبة ؟

$$1.9 \times 10^{-18} \text{ J}$$

HAMDY ABDELGAUWAD

142- يظهر الشكل المجاور مكثف كهربائي مكون من صفيحتين متوازيتين مشحونتين ، المسافة الفاصلة بينهما (0.02 m) ، وفرق الجهد الكهربائي بينهما (240 V) .

- احسب شدة المجال الكهربائي بين صفيحتي المكثف ؟



- احسب مقدار الشغل اللازم لتحريك الإلكترون من الصفيحة الموجبة إلى الصفيحة السالبة من المكثف ؟

HAMDY ABDELGAUWAD

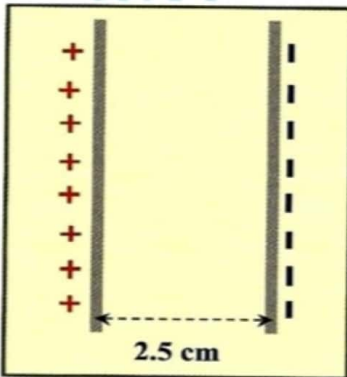
- إذا علمت أن سعة المكثف ($2.0 \times 10^{-8} \text{ F}$) ، فاحسب مقدار الشحنة على إحدى صفيحتي المكثف ؟

HAMDY ABDELGAUWAD

143- في الشكل المجاور صفيحتا مكثف مشحون فرق الجهد الكهربائي بينهما (20 V)

ارسم خطوط المجال الكهربائي بين الصفيحتين .

احسب شدة المجال الكهربائي بين الصفيحتين .



HAMDY ABDELGAUWAD

- 144- مكثف كهربائي يتكون من صفيحتين متوازيتين تحمل كل منهما شحنة مقدارها $(6.0 \mu C)$ وفرق الجهد بينهما $(18 V)$ - أوجد النسبة بين الشحنة التي تحملها إحدى صفيحتي المكثف وفرق الجهد بين الصفيحتين $(\frac{q}{\Delta V})$.

HAMDY ABDELGAUWAD

- ما اسم الكمية الفيزيائية الناتجة في الفقرة السابقة و ما اسم وحدتها المكافئة للوحدة $(C \cdot V^{-1})$

- 145- جهاز كهربائي حراري مقاومته (15Ω) ويعمل بفرق جهد $(30V)$.
- ما مقدار الطاقة الحرارية التي ينتجها الجهاز خلال (5 min) بوحدة الجول

1.8×10^4

HAMDY ABDELGAUWAD

- 146- مصباح كهربائي مقاومته (100Ω) موصول بمصدر كهربائي $(220 V)$.
- ما شدة التيار الذي يسحبه المصباح الكهربائي؟

$2.2 A$

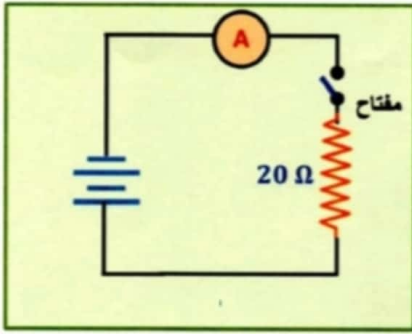
HAMDY ABDELGAUWAD

- 147- يحتوي الجدول أدناه على قائمة لبعض الأجهزة الكهربائية وقيم فرق الجهد والمقاومة الكلية لكل منهما .
- ما مقدار شدة التيار المار في التلفون ؟ وما قدرة الكمبيوتر ؟

الجهاز	فرق الجهد (V)	المقاومة (Ω)
تلفون	24	12
كمبيوتر	220	30
خلاط	110	45

$I = 2.0 A$
 $P = 1.6 \times 10^3 W$

HAMDY ABDELGAUWAD



148- عند غلق المفتاح في الدائرة الكهربائية المجاورة يمر في الأميتر تيار شدته $(0.40 A)$.
- ما مقدار فرق الجهد بين طرفي المقاوم $(R = 20 \Omega)$ ؟

8.0 V

HAMDY ABDELGAUWAD

- احسب الطاقة الحرارية الناتجة في المقاوم بعد نصف ساعة من غلق المفتاح ؟

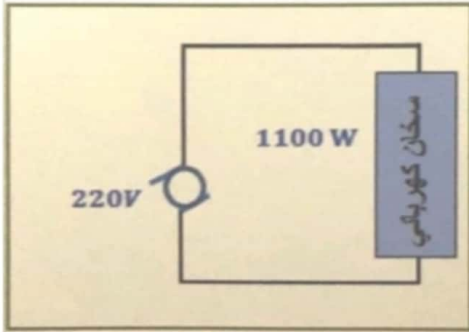
5.7 KJ

HAMDY ABDELGAUWAD

149- غلاية كهربائية قدرتها $(120 W)$ متصلة بخط كهرباء فرق جهده $(12 V)$.
- ما التيار الذي تسحبه الغلاية ؟

10.0 A

150- يظهر الشكل المجاور مصدر كهربائي فرق جهده $(220 V)$ ، موصول بسخان كهربائي قدرته $(1100 W)$.
- احسب شدة التيار الكهربائي المار في السخان ؟



HAMDY ABDELGAUWAD

- احسب مقدار الطاقة الحرارية التي ينتجها السخان خلال 30 دقيقة ؟

HAMDY ABDELGAUWAD

151- مقلدة هوائية قدرتها $(1800 W)$ تم توصيلها بمصدر يولد فرقاً في الجهد مقداره $(230 V)$. ما التيار المار في المقلدة ؟

7.8 A

HAMDY ABDELGAUWAD

152- مصباح يدوي مقاومته (2.0Ω) موصل ببطارية بحيث تكون شدة التيار المار في المصباح ($1.5 A$) .

- ما مقدار الطاقة التي يحولها المصباح خلال ($10.0 s$)

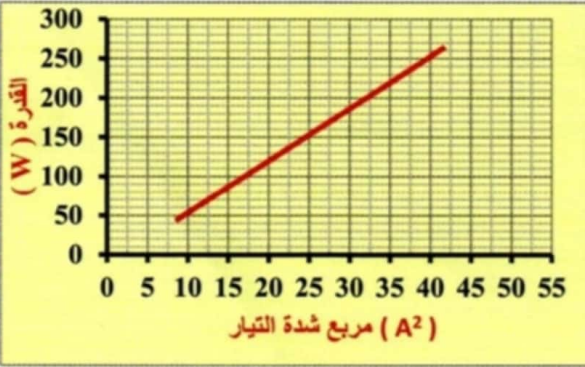
30.0 J

HAMDY ABDELGAUWAD

153- مدفأة كهربائية يمر فيها تيار شدته ($7.0 A$) عندما يكون فرق الجهد الكهربائي بين طرفيها ($200 V$) .

- احسب الطاقة الحرارية التي تنتجها المدفأة خلال ساعة بوحدة الجول ؟

HAMDY ABDELGAUWAD



154- يظهر الرسم البياني المجاور تغيرات مربع شدة التيار والقدرة الكهربائية

المستهلكة خلال مقاوم كهربائي يتم تغير فرق الجهد بين طرفيه .

- ماذا يمثل ميل الخط البياني في الرسم ؟

- احسب فرق الجهد الكهربائي بين طرفي المقاوم عندما يمر فيه تيار ($6.32 A$) ؟

HAMDY ABDELGAUWAD