



ورقة عمل
(الأنظمة في الحيوانات)
التعلم المتمايز

المجلس التعليمي 2 نطاق 5
مدرسة الشیخة ميرة بنت محمد
السويدي للتعليم الأساسي ح1

اسم الطالب :

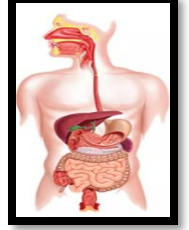
الصف الرابع ()

نواتج التعلم : _ التعرف على الأنظمة في الحيوانات

مهارة
المقارنة

□ أيها العالم الصغير صل نوع الجهاز مع الصورة المناسبة

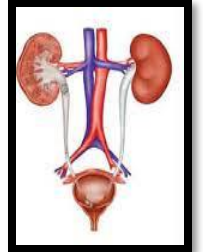
الهيكل العظمي



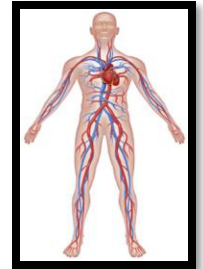
الجهاز الهضمي



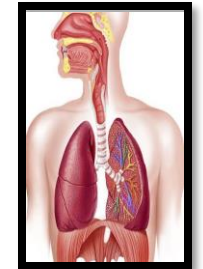
جهاز الاخراج



الجهاز التنفسي



الجهاز الدوري





ورقة عمل
(الأنظمة في الحيوانات)
التعلم المتمايز

المجلس التعليمي 2 نطاق 5
مدرسة الشیخة ميرة بنت محمد
السويدي للتعليم الأساسي ح1

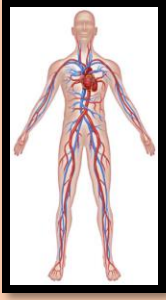
اسم الطالب :
الصف الرابع ()
نواتج التعلم : - التعرف على الأنظمة في الحيوانات
- تحديد وظائف الأجهزة

مهارة
المقارنة

أيها العالم الصغير اكتب اسم الجهاز فوق الصورة الدالة عليه و حدد وظائفه

الجهاز

وظيفته



.....
.....
.....

الجهاز

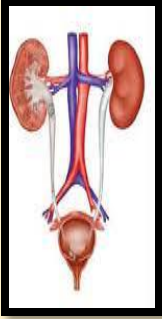
وظيفته



.....
.....
.....

الجهاز

وظيفته



.....
.....
.....

الجهاز

وظيفته



.....
.....
.....

الجهاز

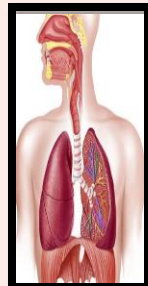
وظيفته



.....
.....
.....

الجهاز

وظيفته



.....
.....
.....