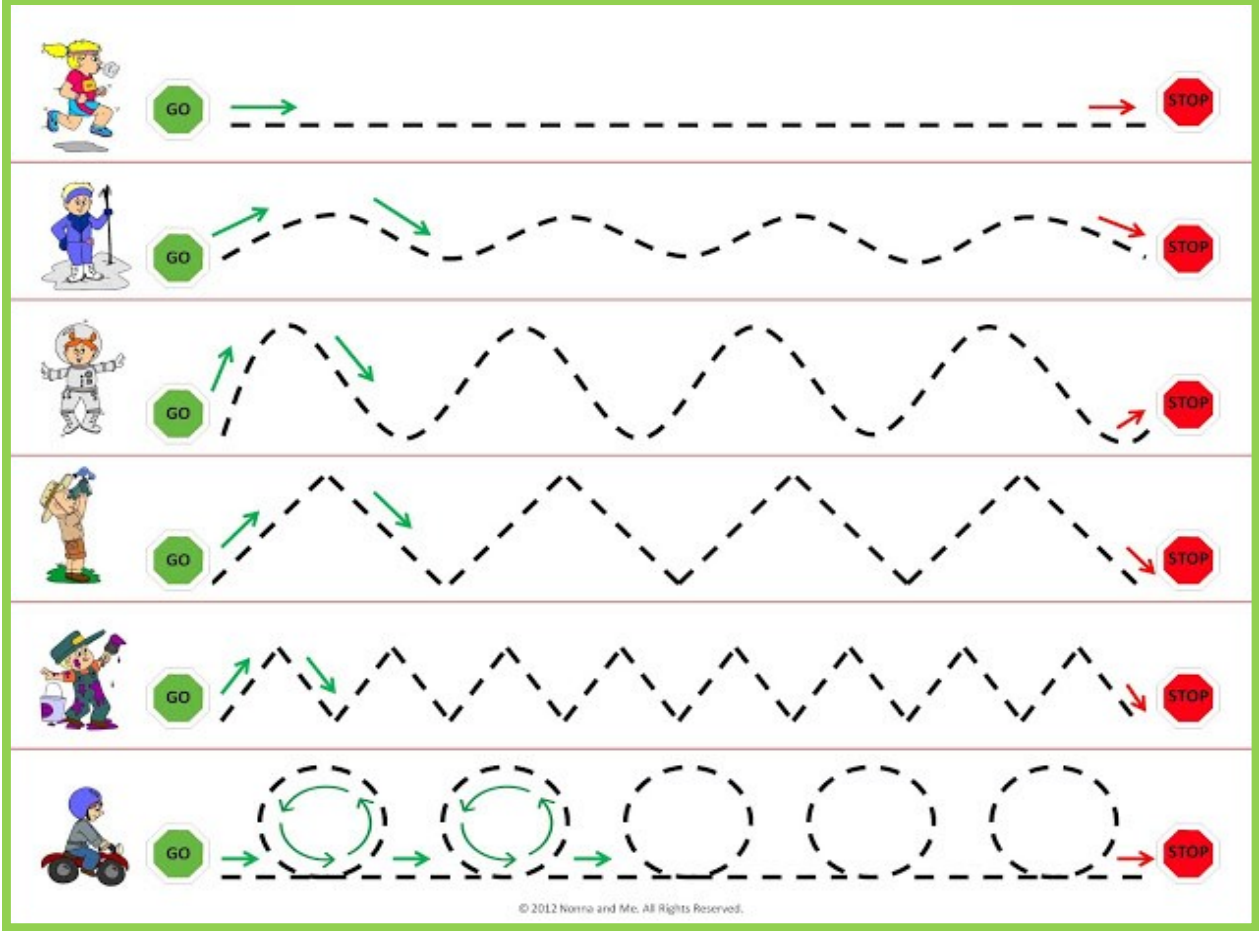




اعداد المعلمة : خديجة محمد

الاسم : ..... أول : .....

أولاً : تتبع الخطوط



ثانياً : أعد و اكتب العدد



.....

.....

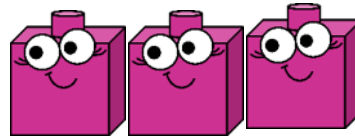

ثالثاً: أحوط الشكل الذي يوضح الكرة ( فوق ) الطاولة



رابعاً: أحوط الشكل الأطول



خامساً: أحوط جملة الجمع العددية الموضحة




$$5 - 3 = 2$$

$$2 + 3 = 5$$

$$3 - 3 = 0$$

سادساً: أحوط جملة الطرح العددية الموضحة



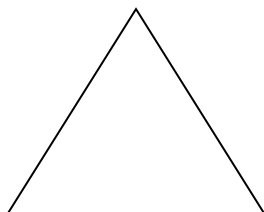


$$6 + 2 = 8$$


$$8 - 6 = 2$$

$$8 - 2 = 6$$

سابعاً : ألون المثلث باللون الأحمر ، والمستطيل باللون الأزرق



ثامناً : أكمل السلسلة العددية



تاسعاً : حوط الصورة المناسبة للمفردة



أكبر



أقل

