

هل أنا مستعد؟

الاسم

أقرب

1. $126 \times 30 = 3780$

2. $12 \times 28 =$

3. $320 \times 10 = 3200$

حجز مسارات البولينغ	
AED 12	المسار الواحد

$$\begin{array}{r} + 128 \times \\ 12 \\ \hline + 56 \\ + 28 \text{ @} \\ \hline 336 \end{array}$$

4. كم سبتكلف أسامة كي
بحجز 13 مسارا؟

$$\begin{array}{r} 336 \\ \times 13 \\ \hline 1008 \\ + 10080 \\ \hline 4368 \end{array}$$

$$\begin{array}{r} 12 \times \\ 13 \\ \hline 36 \\ + 120 \text{ @} \\ \hline 156 \end{array}$$

5. $114 \div 6 = 19$

6. $84 \div 4 = 21$

7. $1500 \div 10 = 150$

8. أنفق أحمد مبلغ AED 216 على شراء 4 معاطف. فإذا كان كل معطف يكلف المبلغ نفسه، أوجد تكلفة المعطف الواحد.

$$\begin{array}{r} 54 \\ 4 \overline{) 216} \\ - 20 \\ \hline 016 \\ - 16 \\ \hline 00 \end{array}$$

AED 54

قرب كل عدد عشري إلى أقرب عدد كلي.

9. 2.7 3

10. 0.7 1

11. 18.2 18

12. 6.34 6

13. 9.8 10

14. 9.4 9

ظلل المربعات لتوضيح المسائل التي أجبت عنها إجابة صحيحة.

1	2	3	4	5	6	7	8	9	10	11	12	13	14
---	---	---	---	---	---	---	---	---	----	----	----	----	----

كيف أبلت؟

حقل عامل 16 صندوقًا على شاحنة.
يزن كل صندوق 28.5 كيلوجرامًا.
فكم العدد التقريبي للكيلوجرامات التي حُملت
على الشاحنة؟

قدّر ناتج ضرب 28.5 في 16.

استخدم الأعداد المتوافقة.

1

من الأسهل إيجاد إجابة
 30×20 من إيجاد إجابة
 30×16

$$28.5 \times 16$$

$$\boxed{} \times 20$$

$$30 \times 20 =$$

$$\boxed{}$$

2 اضرب.

إذًا، 28.5×16 يساوي تقريبًا _____.

شرح كيفية تقريبه
إلى أقرب 18.9

تمرين موجه

قدّر كل ناتج ضرب.

1. $2 \times \text{AED } 4.10$

$$2 \times 4 = 8$$

2. 18.4×10

$$18 \times 10 = 180$$

3. 19.8×3

$$20 \times 3 = 60$$

4. $5 \times \text{AED } 214$

$$5 \times 2 = 10$$

تمارين ذاتية

تقدير كل ناتج ضرب.

5. $4 \times \text{AED } 4.62$

$$4 \times 5 = 20$$

6. $3 \times \text{AED } 23.07$

$$3 \times 23 = 69$$

7. $\text{AED } 15.50 \times 6$

$$16 \times 6 = 96$$

8. $\text{AED } 16.85 \times 9$

$$17 \times 10 = 170$$

9. 7.2×5

$$7 \times 5 = 35$$

10. 14.5×3

$$15 \times 3 = 45$$

11. 9×19.7

$$10 \times 20 = 200$$

12. 11×26.2

$$10 \times 26 = 260$$

13. $\text{AED } 0.89 \times 14$

$$1 \times 14 = \text{AED } 14$$

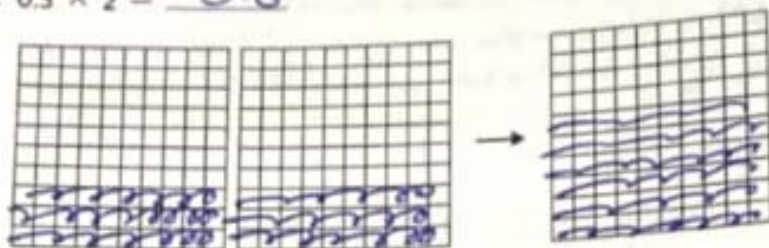
14. 18.8×13

$$20 \times 15 = 300$$

التدريب

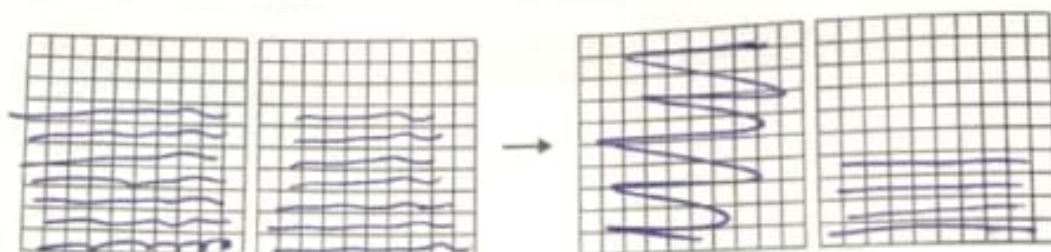
فكّل النماذج لإيجاد كل ناتج ضرب.

3. $0.3 \times 2 = 0.6$

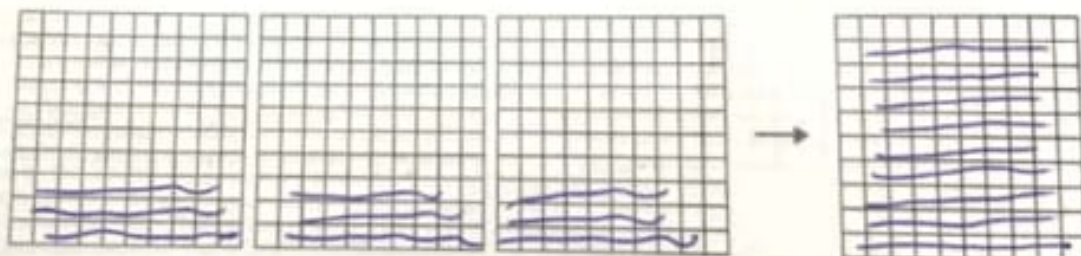


معلمة تأسيس
تخصص رياضيات
وعلم
مناهج الوزارة
تدريس جميع المواد
عجمان
0508520683

4. $2 \times 0.7 = 1.4$



5. $0.3 \times 3 = 0.9$



6. $3 \times 0.1 = 0.3$

