

















السؤال الرابع :استخدم التمثيل البياني في الاجابة عن الاسئلة

الفاكهة المفضلة						
 برتقال						
 تفاح						
 موز						

1- كم شخصا اختار التفاح ؟ -----

2- هل من اختاروا البرتقال أكثر أم من اختاروا الموز ؟ -----

3- كم ينقص عدد من اختاروا البرتقال عن من اختاروا الموز ؟ -----

4- كم شخصا شارك في استطلاع الرأي ؟ -----

السؤال الخامس :ضع خطا تحت ما تعرفه و ارسم دائرة حول ما تريد إيجاده

لدينا 4 أطباق . في كل منها تفاحتين . كم تفاحة لدينا إجمالا ؟

تفاحات -----

**السؤال الخامس : استخدم تمثيل البياني بالأعمدة في الإجابة عن الأسئلة**

## النشاط الرياضي المفضل


الركض القفز الضغط السباحة

(1) كم شخصا اختار الركض ؟-----

(2) كم يزيد عدد من اختاروا القفز عن من اختاروا الضغط ؟ -----.

(3) كم شخصا شارك في استطلاع الرأي؟-----