

الوحدة الثالثة: الحيوانات نماذج أسئلة اختبارات

اختر الإجابة الصحيحة:

ما الحيوان الذي يعيش في الماء دائماً:	السلمندر	الأفعى
أي مما يلي تتغذى صغارها على الحليب:	الضفدع	العصفور
أي مما يلي حشرة:	العنكبوت	دودة الأرض
ما الحيوان اللاقاري:	الدودة	الزرافة
تستخدم الطيور الجناحان لتساعدها على:	الطيران	تناول الطعام
الفرو والوبر والصوف يغطي أجسام:	الطيور	الثدييات
أجزاء تساعد الأسماك في التنفس تحت الماء:	الخياشيم	الفم
المراحل التي تمر بها الحيوانات من الولادة إلى الممات تسمى:	دورة الماء	دورة الحياة
الحشرات لها:	6 أرجل	3 أرجل
أجزاء من جسم السمكة تساعدها على الحركة في الماء:	الزعانف	الأرجل
أي حيوان من البرمائيات:	القط	السمكة

ما الذي تحتاج إليه جميع الحيوانات للبقاء على قيد الحياة:

الغذاء والماء		الهواء والمأوى		مكان للعيش		جميع ما سبق ذكره
---------------	--	----------------	--	------------	--	------------------

يعد السلمندر من:

البرمائيات		الزواحف		الثدييات
------------	--	---------	--	----------

الكائنات الحية الوحيدة التي يكسوها الريش هي:

الثدييات		الطيور		الأسماك
----------	--	--------	--	---------

ليست الطيور وحدها هي الكائنات الحية التي تفقس من البيض. توجد كائنات أخرى تفقس أيضاً من البيض:

الخفافيش		الأرنب		التماسيح
----------	--	--------	--	----------

ما الذي يساعد الخنفساء على البقاء في مأمن من أعدائها:

الجناحين		القشرة الخارجية		قرون الاستشعار		الأرجل
----------	--	-----------------	--	----------------	--	--------

ماذا يسمى الضفدع الصغير الذي يفقس من البيض:

الحرشوف		السرعوف		الشرغوف		أبو زببية
---------	--	---------	--	---------	--	-----------

مجموعة الحيوانات التي تنتج إنثاءها الحليب لتغذية صغارها هي مجموعة:

الطيور		الثدييات		البرمائيات		الزواحف
--------	--	----------	--	------------	--	---------

يصنف العلماء الحيوانات إلى مجموعتين وفقاً لـ:

الأرجل		الريش		الحراشف		العمود الفقري
--------	--	-------	--	---------	--	---------------

أي من التالي حيوان برمائي:

السمة		الأفعى		السحلية		التمساح
-------	--	--------	--	---------	--	---------

أي من التالي حيوان فقاري:

حشرة		دودة الأرض		عقرب		سمكة
------	--	------------	--	------	--	------

أي حيوان مما يلي لا ينتمي لمجموعة الحيوانات الأخرى:

النملة		الذبابة		العنكبوت		الصرصور
--------	--	---------	--	----------	--	---------

تتوقع ماذا سيحدث للحيوانات لو لم تجد لها ماء ولا غذاء ولا مأوى:

لا تتأثر		تبقى على ماهي عليه		تصبح غير قادرة على العيش
----------	--	--------------------	--	--------------------------


يطلق على مظهر الحيوانات وسلوكها:

الولادة

الصفة الوراثية

الأم

تبين الصورة:



دورة حياة النبات

دورة حياة حيوان

أي جزء من جسم السلحفاة يحميها من الأعداء

الصدفة

الباندا

الدولفين

كل مراحل حياة الحيوان تسمى:

دورة حياة

فترة حياة

مراحل نمو

المدة التي يقضيها الحيوان من ولادته حتى مماته:

دورة حياة

فترة حياة

مراحل نمو

يغطي جلد الزواحف:

جلد ناعم رطب

حراشيف

قشور

تعتبر الأسماك من الحيوانات:

الفقارية

اللافقارية

المائية

الأسماك يغطي جسمها:

الحراشيف

القشور

الجلد

يتكون جسم الحشرة من أقسام

ثلاثة

أربعة

ستة

حيوانات ذات جلد ناعم ورطب تنتقل بين الماء واليابسة

الثدييات

البرمائيات

الأسماك

الحشرات وقنديل البحر من الحيوانات:

الفقارية

اللافقارية

البرمائيات

الطيور والأسماك من الحيوانات:

الفقارية

اللافقارية

دورة الحياة

حيوانات لها عمود فقري:
الأسد

دودة الأرض

اليغسوب

حيوانات ليس لها عمود فقري:
التمساح

النمر

الخنفساء

حوط الحيوان الذي ينتمي إلى مجموعة البرمائيات:




حوط الكائن الحي الذي يكسوه الريش:



حوط الجزء من الحشرة الذي يساعد على الشعور والتذوق والشم



حوط الجزء الذي تتحرك به الأسماك وتسبح في الماء



حوط ما تحتاجه الحيوانات لتنمو وتكبر



ضع علامة صح على العبارة الصحيحة وعلامة خطأ على العبارة الخاطئة:

تبدأ معظم البرمائيات حياتها على اليابسة	
الطيور يكسوها جلد خشن وحرشفي	
الكائنات الحية تنمو وتتغير	
تقوم الحيوانات بصنع غذائها بنفسها	
تتشابه الحيوانات في غطاء جسمها	
يعتبر السلمندر من البرمائيات	
يكسو الطيور الريش وتمتلك أجنحة	
تتنفس الأسماك بالرئتين	
تحتوي الحيوانات الفقارية على عمود فقاري	
يعتبر الضفدع من الزواحف	
تنتمي القطط إلى الثدييات	
الطيور هي الحيوانات الوحيدة التي تفقس من البيض	
عدد الحيوانات اللافقارية أكثر من عدد الحيوانات الفقارية	
يمتلك قنديل البحر درع صلب ويلسع الحيوانات الأخرى	
المدة التي يقضيها الحيوان من ولادته إلى مماته تسمى دورة الحياة	
كل الحيوانات الفقارية تتنفس بالرئتين في صغرها ما عدا الأسماك تتنفس بالخياشيم	
الجمل من الحيوانات التي ليس لها عظام	

الأسماك حيوانات تعيش في الماء	
يفقس أبو ذنبية من بيضة الضفدع	
تتنفس الأسماك بالرئتين	
السحفاة من الزواحف	
الحشرات من الحيوانات الفقارية	
الديدان حيوانات لها أجسام طرية	
الأسماك من الحيوانات التي تعيش في الصحراء	
الأفعى والحرباء والسحفاة من الطيور	
تكسو الطيور الريش ولها أجنحة	
تتنفس الأسماك من الخياشيم	
الضفدع من الزواحف	
تحتوي الحيوانات الفقارية على عمود فقري	

رتب دورة حياة الضفدع بتسلسل من 1 إلى 5 في المكان المناسب:









حوط الحيوان الذي لا ينتمي للمجموعة أفقياً :

التمساح	البقرة	الكلب	الجمل
السحفاة	الفراشة	التمساح	الثعبان
الدجاجة	العصفور	الخروف	البطة















صل بين الحيوان ومجموعة الحيوانات المناسبة:

الطيور	السلندر
الزواحف	النمر
الثدييات	الصقر
الأسماك	السلحفاة
البرمائيات	السمة
	الضفدع

صنف الحيوانات على حسب المجموعات:

					
لا فقاريات			فقاريات		

صنف الحيوانات التالية في الجدول:

الثدييات	الزواحف	الطيور	البرمائيات	الحشرات	الأسماك

اقرأ الكلمات التالية وصنفها في الجدول المناسب

الأسماك	الحشرات	الثدييات
الديدان	البرمائيات	الطيور

عمود فقري	بدون عمود فقري

ضع الكلمة المناسبة في المكان المناسب:



الأسماك	دورة الحياة	الحشرات	البرمائيات	الثدييات
---------	-------------	---------	------------	----------

- تسمى مراحل حياة الحيوان
- ترضع صغارها الحليب ويغطي جسمها الشعر أو الفرو
- تتنفس بالخياشيم ويغطي جسمها القشور
- تبدأ حياتها في الماء ثم تنتقل إلى اليابسة
- تمتلك 6 أرجل وقرنان استشعار وقشرة خارجية صلبة

رتب مراحل حياة الثعلب



حوط الحيوان الفقاري



صل الحيوان بالمجموعة المناسبة



فقاريات

لا فقاريات

ضع علامة + على مربع الصور التي تنتمي لمجموعة الثدييات.



صل بين المفردة وما يناسبها:



الطيور



الزواحف



البرمائيات



الأسماك



الثدييات



الحشرات



الزواحف

